

1ねんせいのさんすう
 のこりはいくつ(1)

な
ま
え

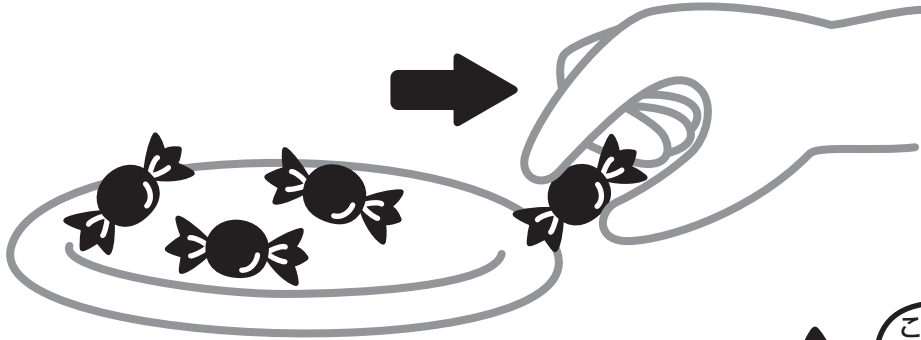
が
つ に
ち

10までの引き算 対象：1年生 ねらい：10以内の数から、残りを求めるのに、引き算を使えるようになる。

てん

のこりはいくつになるかな？

学習プリント無料ダウンロード
 ちびむすドリル
 © ちびむすドリル



● なぞりましょう。



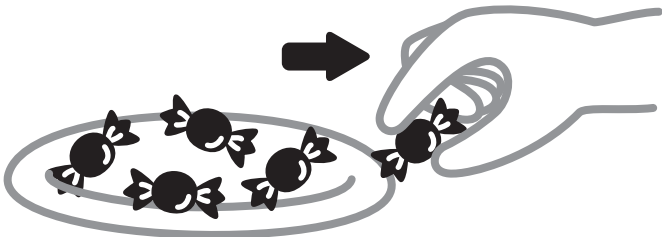
しき $4 - 1 = 3$

ひく は

こたえ 3 こ


1 5こから、1ことると、のこりは4こになります。

しきをかきましょう。^{20てん} しき



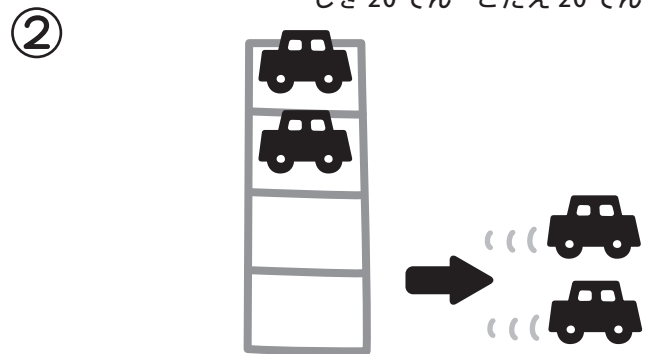
こたえ 4 こ

2 のこりはいくつになりますか。しきとこたえをかきましょう。
 しき20てん こたえ20てん (80)



しき

こたえ ほん



しき

こたえ だい

1ねんせいのさんすう
のこりはいくつ(2)

な
ま
え

が
つ に
ち



10までの引き算 対象：1年生 ねらい：10以内の数どうしの、差を求めるのに、引き算を使えるようになる。

てん

学習プリント無料ダウンロード
ちびむすドリル
©ちびむすドリル



ちがいはいくつかな？



は よりいくつおいでしょうか。

●なぞりましょう。

しき $5 - 3 = 2$


ひく

は



こたえ 2 こ


1 と のかずのちがいはいくつですか。しき 25 てん
こたえ 25 てん (50)
しきとこたえをかきましょう。



しき

こたえ だい

2 えんぴつが 6ほん, あか くれよんが 4ほん あります。
どちらが なんほん おいでしょうか。しき 25 てん
こたえ 25 てん (50)



しき

こたえ が

 ほん おい。

1ねんせいのさんすう
のこりはいくつ(3)

な
ま
え

がつ にち

10までの引き算 対象：1年生 ねらい：10以内の数からの引き算が出来るようになる。問題文を読んで式を立て答えられるようになる。

てん

学習プリント無料ダウンロード
ちびむすドリル
©ちびむすドリル



1 ひきざんをしましょう。1つ5てん (60)

<れい> $3 - 2 = 1$

① $5 - 3$

⑦ $5 - 2$

② $4 - 2$

⑧ $4 - 1$

③ $5 - 1$

⑨ $3 - 1$

④ $6 - 3$

⑩ $6 - 2$

⑤ $4 - 3$


⑪ $5 - 4$

⑥ $6 - 5$

⑫ $6 - 4$

2 りんごが9こあります。ちいさなりんごは5こです。

おおきなりんごはなんこありますか。しき20てん
こたえ20てん (40)



しき

こたえ

こ

1ねんせいのさんすう
のこりはいくつ(4)

な
ま
え

が
つ に
ち

10までの引き算 対象：1年生 ねらい：10以内の数からの引き算が出来るようになる。問題文を読んで式を立て答えられるようになる。

てん

学習プリント無料ダウンロード
ちびむすドリル
© ちびむすドリル



1 ひきざんをしましょう。1つ5てん (60)

<れい> $7 - 1 = 6$

① $8 - 3$

⑦ $8 - 2$

② $7 - 5$

⑧ $10 - 7$

③ $10 - 2$

⑨ $9 - 5$

④ $9 - 3$

⑩ $8 - 4$


⑤ $7 - 3$

⑪ $7 - 6$

⑥ $10 - 5$

⑫ $9 - 2$

2 こびとが7にんいます。3にんかえりました。^{しき20てん}_{こたえ20てん} (40)
のこりはなんにんになりましたか。



しき

こたえ にん

1ねんせいのさんすう
のこりはいくつ(5)

なまえ

がつ にち


10までの足し算 対象：1年生 ねらい：10以内の数から0を含む数を引く、引き算が出来るようになる。

てん

学習プリント無料ダウンロード
ちびむすドリル
©ちびむすドリル



のこりはいくつかな？




●なぞりましょう。

しき $5 - 0 = 5$ こたえ 5 ほん

ひく れい は

1 ●で を たおします。のこりの は、なんぼんですか。
しき 15てん こたえ 15てん (60)


① 2ほん たおれました。



しき

こたえ ほん

② 1ぽんも たおれませんでした。



しき



こたえ ほん

2 ひきざんを しましょう。1つ10てん (40)

① $7 - 0$

③ $0 - 0$

② $1 - 0$

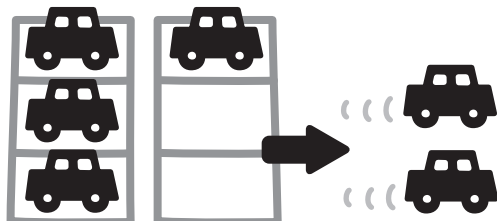
④ $9 - 0$

やってみよう!

しきが、

$6 - 2 = 4$

になる もんだいをつくらう。



■したのしきになる もんだいも つくってみよう。

$3 - 2 = 1$ $10 - 6 = 4$

$9 - 4 = 5$ $8 - 0 = 8$