

1ねんせいのさんすう
のこりはいくつ(2)

な
ま
え

が
つ に
ち



10までの引き算 対象：1年生 ねらい：10以内の数どうしの、差を求めるのに、引き算を使えるようになる。

てん

学習プリント無料ダウンロード
ちびむすドリル
©ちびむすドリル



ちがいはいくつかな？



は よりいくつおいでしょうか。

●なぞりましょう。


しき $5 - 3 = 2$

ひく は



こたえ 2 こ

1 と のかずのちがいはいくつですか。しき 25 てん
こたえ 25 てん (50)
しきとこたえをかきましょう。




しき

$7 - 4 = 3$

こたえ 3 だい

2 えんぴつが6ほん、 あか くれよんが4ほんあります。
どちらがなんほんおいでしょうか。しき 25 てん
こたえ 25 てん (50)



しき $6 - 4 = 2$

こたえ えんぴつ が

2 ほんおい。