

1ねんせいのさんすう  
のこりはいくつ(2)

な  
ま  
え

が  
つ に  
ち


10までの引き算 対象：1年生 ねらい：10以内の数どうしの、差を求めるのに、引き算を使えるようになる。

てん

学習プリント無料ダウンロード  
ちびむすドリル  
©ちびむすドリル



ちがいはいくつかな？



は よりいくつおいでしょうか。

●なぞりましょう。


しき  $5 - 3 = 2$

ひく は



こたえ 2 こ


1 と のかずのちがいはいくつですか。しき 25 てん  
こたえ 25 てん (50)  
しきとこたえをかきましょう。



しき

こたえ                      だい

2 えんぴつが 6ほん, あか くれよんが 4ほん あります。  
どちらが なんほん おいでしょうか。しき 25 てん  
こたえ 25 てん (50)



しき

こたえ                      が

                     ほん おい。