

1ねんせいのさんすう
のこりはいくつ(5)

なまえ


がつ にち

10までの足し算 対象：1年生 ねらい：10以内の数から0を含む数を引く、引き算が出来るようになる。

てん

のこりはいくつかな？

学習プリント無料ダウンロード
ちびむすドリル
©ちびむすドリル




●なぞりましょう。

しき $5 - 0 = 5$ こたえ 5 ほん
ひく れい は

1 ●で を たおします。のこりの は、なんぼんですか。
しき 15てん こたえ 15てん (60)

① 2ほん たおれました。



しき $4 - 2 = 2$ こたえ 2 ほん

② 1ぽんも たおれませんでした。



しき $4 - 0 = 4$ こたえ 4 ほん

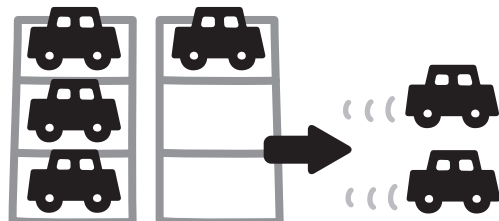
2 ひきざんを しましょう。1つ10てん (40)

① $7 - 0 = 7$ ③ $0 - 0 = 0$

② $1 - 0 = 1$ ④ $9 - 0 = 9$

やってみよう!

しきが、
 $6 - 2 = 4$
になる もんだいをつくらう。



■したのしきになる もんだいも つくってみよう。

$3 - 2 = 1$ $10 - 6 = 4$
 $9 - 4 = 5$ $8 - 0 = 8$