

# 1ねんせいのさんすう のこりはいくつ(5)

なまえ

がつ にち


10までの足し算 対象：1年生 ねらい：10以内の数から0を含む数を引く、引き算が出来るようになる。

てん

学習プリント無料ダウンロード  
ちびむすドリル  
©ちびむすドリル



## のこりはいくつかな？



●なぞりましょう。

しき  $5 - 0 = 5$  こたえ 5 ほん

ひく れい は

1 で を たおします。のこりの は、なんぼんですか。  
しき 15てん こたえ 15てん (60)


① 2ほん たおれました。



しき

こたえ          ほん

② 1ぽんも たおれませんでした。



しき

こたえ          ほん

2 ひきざんを しましょう。1つ10てん (40)

①  $7 - 0$

③  $0 - 0$

②  $1 - 0$

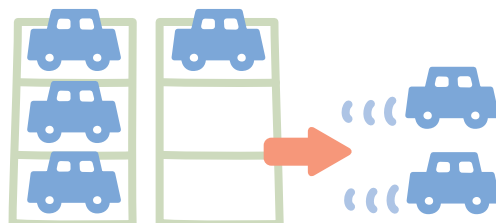
④  $9 - 0$

やってみよう!

しきが,

$6 - 2 = 4$

になる もんだいをつくろう。



■したのしきになる もんだいも つくってみよう。

$3 - 2 = 1$   $10 - 6 = 4$

$9 - 4 = 5$   $8 - 0 = 8$