
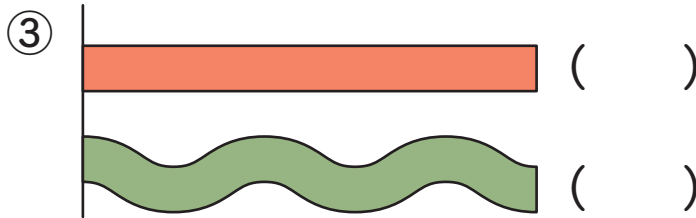
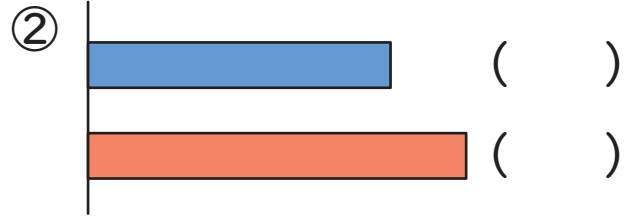
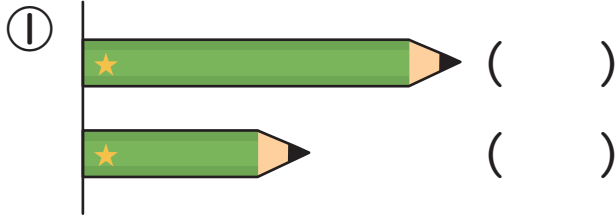


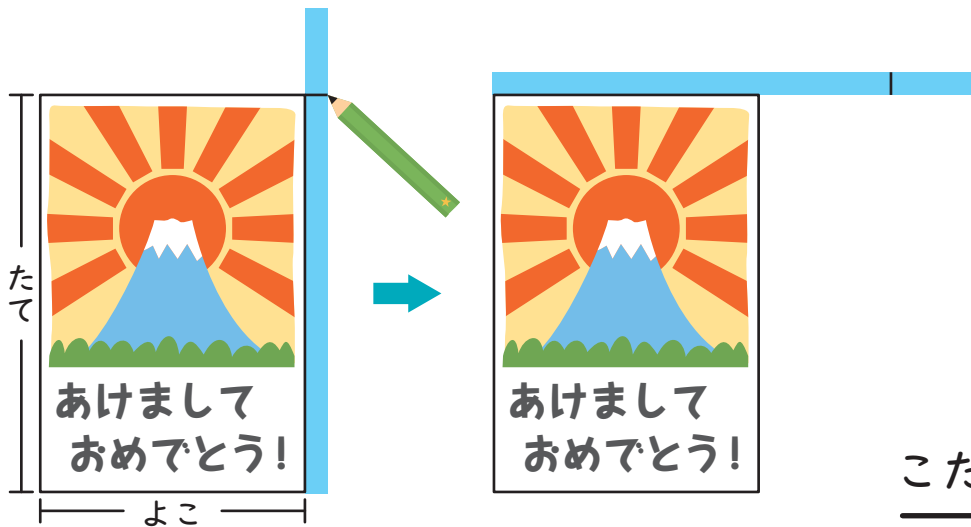


1 ながい ほうに ○を つけましょう。1つ15てん (60)



2 はがきの よこと たての ながさを テープを つかって くらべました。よこと たてでは どちらが ながいでしょうか。

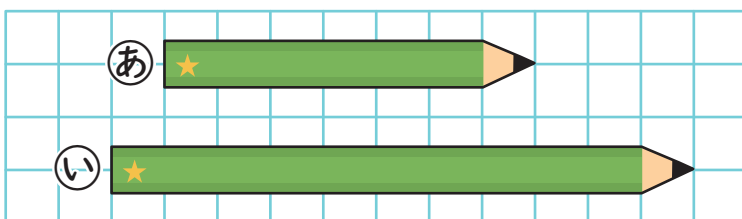
20てん



こたえ

3 どちらの えんぴつが ますの いくつぶん ながいでしょうか。

20てん

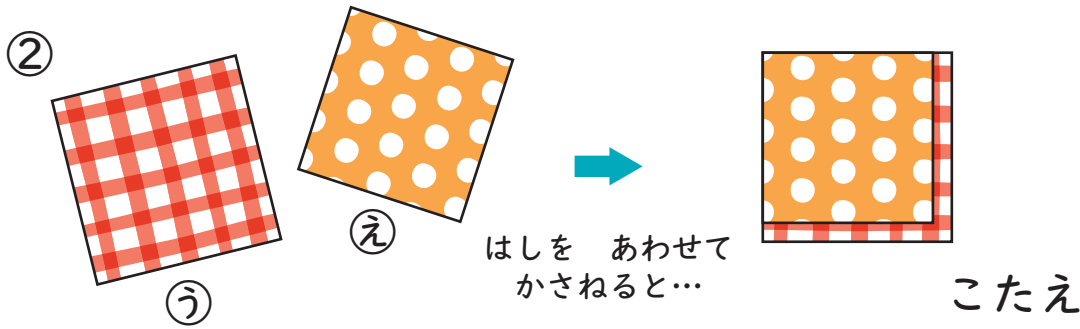
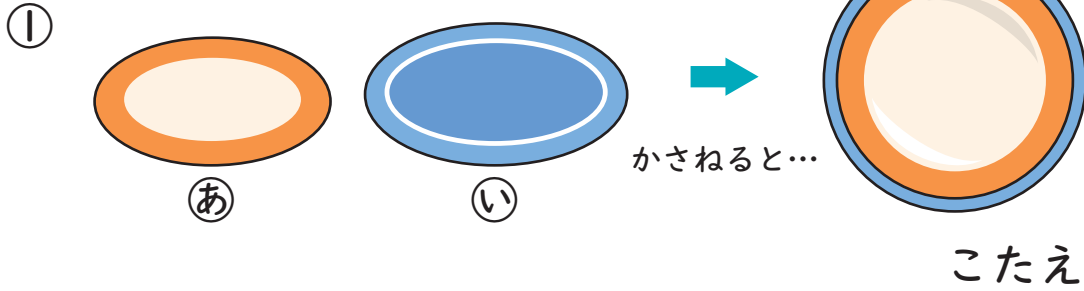


こたえ \_\_\_\_\_ が ますの \_\_\_\_\_ つぶん ながい。



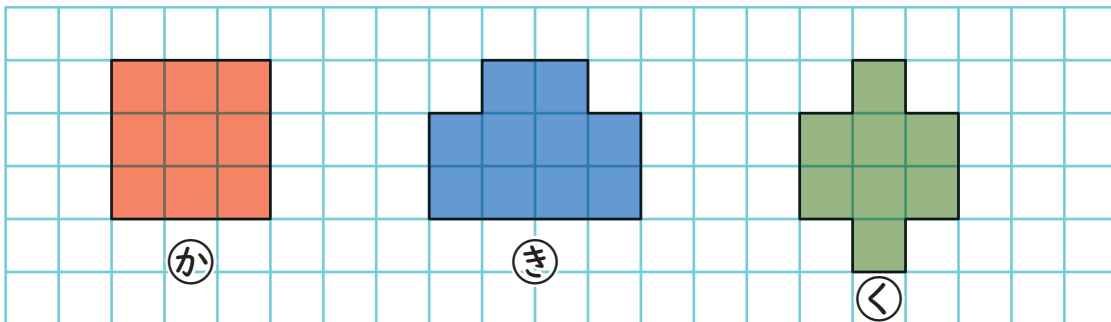
1 どちらが ひろいでしょうか。

きごうで こたえましょう。1つ25てん (50)



2 □ に いろを ぬって ㊦、㊧、㊨ の かたちを つくりました。

1つ25てん (50)



① ひろい じゆんに きごうを かきましょう。

ひろい

せまい

( ) → ( ) → ( )

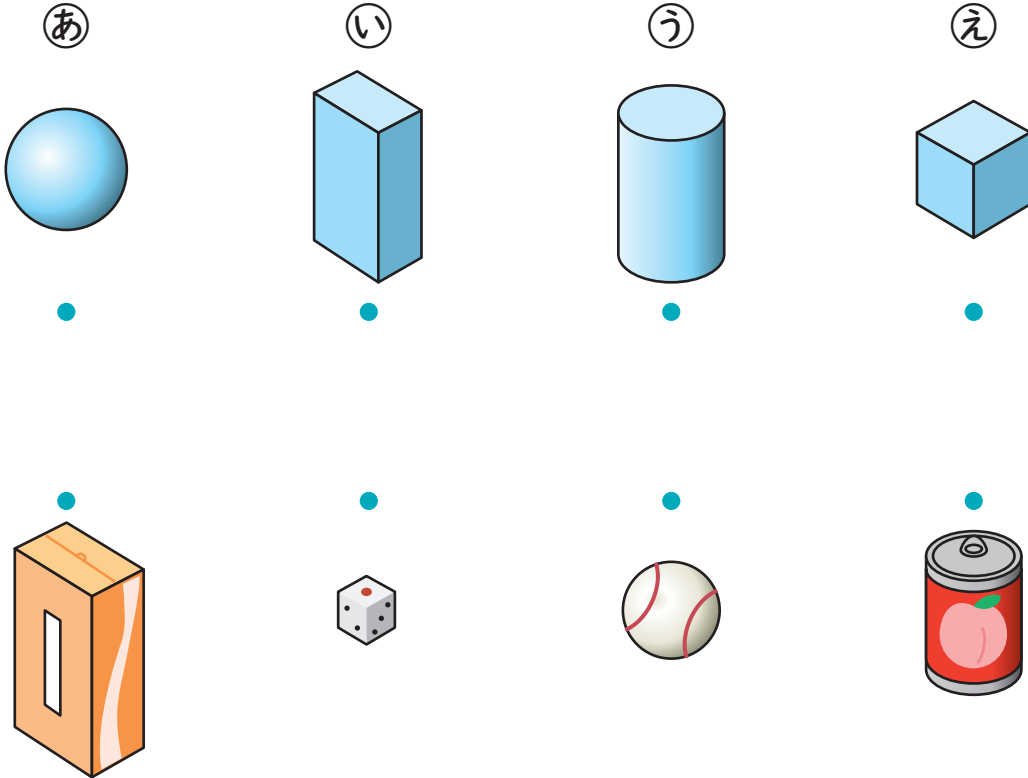
② ㊧と ㊨では、どちらが □ の いくつぶん ひろいでしょうか。

こたえ \_\_\_\_\_ が □ の \_\_\_\_\_ ぶん ひろい。



1 おなじ なかまの かたちを せんで むすびましょう。

1つ10てん (40)

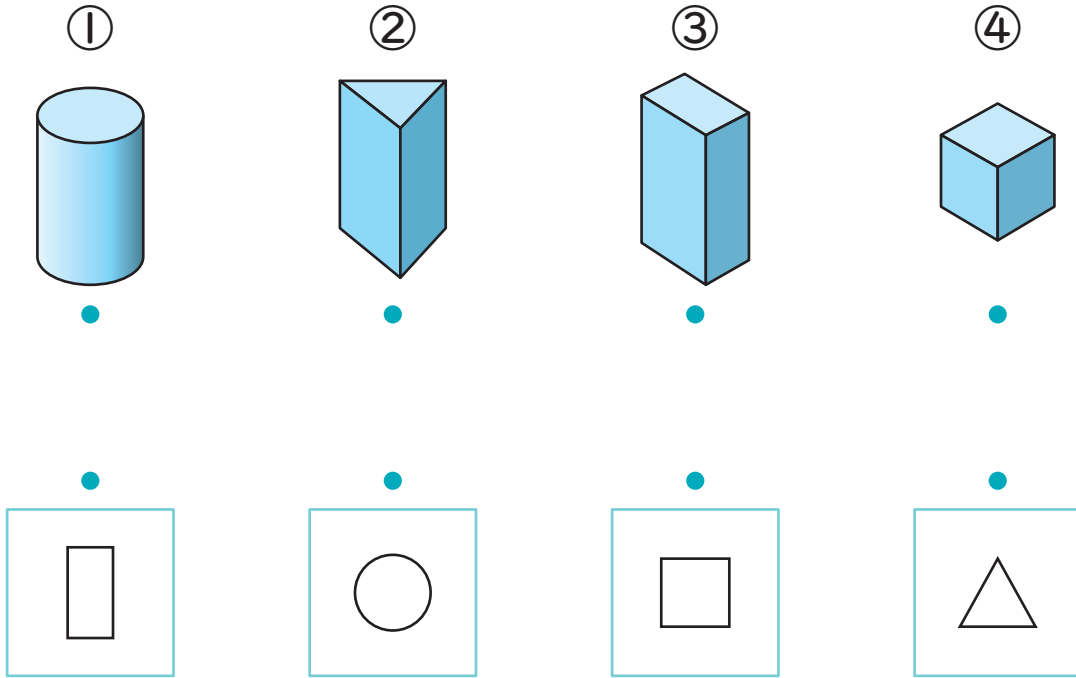


2 1 の あ、い、う、え の つみきを くらべましょう。1つ15てん (60)

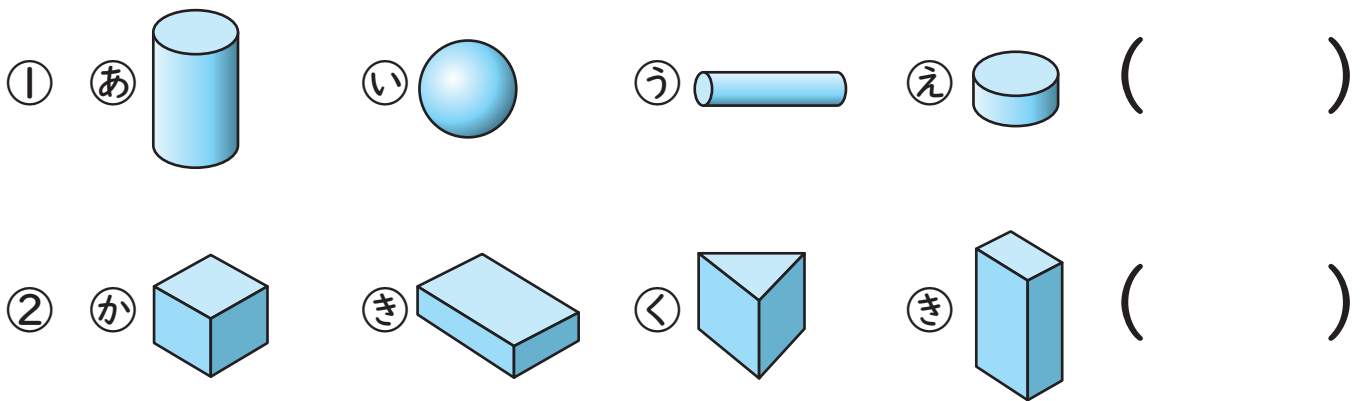
- ① ころがせる かたちは どれと どれですか。 ( と )
- ② たいらな ところが どれも ましかくなのは どれですか。  
( )
- ③ たいらな ところと まるい ところがあるのは どれですか。  
( )
- ④ つみかさねる ことが できるのは どれですか。ぜんぶ  
こたえましょう。 ( と と )



1 つみきと、つみきのそこをうつしたかみを  
 せて おすびましょう。 1つ10てん (40)





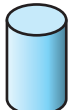
2 ちがうなかまのかたちはどれですか。 1つ15てん (30)



3 つみきでしたのきかんしゃをつくりました。

つかったかたちのかずをかきましょう。 1つ15てん (30)



- ①  はこのかたち ( )こ
- ②  っつのかたち ( )こ

図形

対象：1年生～ ねらい：1年生で学習する、「ながさ」「ひろさ」「かたち」のたしかめ

てん  
 点

学習プリント無料ダウンロード

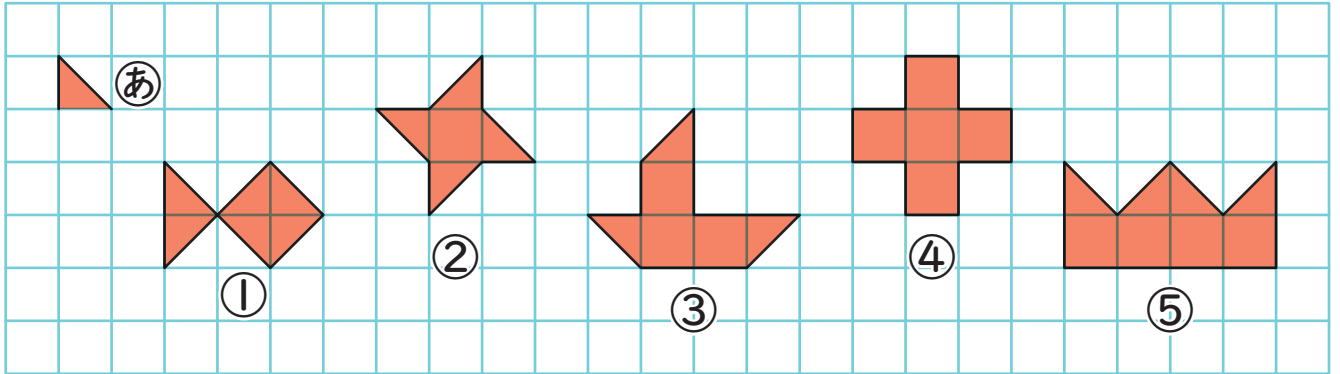
ちびむすドリル

© ちびむすドリル



1 したの ①～⑤の かたちは、

②の いた なんまいで できるでしょうか。1つ10てん (50)

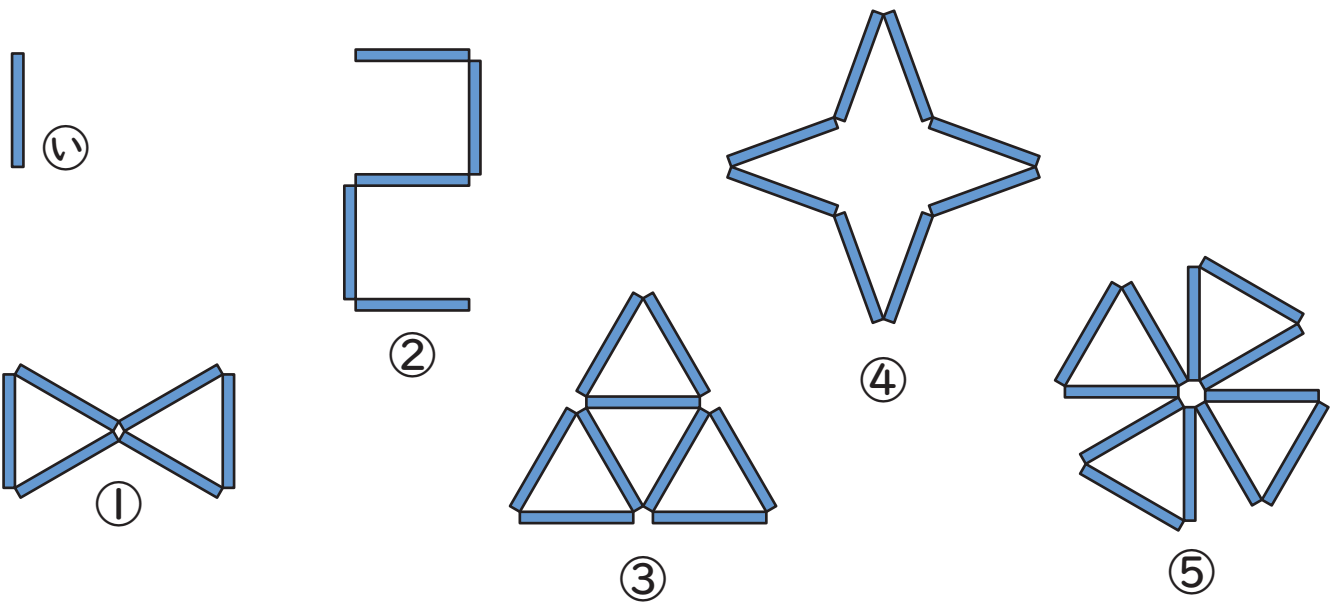


① ( )まい ② ( )まい ③ ( )まい

④ ( )まい ⑤ ( )まい

2 したの ①～⑤の かたちは、②の ぼう なんぼんで

できるでしょうか。1つ10てん (50)



① ( )ぽん ② ( )ほん ③ ( )ほん

④ ( )ぽん ⑤ ( )ほん