
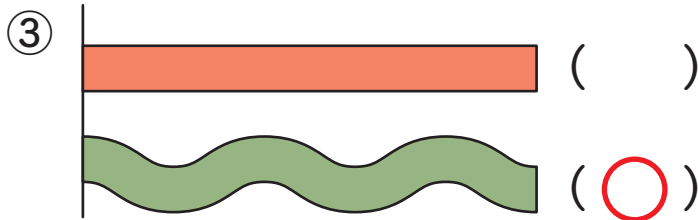
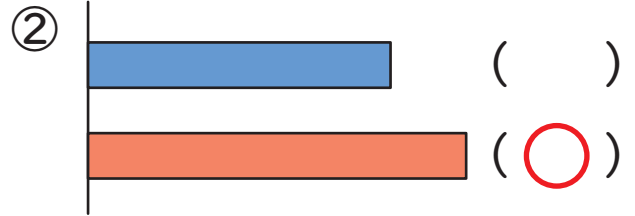
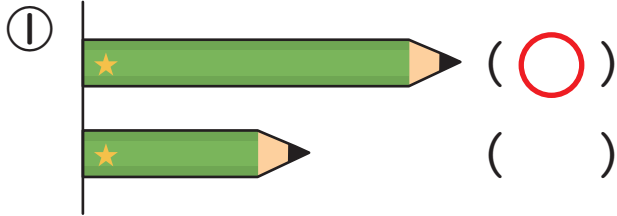
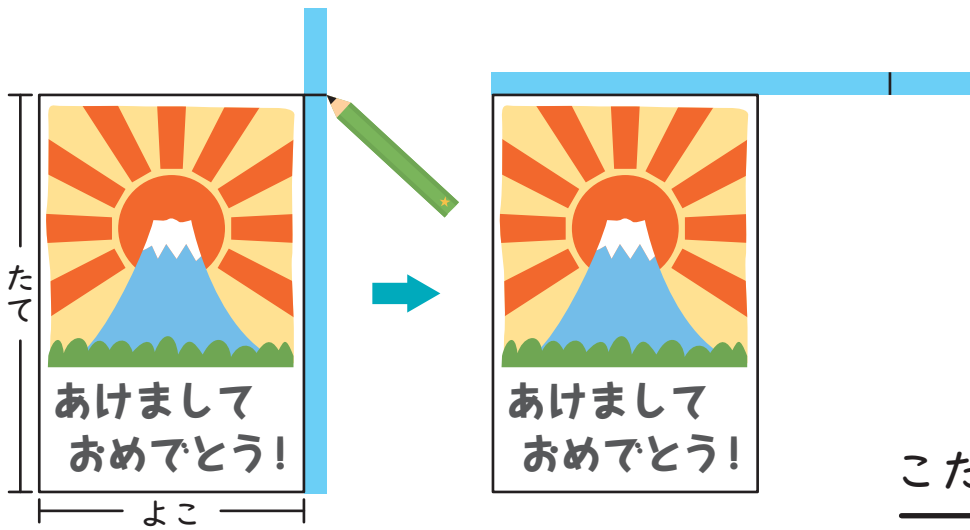




1 ながい ほうに ○を つけましょう。1つ15てん (60)

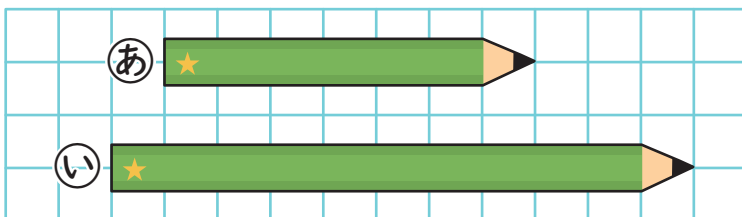


2 はがきの よこと たての ながさを テープを つかって くらべました。よこと たてでは どちらが ながいでしょうか。
 20てん



こたえ たて

3 どちらの えんぴつが ますの いくつぶん ながいでしょうか。
 20てん

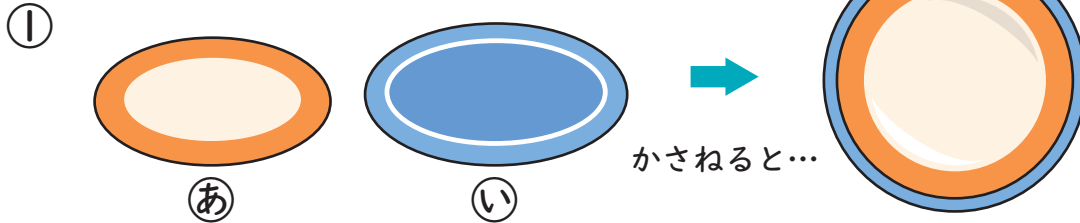


こたえ い が ますの 4 つぶん ながい。



1 どちらが ひろいでしょうか。

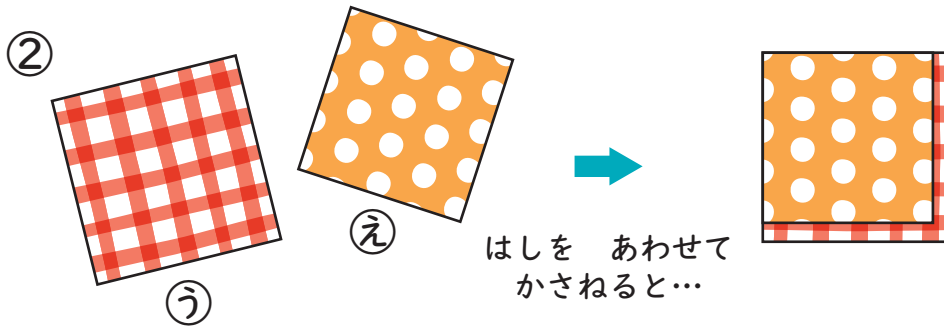
きごうで こたえましょう。1つ25てん (50)



かさねると...

こたえ

い



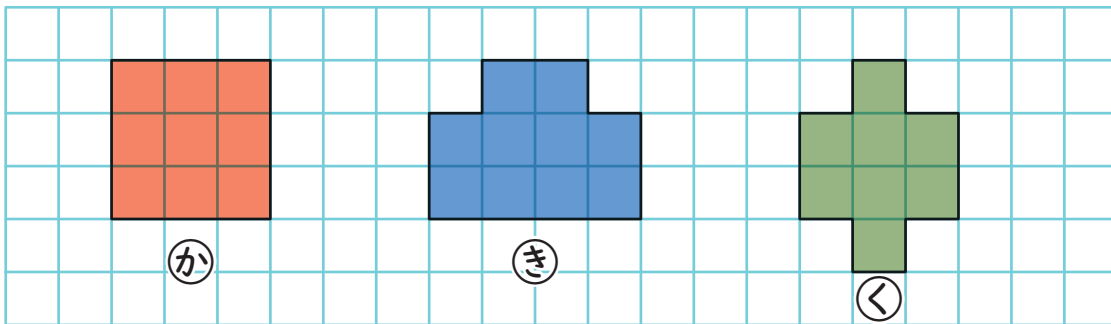
はしを あわせて
かさねると...

こたえ

う

2 □ に いろを ぬって ①か、②き、③くの かたちを つくりました。

1つ25てん (50)



① ひろい じゆんに きごうを かきましょう。

ひろい

せまい

(き) → (か) → (く)

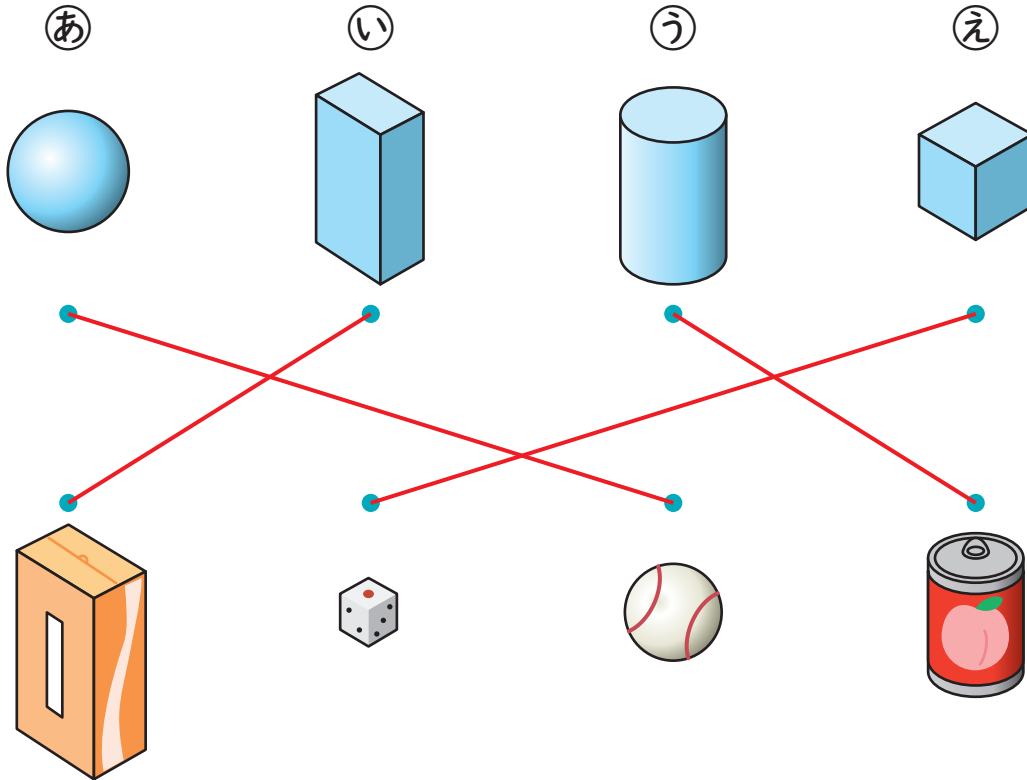
② ①きと ③くでは、どちらが □ の いくつぶん ひろいでしょうか。

こたえ き が □ の 2 つぶん ひろい。



1 おなじ なかまの かたちを せんで おすびましょう。

1つ10てん (40)

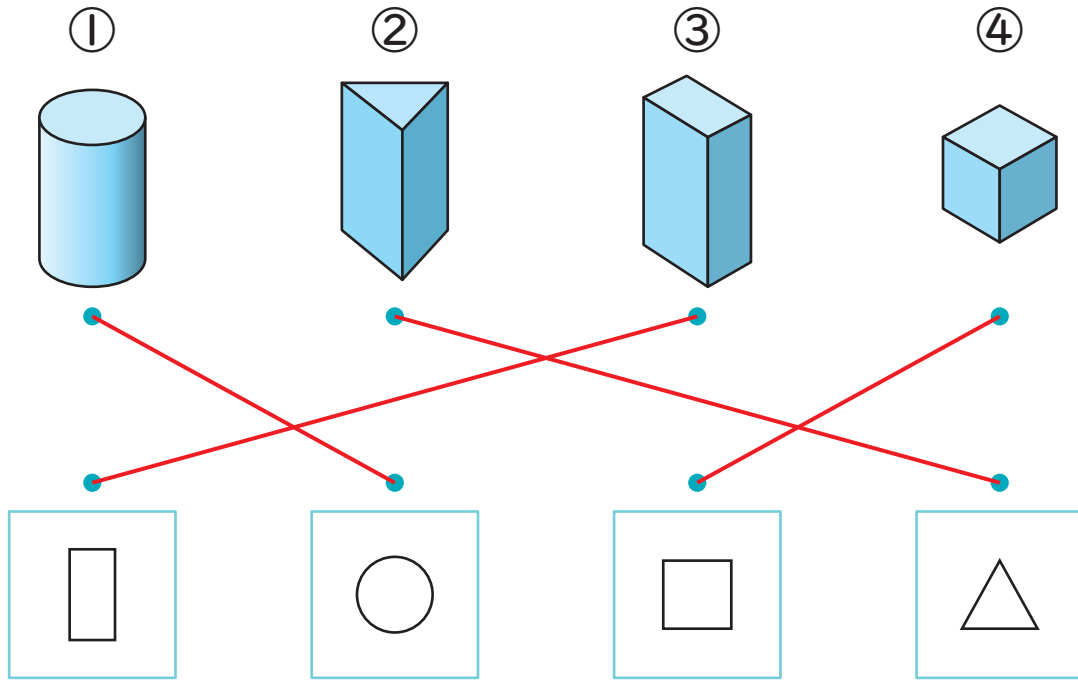


2 1の (あ)、(い)、(う)、(え)の つみきを くらべましょう。1つ15てん (60)

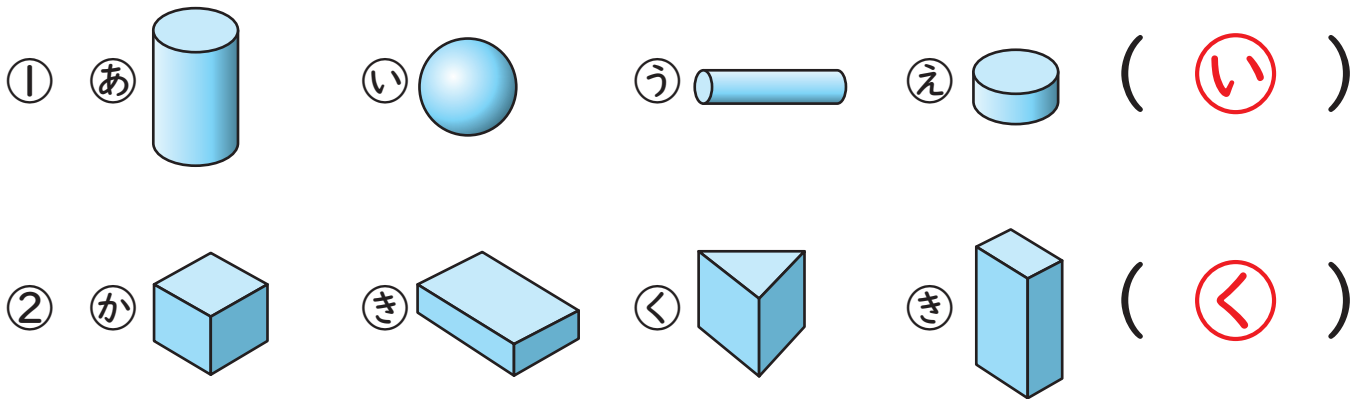
- ① ころがせる かたちは どれと どれですか。 ((あ) と (う))
- ② たいらな ところが どれも ましかくなのは どれですか。
((え))
- ③ たいらな ところと まるい ところがあるのは どれですか。
((う))
- ④ つみかさねる ことが できるのは どれですか。ぜんぶ
こたえましょう。 ((い) と (う) と (え))



1 つみきと、つみきのそこをうつしたかみを
 せて おすびましょう。 1つ10てん (40)





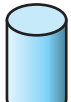
2 ちがうなかまのかたちはどれですか。 1つ15てん (30)



3 つみきでしたのきかんしゃをつくりました。

つかったかたちのかずをかきましょう。 1つ15てん (30)



- ①  はこのかたち (3)こ
 ②  つつのかたち (5)こ

図形

対象：1年生～ ねらい：1年生で学習する、「ながさ」「ひろさ」「かたち」のたしかめ

てん
 点

学習プリント無料ダウンロード

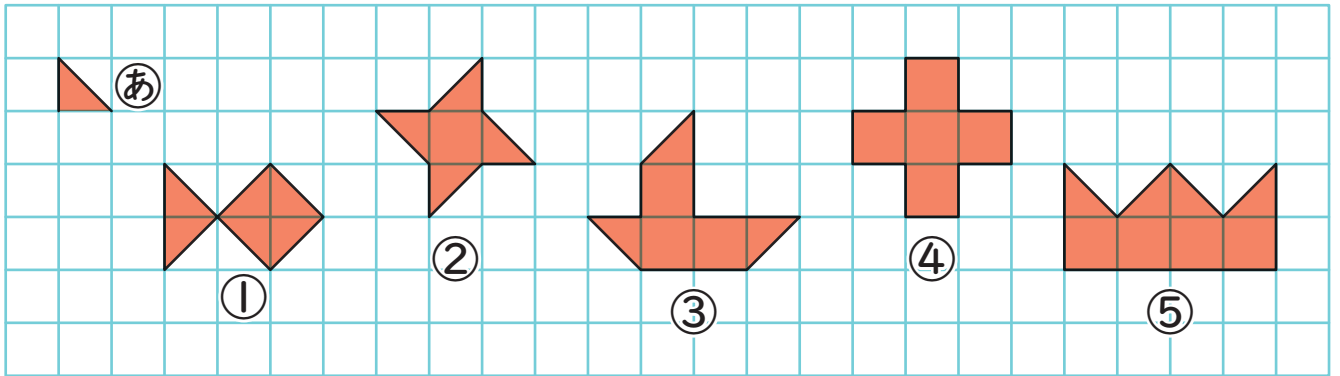
ちびむすドリル

©ちびむすドリル



1 したの ①～⑤の かたちは、

②の いた なんまいで できるでしょうか。1つ10てん (50)

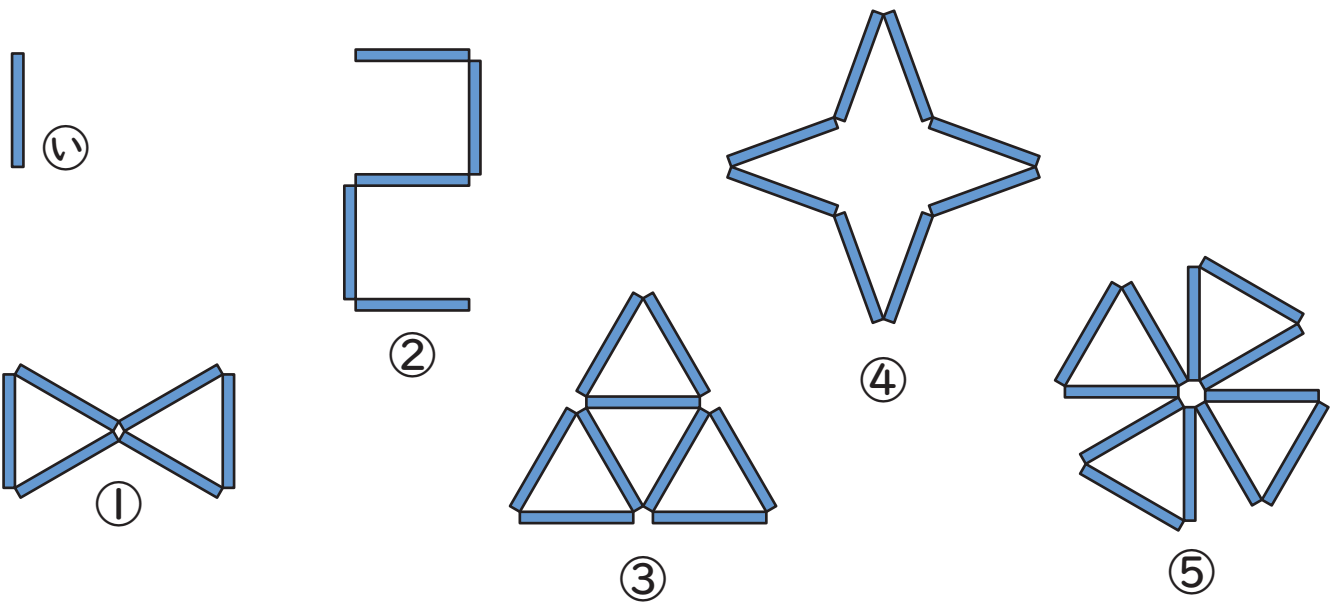


① (6) まい ② (6) まい ③ (9) まい

④ (10) まい ⑤ (12) まい

2 したの ①～⑤の かたちは、②の ぼう なんぼんで

できるでしょうか。1つ10てん (50)



① (6) ぽん ② (5) ほん ③ (9) ほん

④ (8) ぽん ⑤ (12) ほん