

1ねんせいのさんすう

ながさくらべ①

なまえ


がつ にち

1/2まい

てん

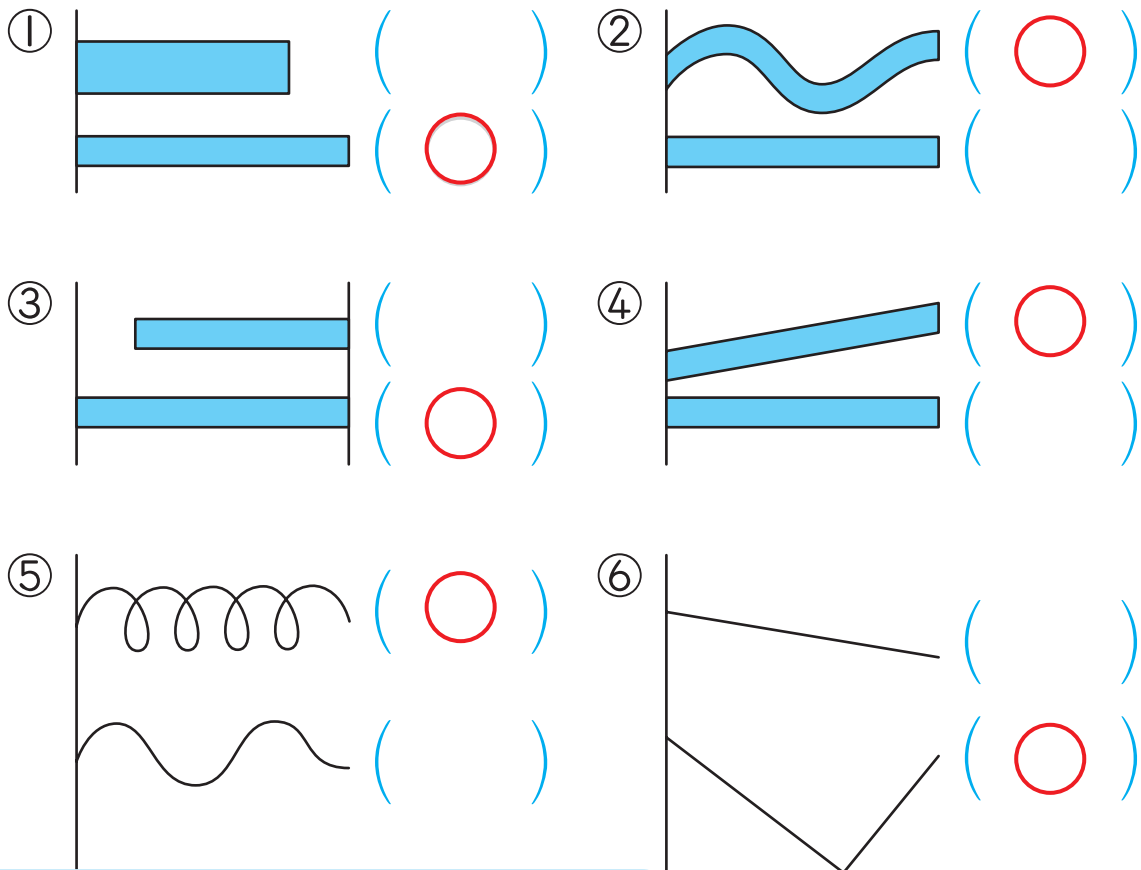
1 えんぴつの ながさの くらべかたで よい ものに ○を つけましょう。

8てん



2 ながい ほうに ○を つけましょう。

42てん(1つ7)



おうちの方へ 長さを比べるときは、一方の端をそろえて平行に並べます。

2 ①は、テープの太さは長さに関係ないことを押さえましょう。②は上のテープをまっすぐにのばすとどうなるか考えます。④は上のテープを下のテープに平行になるようにするとどうなるか考えます。

3 ①は長さをテープに置き換えて比べる方法です。縦の長さを表す印が横よりはみ出しているので、縦の方が長いことがわかります。②は片方の辺を折り曲げてもう一方の辺に重ねて、どちらの辺が余るのが調べています。余りのある方の辺が長いことに気づきましょう。実際にやってみましょう。

4 ③で、①のテープは左端がそろっていないことに気をつけましょう。①は②より短いことがわかります。

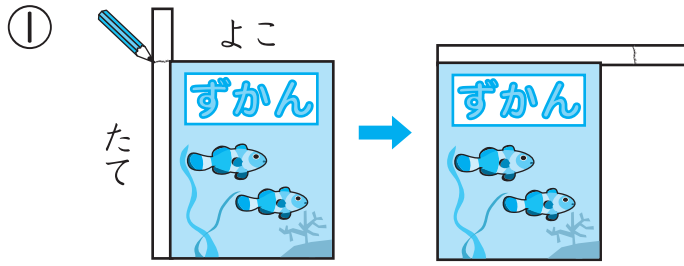
つぎ
次のプリントにつづく →



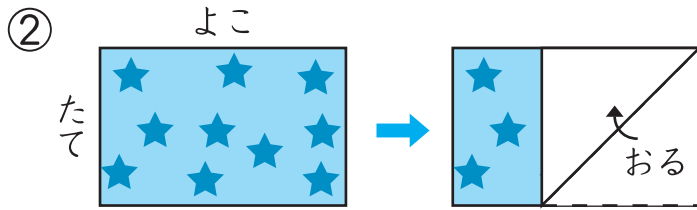
ながさくらべ①

3 たてと よこでは どちらが ながいでしょう。

20てん(1つ10)



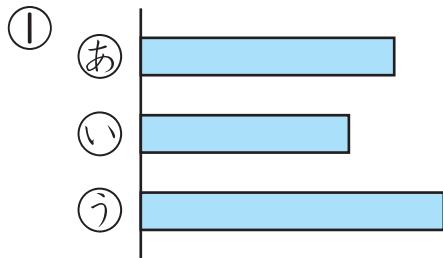
(たて)



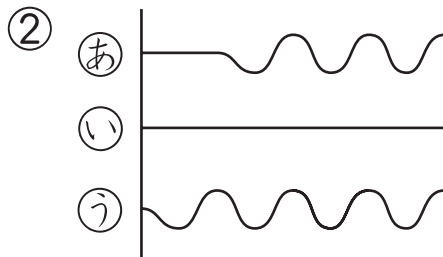
(よこ)

4 ながい じゅんに かきましょう。

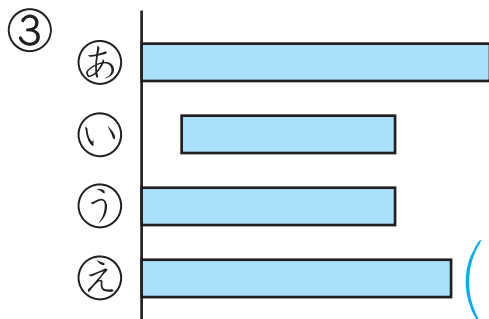
30てん(1つ10)




(う) → (あ) → (い)



(う) → (あ) → (い)



(あ) → (え) → (う) → (い)



ながさを くらべるときは、はしを そろえて、まっすぐに のばして くらべることが たいせつだよ。

