

ながさくらべ②

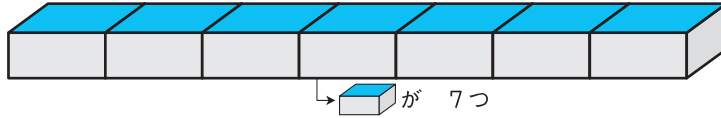
1/2まい

てん

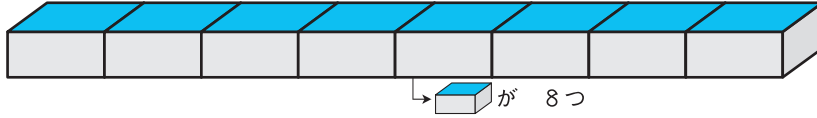
1 ながい ほうに ○を つけましょう。

15てん(1つ5)

①




()



(○)


②



()

()

③

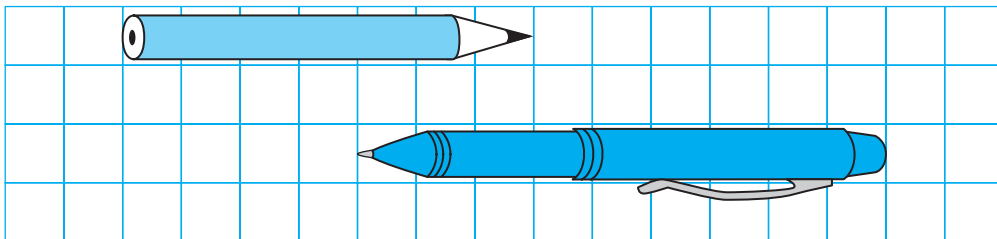


()

()

2 したの えを みて こたえましょう。

35てん(1つ7)



① えんぴつは めもり つぶん。

② ぼおるぺんは めもり つぶん。

③ は より

めもり つぶん ながい。



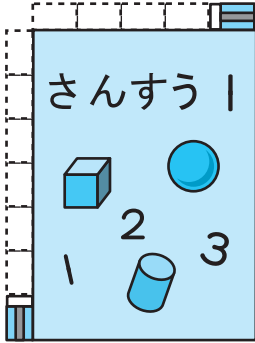
つぎ 次のプリントにつづく →



ながさくらべ②

3 けしごむを つかって きょうかしよの ながさを はかりました。□に はいる かずを かきましょう。

30てん(1つ10)



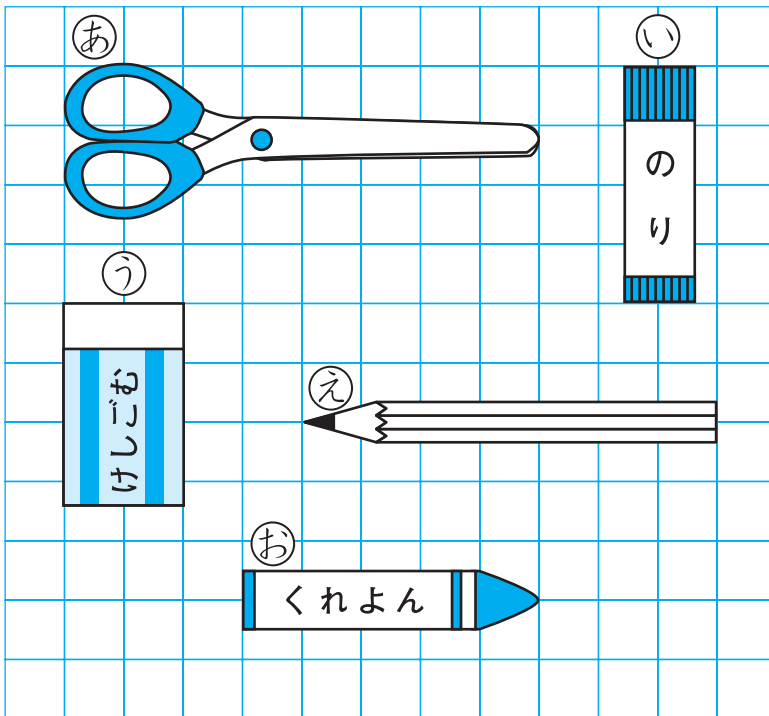
① たては、けしごむ □ つぶん。

② よこは、けしごむ □ つぶん。

③ たてが よこより けしごむ □ つぶん ながい。

4 ながい じゅんに ㊦, ㊧, ㊨, ㊩, ㊪を かきましょ
う。

20てん



(㊦) → () → () → () → ()

「〇の いくつぶん」で ながさを あらわすと、ながさくらべが しやすい ね。

