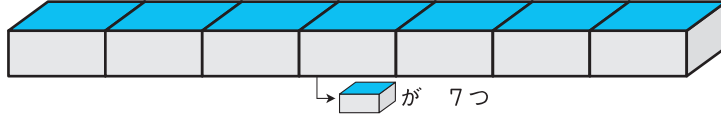


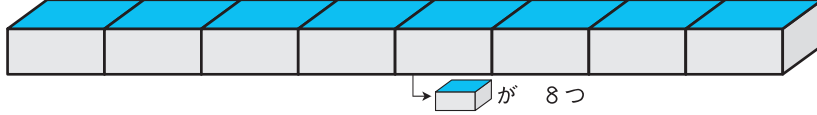
1 ながい ほうに ○を つけましょう。

15てん(1つ5)

①




()



(○)

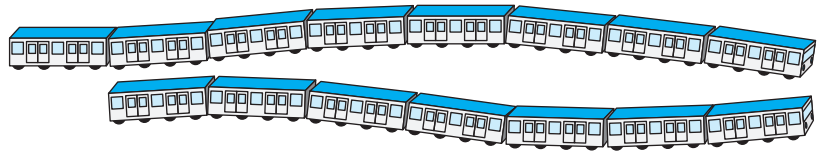
②



()

(○)

③

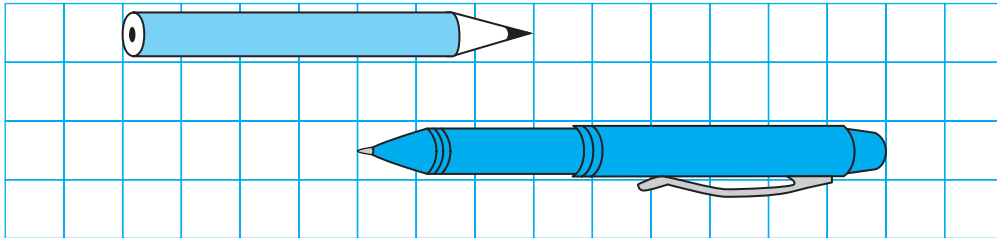


(○)

()

2 したの えを みて こたえましょう。

35てん(1つ7)



① えんぴつは めもり **7** つぶん。

② ぼおるぺんは めもり **9** つぶん。

③ **ぼおるぺん** は **えんぴつ** より

めもり **2** つぶん ながい。

おうちの方へ いろいろなものを長さの単位として、そのいくつかで長さを考え、くらべます。

1 ①はまずブロック1つの長さがどれも同じであることを確認します。どれも同じだから、ブロックの数で長さが比べられることに気づきましょう。②のクリップ、③の車両についても同じように長さを比較します。

2 方眼のます目の数で長さを表したり、比べたりできます。

3 消しゴムの長さを単位にして、長さを比べています。

4 方眼の1ますは、縦も横も同じ長さです。したがって、はさみやのりなどを横に置いて縦に置いても、ます目の数で長さが比べられます。

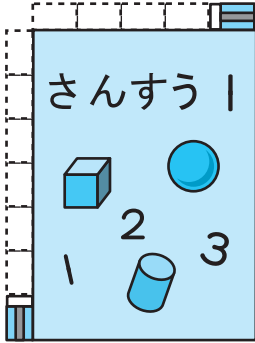
つぎ
次のプリントにつづく →



ながさくらべ②

3 けしごむを つかって きょうかしよの ながさを はかりました。□に はいる かずを かきましょう。

30てん(1つ10)



① たては、けしごむ 7 つぶん。

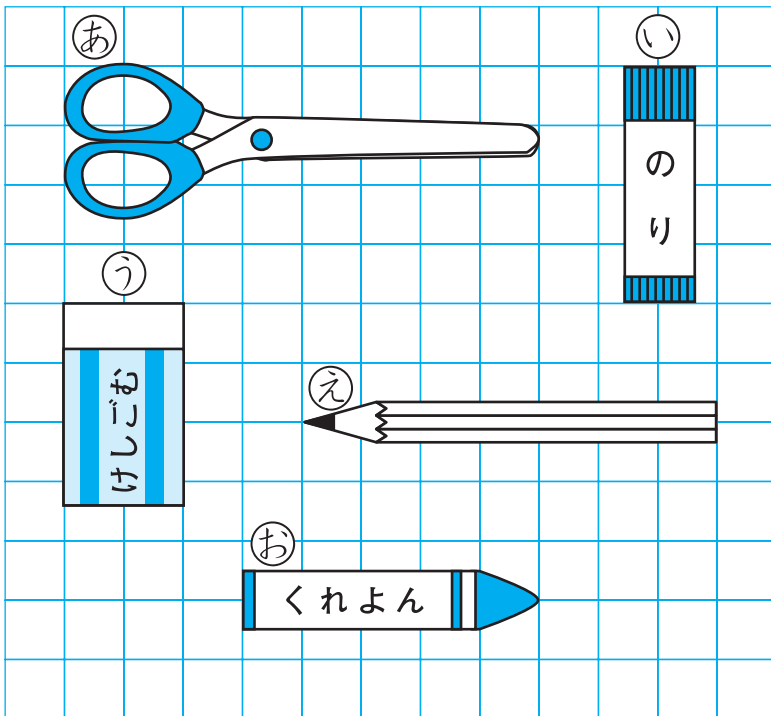
② よこは、けしごむ 5 つぶん。

③ たてが よこより けしごむ

2 つぶん ながい。

4 ながい じゅんに あ, い, う, え, おを かきましょ
う。

20てん



めもりを かぞえて
ながさを
くらべよう。



(あ) → (え) → (お) → (い) → (う)

「○の いくつぶん」で ながさを あらわすと、ながさくらべが しやすい
ね。

