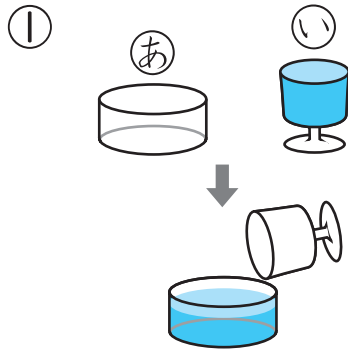


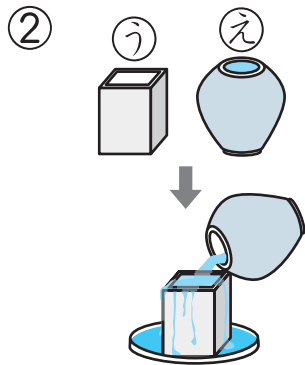
1 2つの いれもので どちらが おおく はいるか
しらべました。

12てん(1つ6)



①の みずを ②に いたら
とちゅうまでしか はいりません
でした。②と ①では どちらが
おおく はいるでしょう。

()

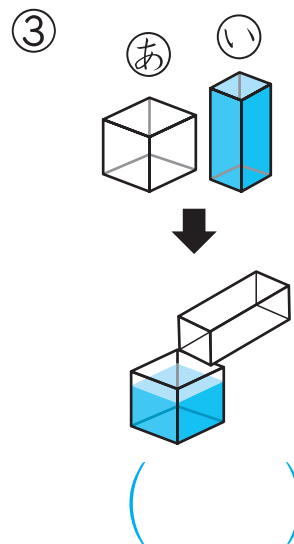
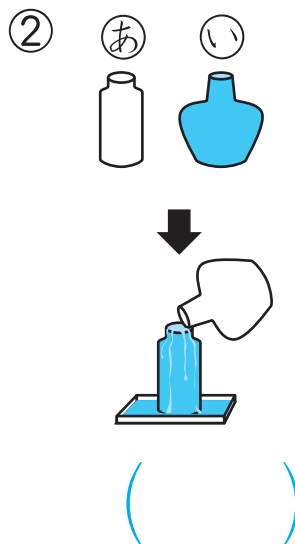
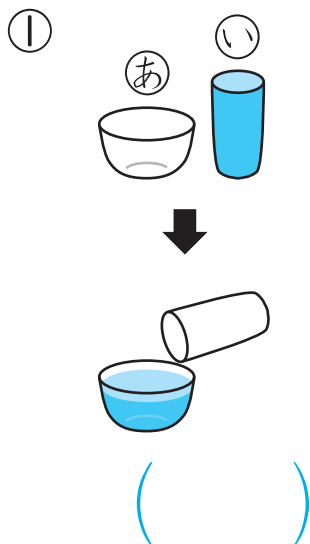


②の みずを ①に いたら
あふれて しまいました。①と
②では どちらが おおく
はいるでしょう。

()

2 おおく はいるのは ②, ①の どちらでしょう。

24てん(1つ8)




つぎ
次のプリントにつづく →

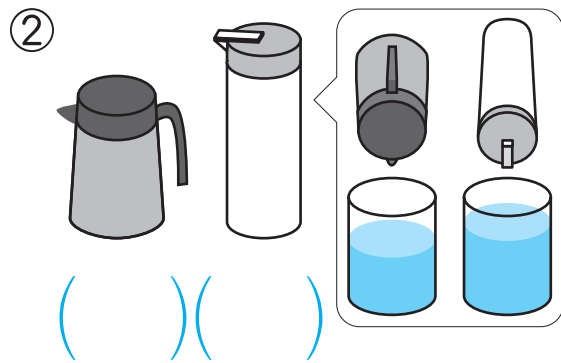


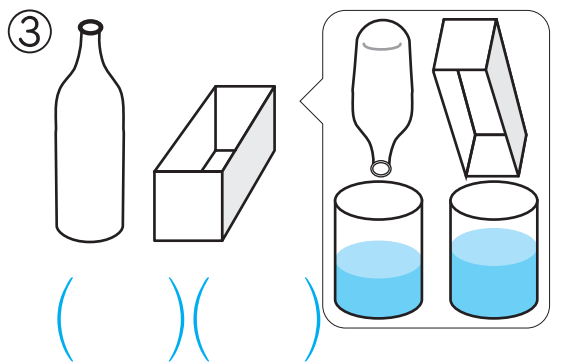
かさくらべ①

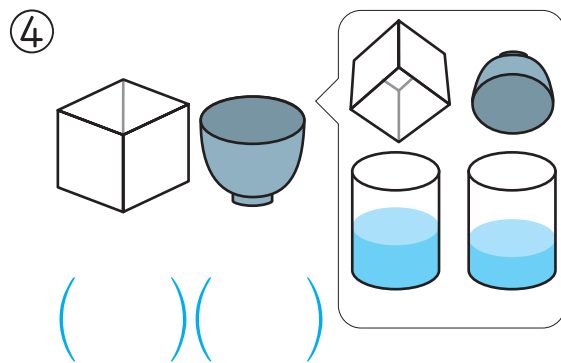
3 おおく はいる ほうに ○を つけましょう。

32てん(1つ8)

①  () ()

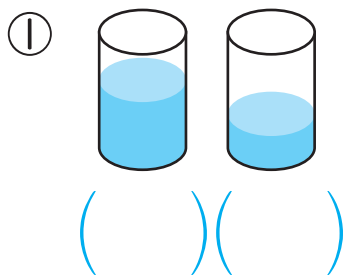
②  () ()


③  () ()

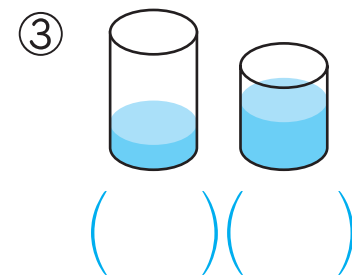
④  () ()

4 みずが おおく はいって いる ほうに ○を つ けましょう。

24てん(1つ8)

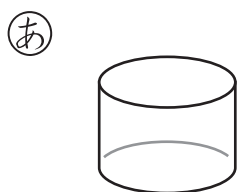


①  () ()

②  () ()

③  () ()

5 みずが いちばん おおく はいる いれものは、**あ**、**い**、**う**の どれでしょう。

8てん

あ  **い**  **う**  ()

ほかの いれものに みずを うつしても かさは かわらないよ。

