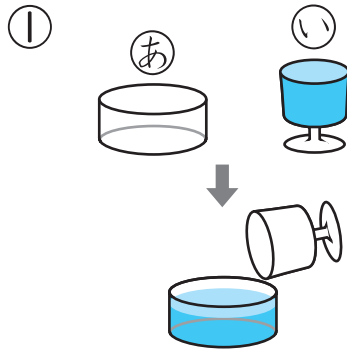


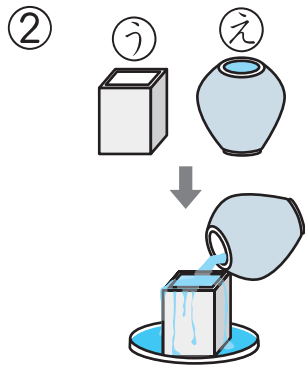
1 2つの いれもので どちらが おおく はいるか
しらべました。

12てん(1つ6)



①の みずを ②に いたら
とちゅうまでしか はいりません
でした。③と ④では どちらが
おおく はいるでしょう。

(③)

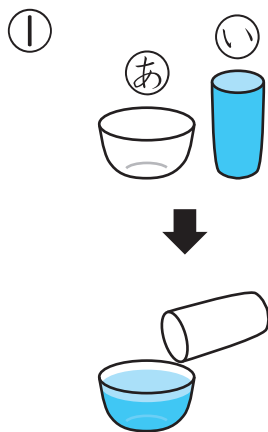


⑤の みずを ⑥に いたら
あふれて しまいました。⑦と
⑧では どちらが おおく
はいるでしょう。


(⑧)

2 おおく はいるのは ③, ④の どちらでしょう。

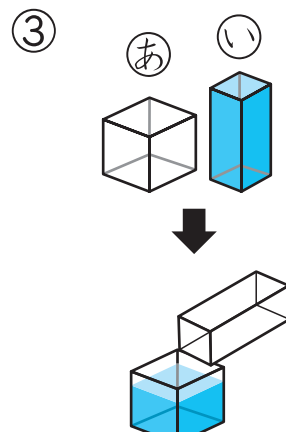
24てん(1つ8)



(③)



(④)



(③)

おうちの方へ かさを比較するいろいろな方法を知りましょう。

- 1** ほかの入れ物を使わないで比較するやり方です。もう一方の入れ物に水を移し替えたとき、水があふれるかどうかを見て判断します。
- 3** 別の入れ物に水をそれぞれ移し替えてかさの比較をする方法です。移し替えた入れ物は同じ大きさなので、水位で比較できることに気づきましょう。
- 4** ①は同じ大きさの入れ物なので水位で比べられます。②は左の入れ物の方が底面積が広いので、同じ水位なら左の方が水が多く入っていると考えます。③の入れ物の高さは異なりますが、水位で比べられることに気づきましょう。


つぎ
次のプリントにつづく →

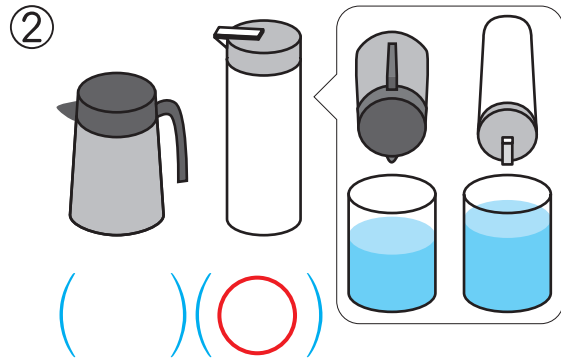


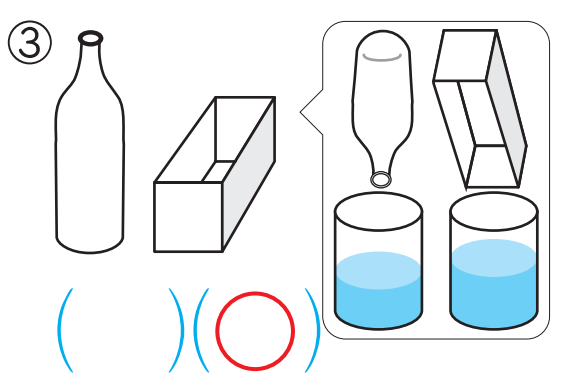
かさくらべ①

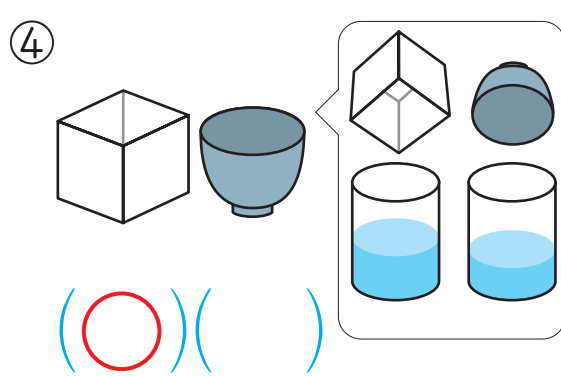
3 おおく はいる ほうに ○を つけましょう。

32てん(1つ8)

①  () (○)

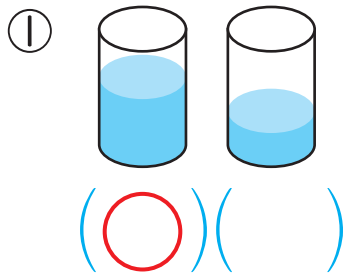
②  () (○)

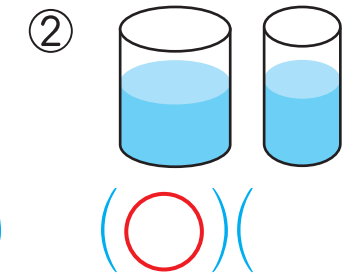
③  () (○)

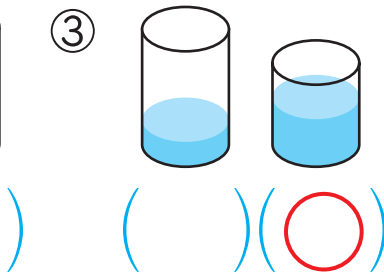
④  (○) ()

4 みずが おおく はいって いる ほうに ○を つけましょう。

24てん(1つ8)

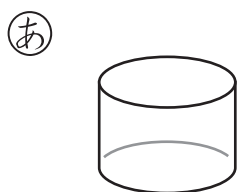
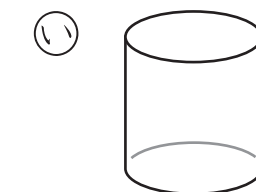

①  (○) ()

②  (○) ()

③  () (○)

5 みずが いちばん おおく はいる いれものは、**あ**、**い**、**う**の どれでしょう。

8てん

あ  い  う  (**い**)

ほかの いれものに みずを うつしても かさは かわらないよ。

