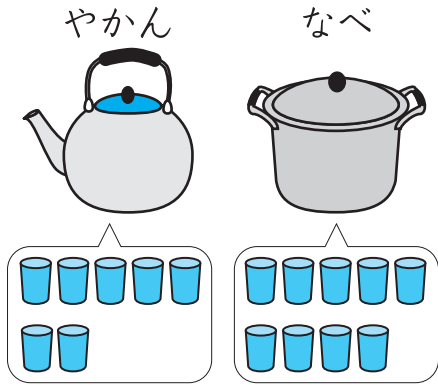


1 みずが おおく はいるのは、やかんか なべかを
しらべました。□に かずや ことばを かきましよう。



12てん(1つ4)

やかんには みずが こっぷで

はいぶん はいりました。


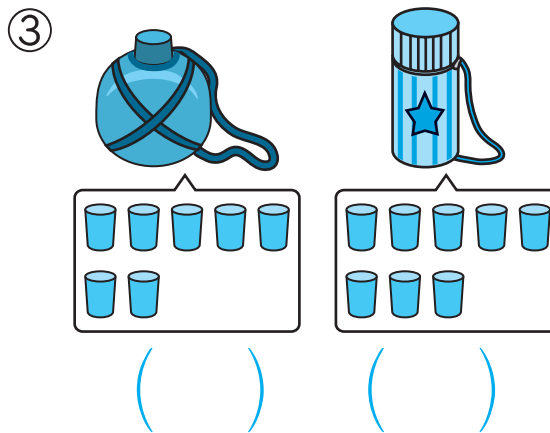
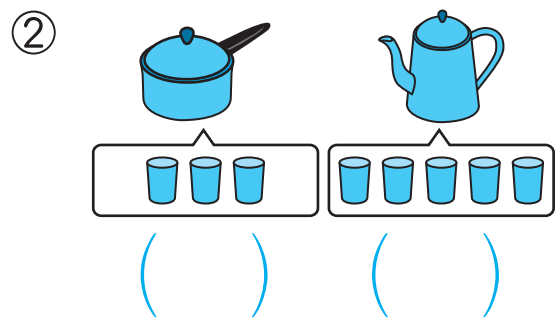
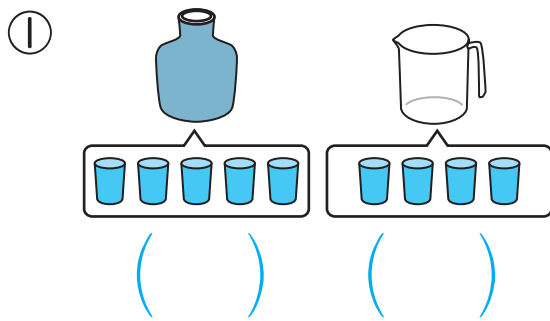
なべには みずが こっぷで

はいぶん はいりました。

みずが おおく はいるのは です。

2 おおく はいる ほうに ○を つけましよう。

40てん(1つ10)







つぎ
次のプリントにつづく →

かさくらべ②





3 おおく はいる ほうに ○を つけましょう。





18てん(1つ9)

①			②		
	で 8はい	で 9はい		で 13はい	で 11はい
	()	()		()	()

4 おおく はいる じゅんに なまえを かきましよう。

30てん(1つ15)

①	びん	ぺっとぼとる	やかん	せんめんき
				
	で 6はい	で 10はい	で 12はい	で 15はい
	()	()	()	()

②	なべ	じょうろ	きんぎょばち	ばけつ
				
	で 10はい	で 12はい	で 11はい	で 15はい
	()	()	()	()

かさを こつぷの なんはいぶんで あらわす ことが できるね。

