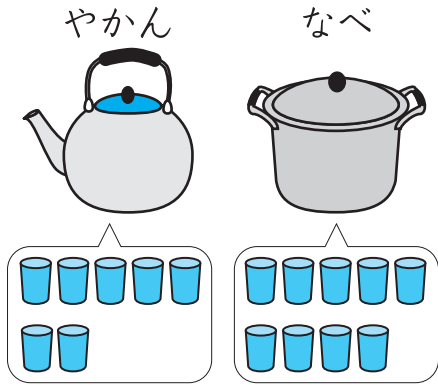


# かさくらべ②

1/2まい

てん

**1** みずが おおく はいるのは、やかんか なべかを  
しらべました。□に かずや ことばを かきましょう。



12てん(1つ4)

やかんには みずが こっぷで

**7** はいぶん はいりました。


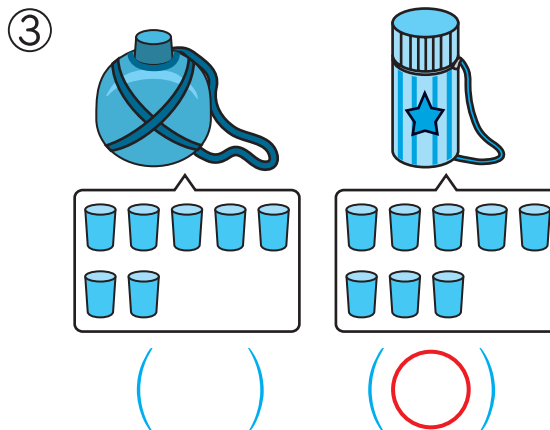
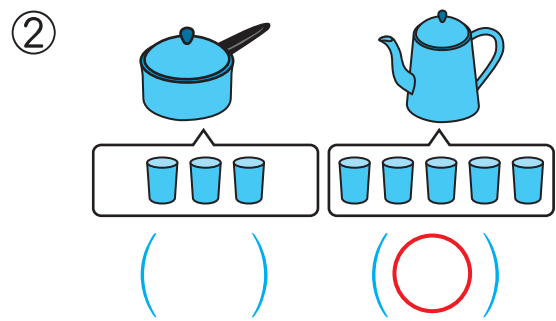
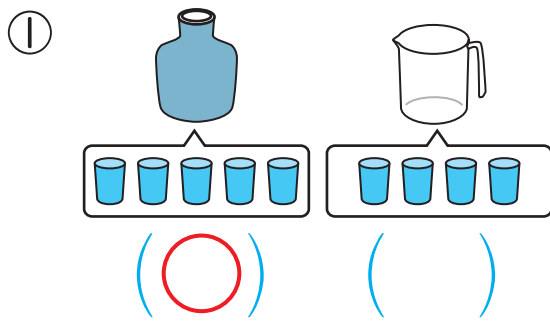
なべには みずが こっぷで

**9** はいぶん はいりました。

みずが おおく はいるのは **なべ** です。

**2** おおく はいる ほうに ○を つけましょう。

40てん(1つ10)



**おうちの方へ** コップ1ぱい分を単位に  
してかさの比較をします。

**1** いろいろな入れ物も、コップを使う  
とかさをコップ何ぱい分で表すことが  
できます。

**4** コップの数を全部数えてから、数の  
多い順になるように、入れ物の名前を  
書いていきます。







つぎ  
次のプリントにつづく →

# かさくらべ②





3 おおく はいる ほうに ○を つけましょう。

18てん(1つ9)





①			②		
	で 8はい	で 9はい		で 13はい	で 11はい
	( )	( ○ )		( ○ )	( )

4 おおく はいる じゅんに なまえを かきましよう。

30てん(1つ15)

①	びん	ぺっとぼとる	やかん	せんめんき
				
	で 5はい	で 10はい	で 10はい	で 15はい
	( やかん )	→ ( せんめんき )	→ ( ペっとぼとる )	→ ( びん )

②	なべ	じょうろ	きんぎょばち	ばけつ
				
	で 10はい	で 12はい	で 11はい	で 15はい
	( ばけつ )	→ ( じょうろ )	→ ( きんぎょばち )	→ ( なべ )

かさを こつぷの なんはいぶんで あらわす ことが できるね。

