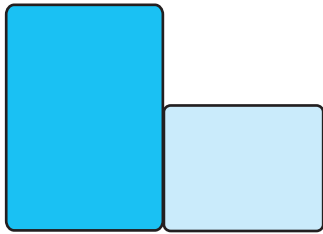



1 したじきの ひろさを くらべます。くらべかたで よいものに ○を つけましょう。

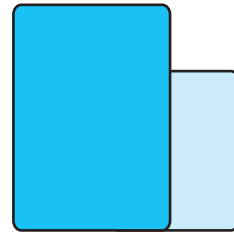
7てん



()



()

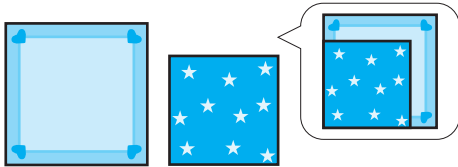


()

2 ひろい ほうに ○を つけましょう。


16てん(1つ8)

①



() ()

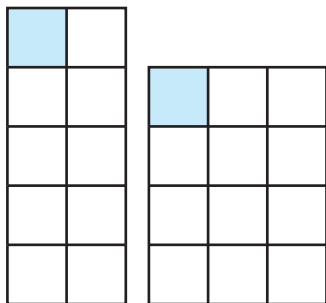
②



() ()

3 □には かずを ()には ①か ②を かきましょ
う。

21てん(1つ7)



①

②

①は □が □こぶん,

②は □が □こぶんだから,

()の ほうが ひろい。



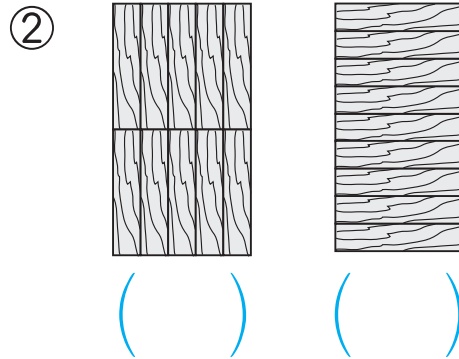
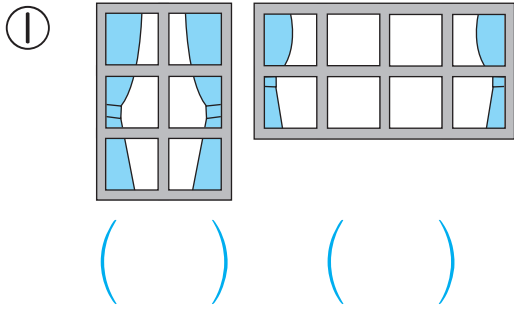
つぎ
次のプリントにつづく →



ひろさくらべ

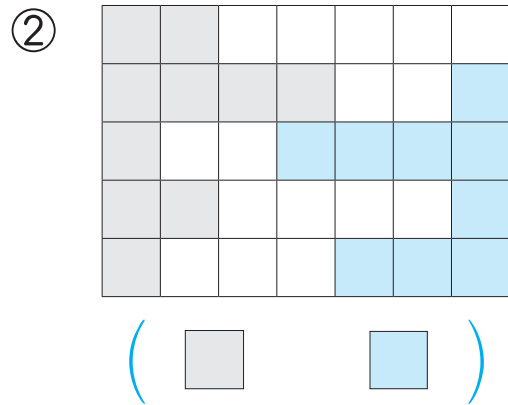
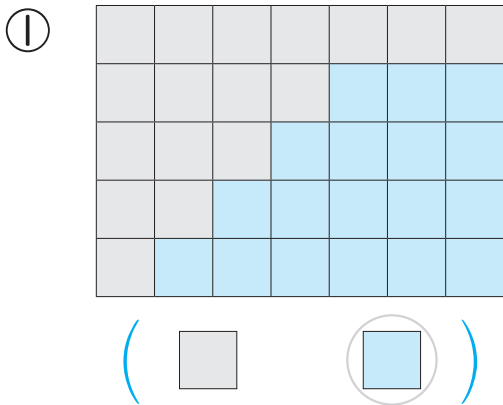
4 ひろい ほうに ○を つけましょう。

16てん(1つ8)




5 □と □では どちらの ほうが ひろいですか。ひろい ほうの □を ○で かこみましょう。

16てん(1つ8)



6 ばしょとりあそびを します。じゃんけんで かったら, □を 1つ ぬります。ぬった ところが ひろい ほうが 勝ちです。だれが かったでしょう。

24てん(1つ8)



■は □こ, ■は □こ。
 ■の ほうが かずが おおいから、
 かったのは ()さん。

ひろさを くらべる いろいろな しかたを おぼえよう。