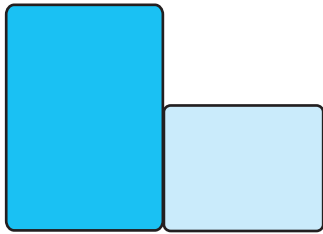



1 したじきの ひろさを くらべます。くらべかたで よいものに ○を つけましょう。

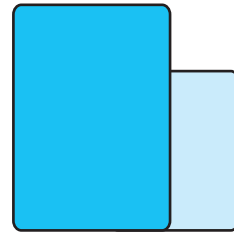
7てん



()



(○)

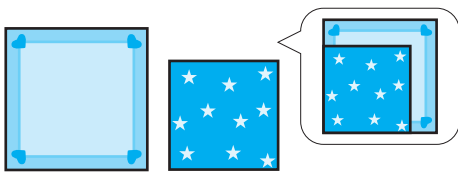


()

2 ひろい ほうに ○を つけましょう。


16てん(1つ8)

①



(○) ()

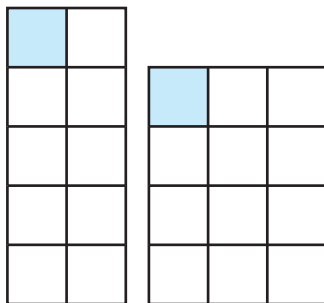
②



(○) ()

3 □には かずを ()には ①か ②を かきましょ
う。

21てん(1つ7)



①

②

①は □が 10 こぶん,

②は □が 12 こぶんだから,

(②)の ほうが ひろい。

おうちの方へ 広さを比べる方法がいろいろあることに気づきましょう。実際に 下じきやハンカチ等を使って比べてみましょう。

1 下じきの角をそろえて重ねて広さを比べます。後ろにある方のしたじきが 広いといえます。

4 ①ガラスは同じ広さなので、ガラスの数で広さを比べることができます。左の窓はガラスが6枚、右は8枚なので、右の方が広いことがわかります。

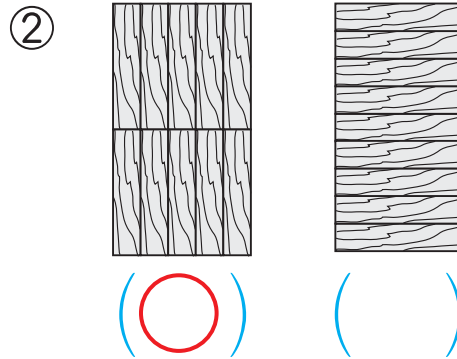
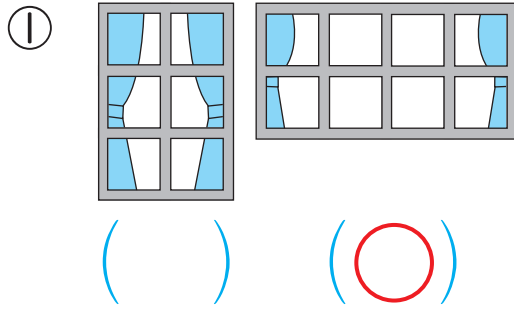
つぎ
次のプリントにつづく →



ひろさくらべ

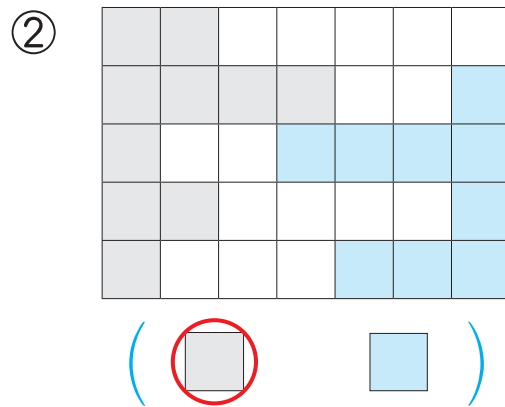
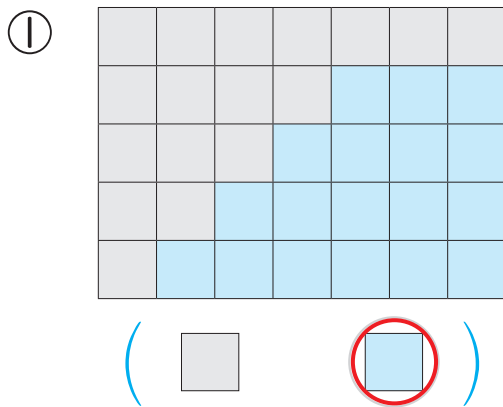
4 ひろい ほうに ○を つけましょう。

16てん(1つ8)




5 □と □では どちらの ほうが ひろいですか。ひろい ほうの □を ○で かこみましょう。

16てん(1つ8)



6 ばしょとりあそびを します。じゃんけんで かったら, □を 1つ ぬります。ぬった ところが ひろい ほうが 勝ちです。だれが かったでしょう。

24てん(1つ8)



■は **13** こ, □は **15** こ。

□の ほうが かずが おおいから,

かったのは (**けい**) さん。

ひろさを くらべる いろいろな しかたを おぼえよう。

