
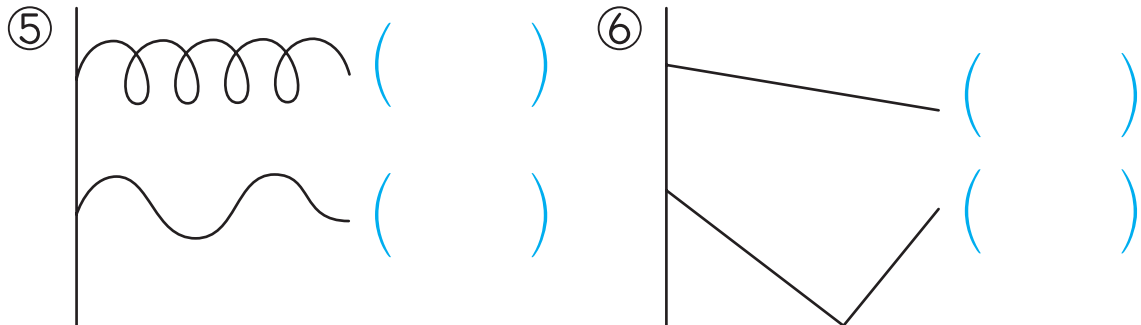
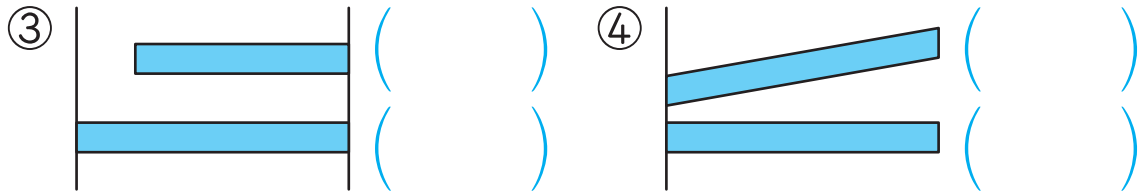
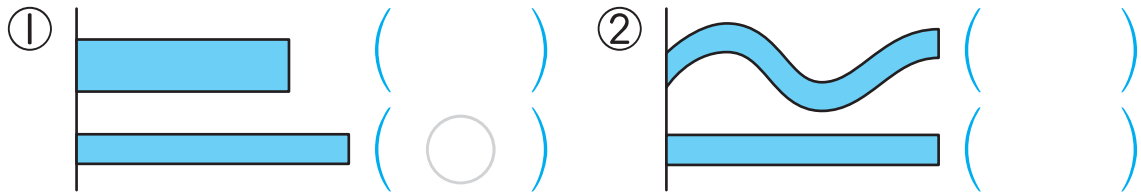


**1** えんぴつの ながさの くらべかたで よい ものに  
○を つけましょう。 8てん



**2** ながい ほうに ○を つけましょう。 42てん(1つ7)

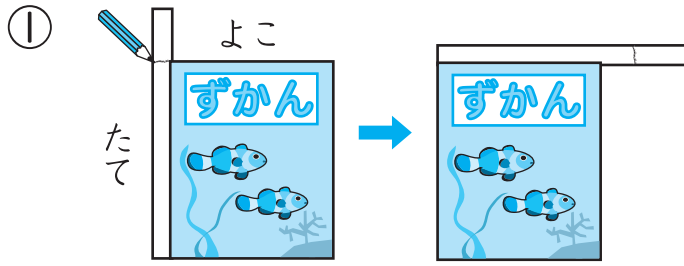


つぎ  
次のプリントにつづく →

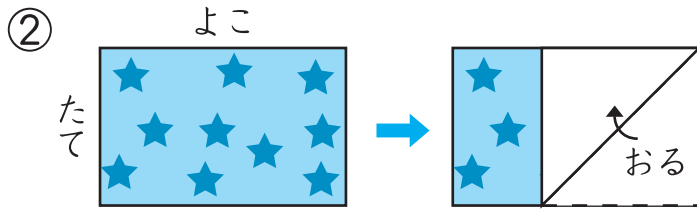
# ながさくらべ①

**3** たてと よこでは どちらが ながいでしょう。

20てん(1つ10)



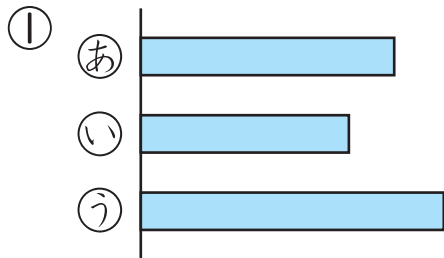
(たて)



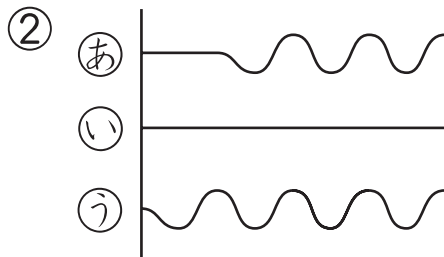
( )

**4** ながい じゅんに かきましょう。

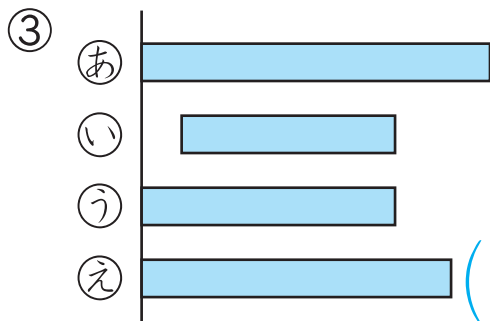
30てん(1つ10)




(う) → (あ) → (い)



( ) → ( ) → ( )



( ) → ( ) → ( ) → ( )



ながさを くらべるときは、はしを そろえて、まっすぐに のばして くらべることが たいせつだよ。



# ながさくらべ②

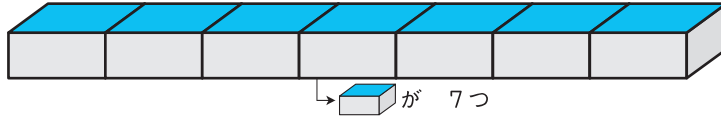
1/2まい

てん

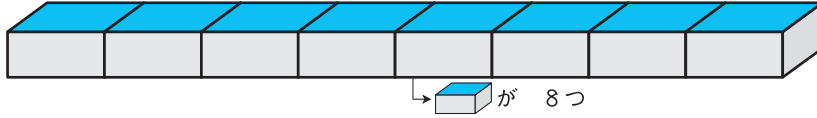
1 ながい ほうに ○を つけましょう。

15てん(1つ5)

①




( )



( ○ )


②



( )

( )

③

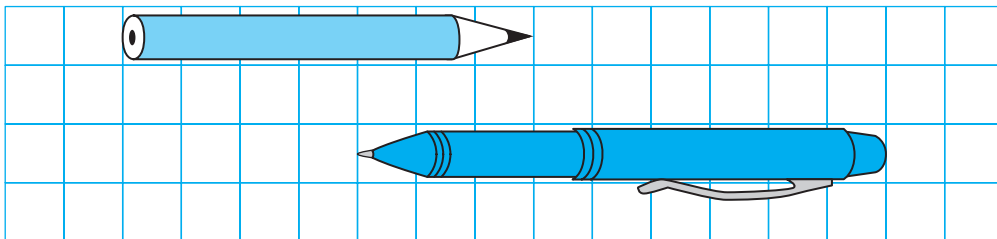


( )

( )

2 したの えを みて こたえましょう。

35てん(1つ7)



① えんぴつは めもり  つぶん。

② ぼおるぺんは めもり  つぶん。

③  は  より

めもり  つぶん ながい。



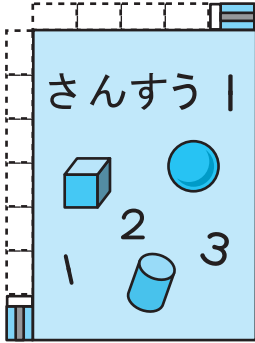
つぎ 次のプリントにつづく →



# ながさくらべ②

**3** けしごむを つかって きょうかしよの ながさを はかりました。□に はいる かずを かきましょう。

30てん(1つ10)



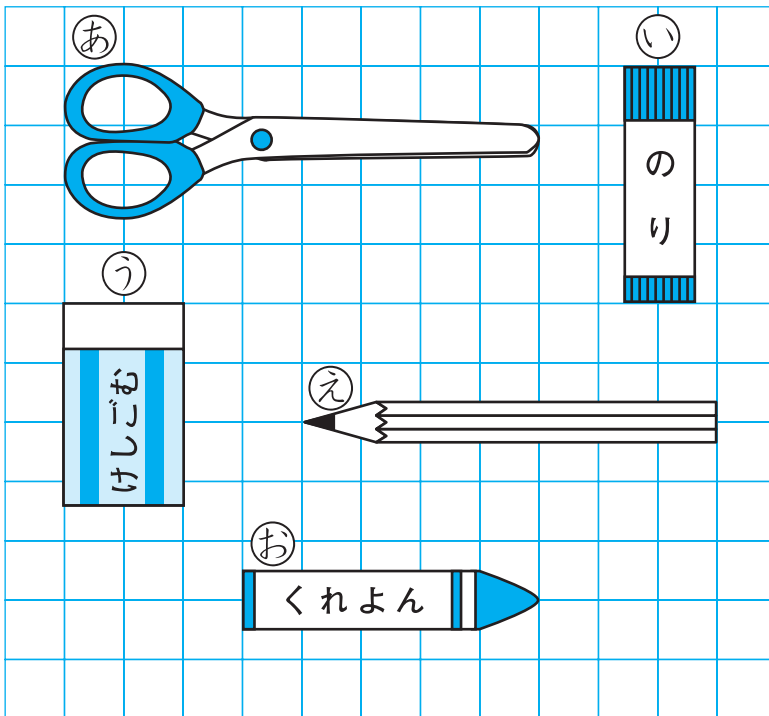
① たては、けしごむ  つぶん。

② よこは、けしごむ  つぶん。

③ たてが よこより けしごむ  つぶん ながい。

**4** ながい じゅんに ㊦, ㊧, ㊨, ㊩, ㊪を かきましょ  
う。

20てん



めもりを かぞえて  
ながさを  
くらべよう。

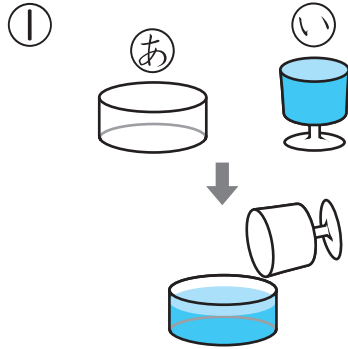


(㊦) → ( ) → ( ) → ( ) → ( )

「〇の いくつぶん」で ながさを あらわすと、ながさくらべが しやすい  
ね。

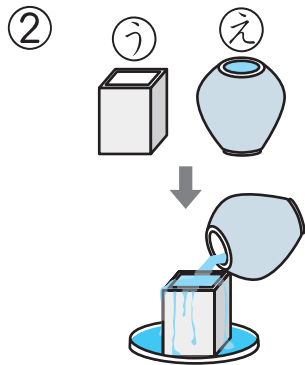


**1** 2つの いれもので どちらが おおく はいるか  
しらべました。 12てん(1つ6)



①の みずを ②に 入れたら  
とちゅうまでしか はいりません  
でした。②と ①では どちらが  
おおく はいるでしょう。

( )

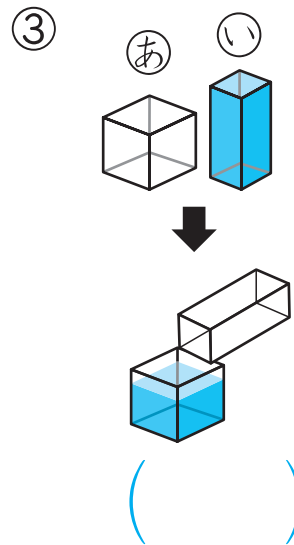
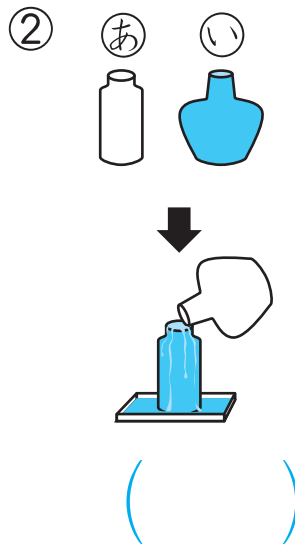
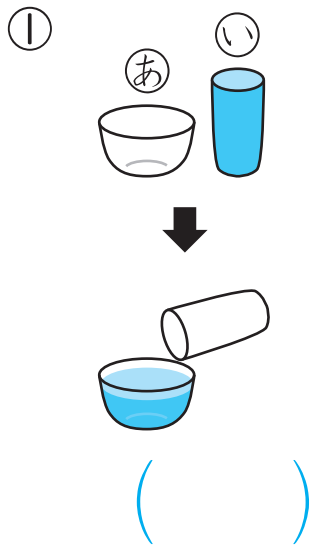


②の みずを ①に 入れたら  
あふれて しまいました。①と  
②では どちらが おおく  
はいるでしょう。

( )

**2** おおく はいるのは ②, ①の どちらでしょう。

24てん(1つ8)




つぎ  
次のプリントにつづく →

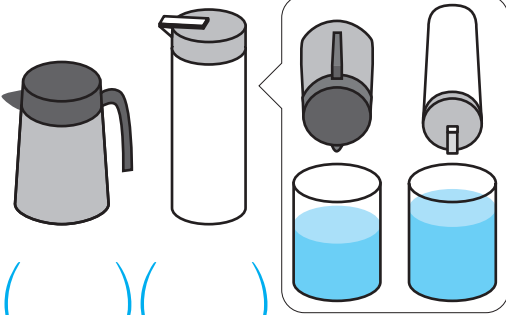


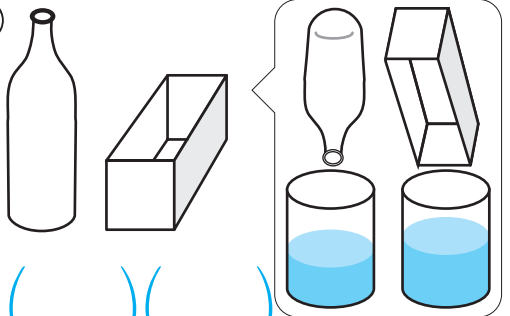
# かさくらべ①

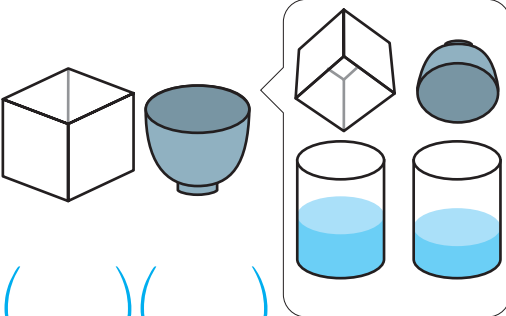
**3** おおく はいる ほうに ○を つけましょう。

32てん(1つ8)

①  ( ) ( )

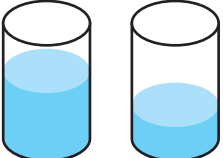
②  ( ) ( )

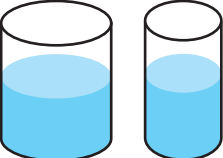
③  ( ) ( )


④  ( ) ( )

**4** みずが おおく はいって いる ほうに ○を つ けましょう。

24てん(1つ8)

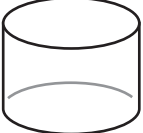
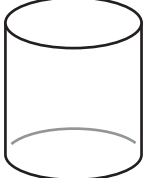

①  ( ) ( )

②  ( ) ( )

③  ( ) ( )

**5** みずが いちばん おおく はいる いれものは、**あ**、**い**、**う**の どれでしょう。

8てん

**あ**  **い**  **う**  ( )

ほかの いれものに みずを うつしても かさは かわらないよ。

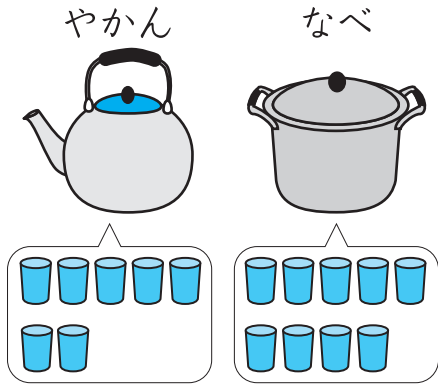


# かさくらべ②

1/2まい

てん

1 みずが おおく はいるのは、やかんか なべかを  
しらべました。□に かずや ことばを かきましよう。



12てん(1つ4)

やかんには みずが こっぷで

はいぶん はいりました。


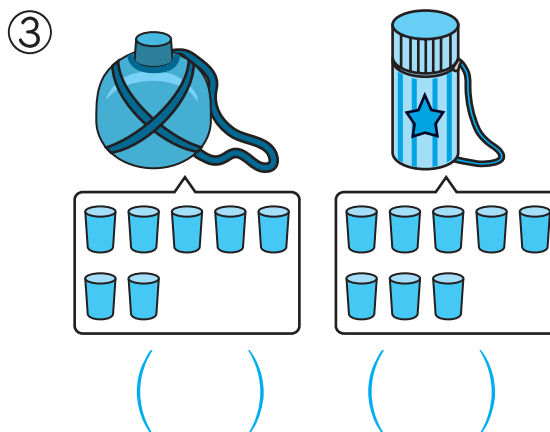
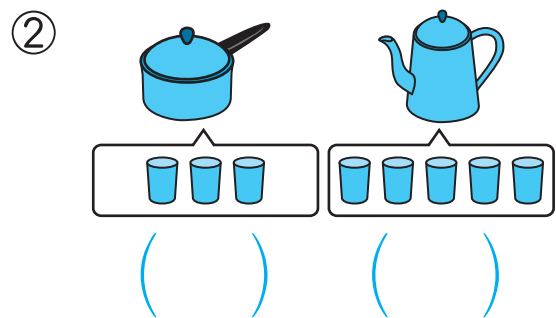
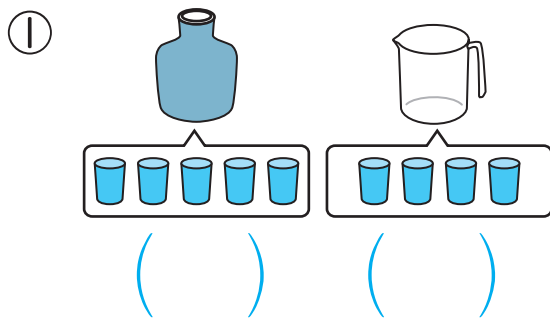
なべには みずが こっぷで

はいぶん はいりました。

みずが おおく はいるのは  です。

2 おおく はいる ほうに ○を つけましよう。

40てん(1つ10)











つぎ  
次のプリントにつづく →

# かさくらべ②

3 おおく はいる ほうに ○を つけましょう。

18てん(1つ9)





①   ②  

 で 8はい  で 9はい  で 13はい  で 11はい





















( ) ( ) ( ) ( )

4 おおく はいる じゅんに なまえを かきましよう。





30てん(1つ15)

①    





びん ペっとぼとる やかん せんめんき

( ) → ( ) → ( ) → ( )

②    

なべ じょうろ きんぎょばち ばけつ

 で 10はい  で 12はい  で 11はい  で 15はい

( ) → ( ) → ( ) → ( )

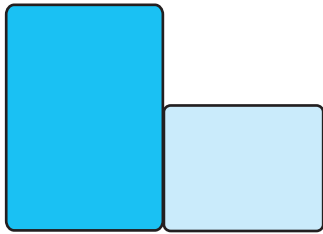
かさを こつぷの なんはいぶんで あらわす ことが できるね。






1 したじきの ひろさを くらべます。くらべかたで よいものに ○を つけましょう。

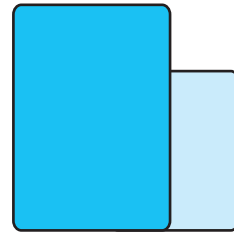
7てん



( )



( )




( )

2 ひろい ほうに ○を つけましょう。


16てん(1つ8)

①



( ) ( )

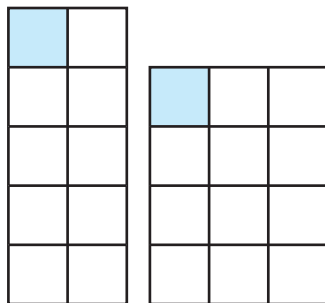
②



( ) ( )

3 □には かずを ( )には ①か ②を かきましょ  
う。

21てん(1つ7)



①

②

①は □が □こぶん,

②は □が □こぶんだから,

( )の ほうが ひろい。



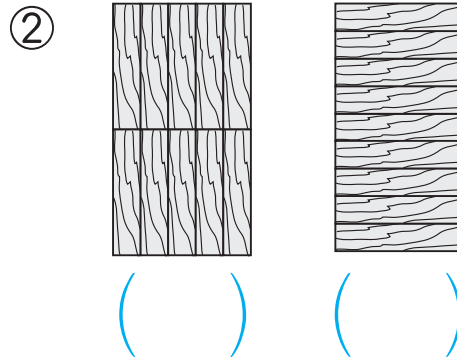
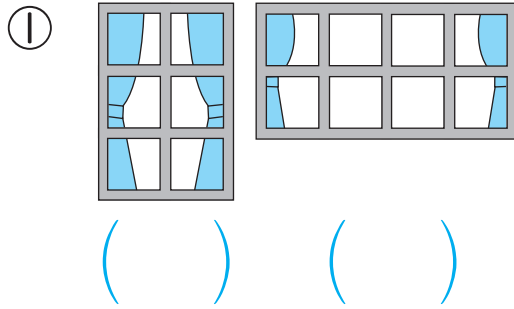
つぎ  
次のプリントにつづく →



# ひろさくらべ

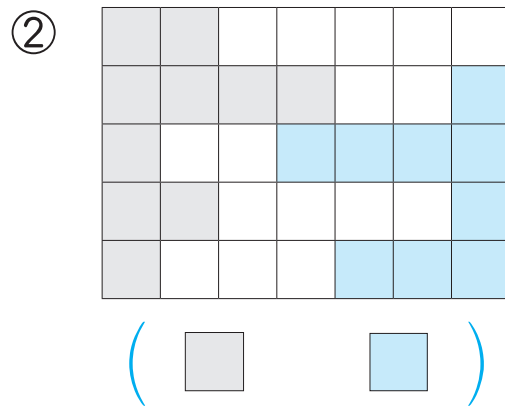
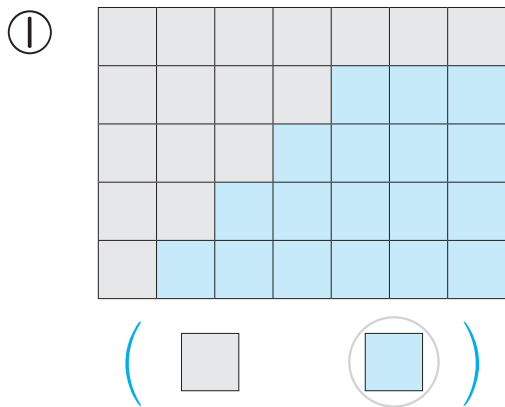
**4** ひろい ほうに ○を つけましょう。

16てん(1つ8)




**5** □と □では どちらの ほうが ひろいですか。ひろい ほうの □を ○で かこみましょう。

16てん(1つ8)



**6** ばしょとりあそびを します。じゃんけんで かったら, □を 1つ ぬります。ぬった ところが ひろい ほうが 勝ちです。だれが かったでしょう。24てん(1つ8)



■は □こ, ■は □こ。  
 ■の ほうが かずが おおいから、  
 かったのは ( )さん。

ひろさを くらべる いろいろな しかたを おぼえよう。