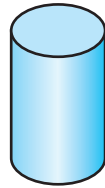
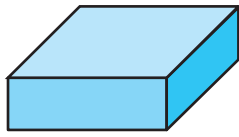
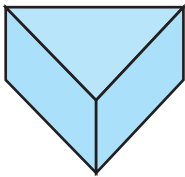
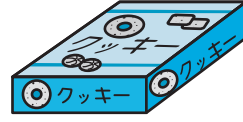
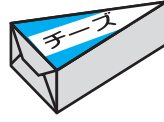


# いろいろな かたち

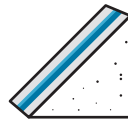

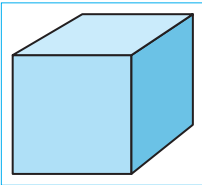
1/2まい

1 おなじ かたちを —— で むすびましょう。20てん(1つ5)

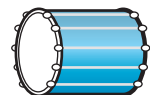
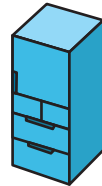
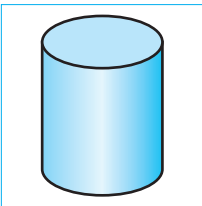


2 □の なかの かたちと おなじ かたちに ○をつけましょう。24てん(1つ8)


①



②



③

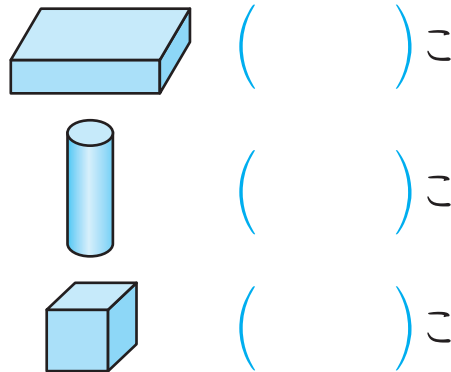
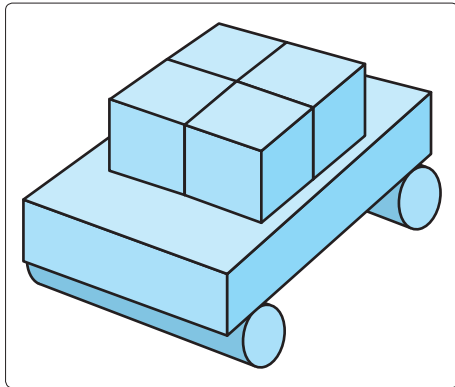


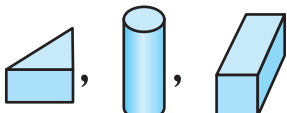
つぎ 次のプリントにつづく →

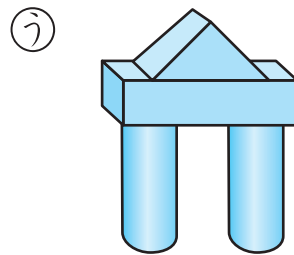




# いろいろなかたち

**3** つみきを つかって くるまを つくりました。つ  
 かった つみきは なんこでしょう。 18てん(1つ6)

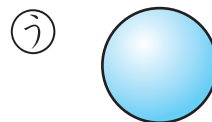
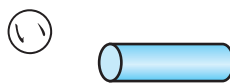



**4**  の つみきを なんこか つかっても  
 できない かたちは、どれでしょう。 24てん

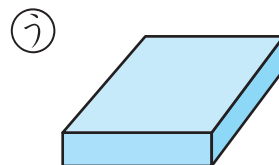
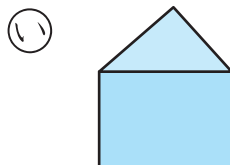
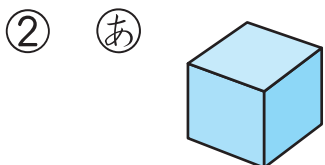


( )

**5** ちがう なかまの かたちは どれでしょう。 14てん(1つ7)



( )



( )

みの まわりに ある ものの かたちを しらべてみよう。