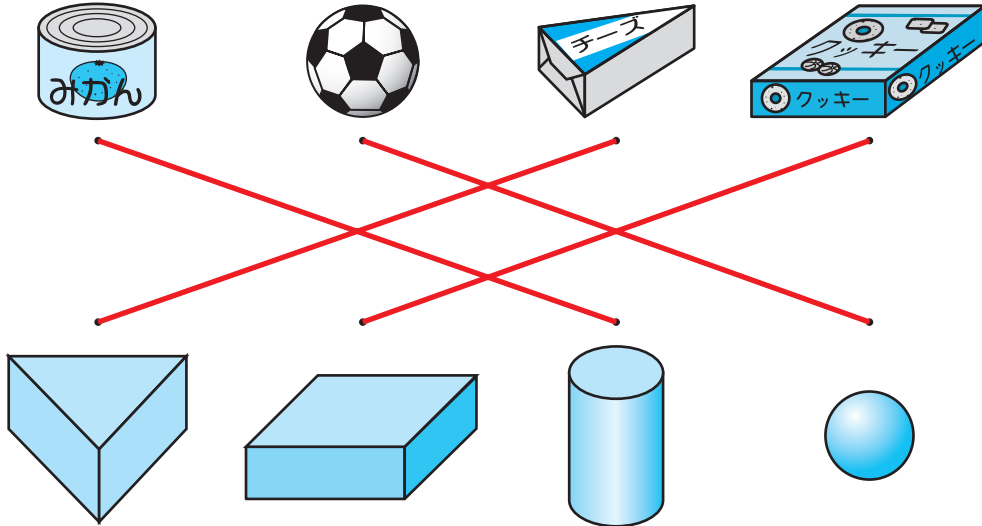


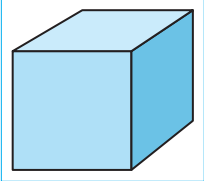


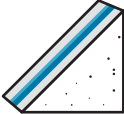

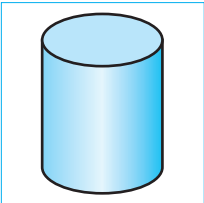



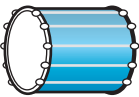





# いろいろな かたち

1/2まい

1 おなじ かたちを —— で むすびましょう。20てん(1つ5)



2 □の なかの かたちと おなじ かたちに ○をつけましょう。24てん(1つ8)

①					
	( )	( )	(○)	( )	( )
②					
	( )	( )	( )	( )	(○)
③					
	( )	( )	( )	( )	(○)

**おうちの方へ** 身近な物で、円柱(筒のようなもの)、球(ボールのようなもの)、三角柱(箱のようなもの)、直方体(箱のようなもの)の違いを勉強します。

5 立体を、細かい特徴別に分類できるようにします。①は平面があるかどうか、②は面の形に注目します。

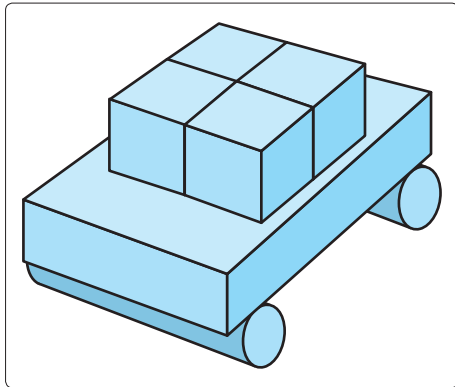





つぎ 次のプリントにつづく →

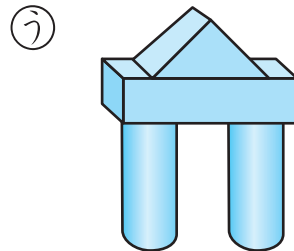




# いろいろなかたち

**3** つみきを つかって くるまを つくりました。つ  
 かった つみきは なんこでしょう。 18てん(1つ6)

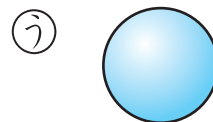
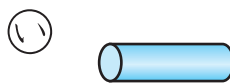



**4** , ,  の つみきを なんこか つかっても  
 できない かたちは、どれでしょう。 24てん

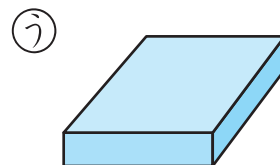
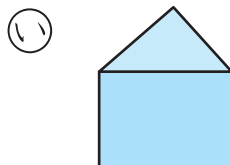
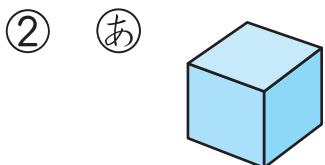


( い )

**5** ちがう なかまの かたちは どれでしょう。 14てん(1つ7)



( う )



( い )

みの まわりに ある ものの かたちを しらべてみよう。

