

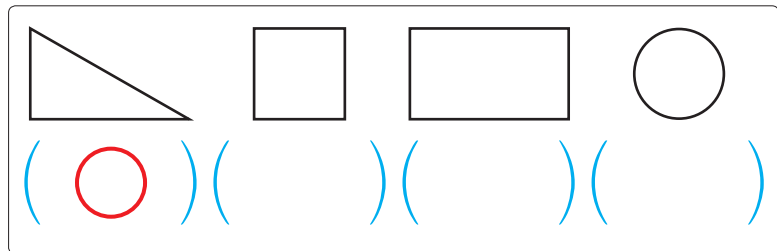
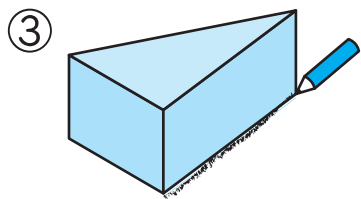
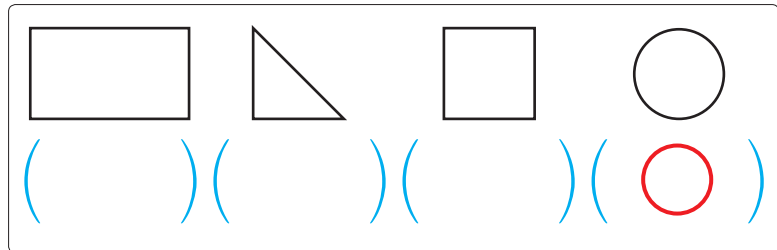
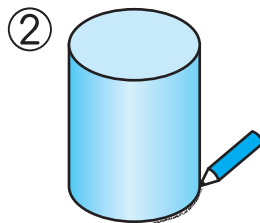
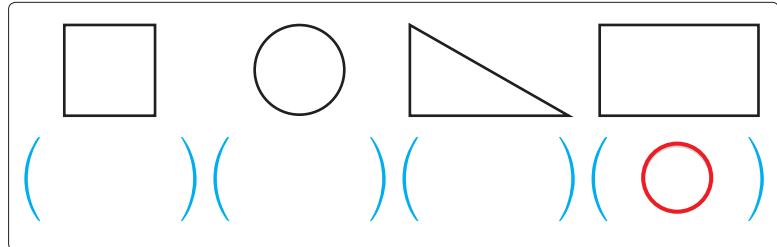
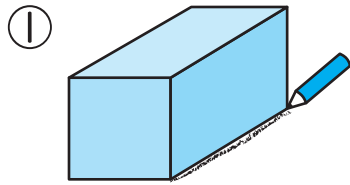
かたちをうつして

1/2まい

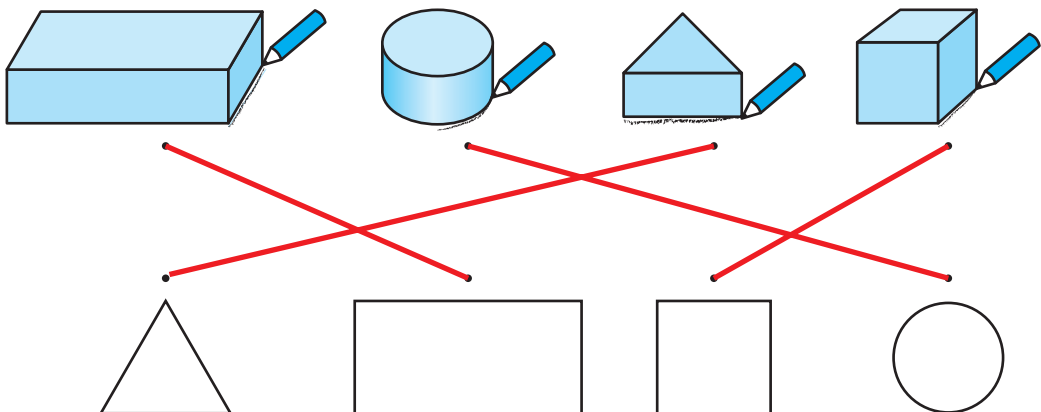
てん

1 ひだりの つみきを つぎの ように うつしとりした。できる かたちに ○を つけましょう。

24てん(1)



2 つみきを つぎの ように うつすと どんな かちが かけるか ——で おすびましょう。 24てん(1)



おうちの方へ つみ木をうつしたときの形がつみ木を真上から見たときの形だということに気づきましょう。

1 わからないときは、実際につみ木やつみ木に似た物を使って、形をうつとってみましょう。

3 三角形、円、長方形、正方形の性質をいかして、自由に描いてみましょう。

5 2種類の形がうつしとれることに気づきましょう。

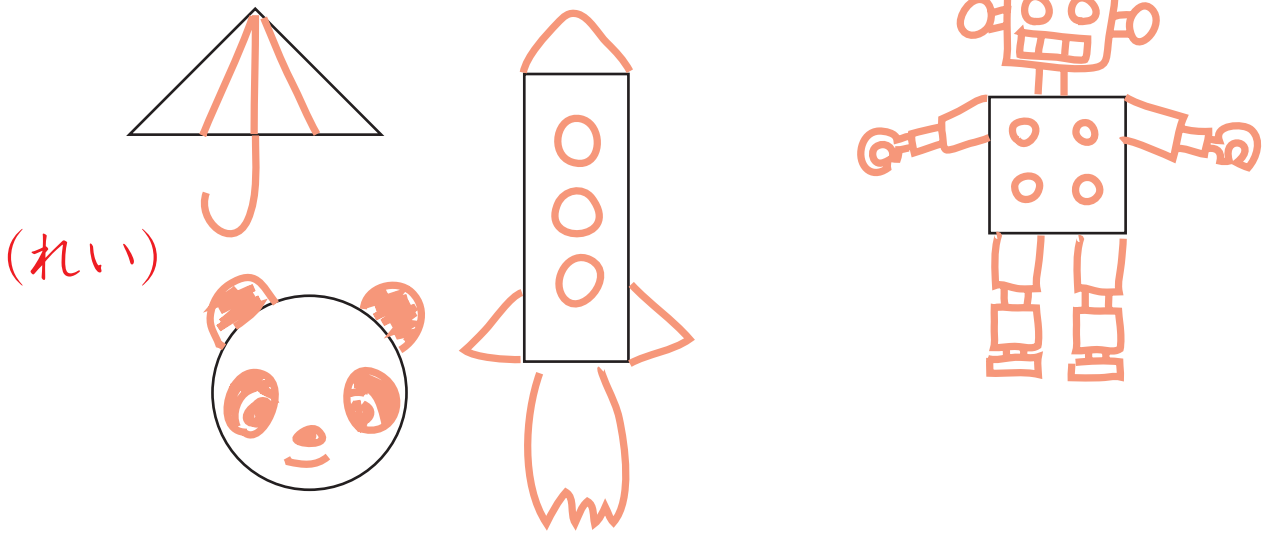
つぎ 次のプリントにつづく →



かたちをうつして

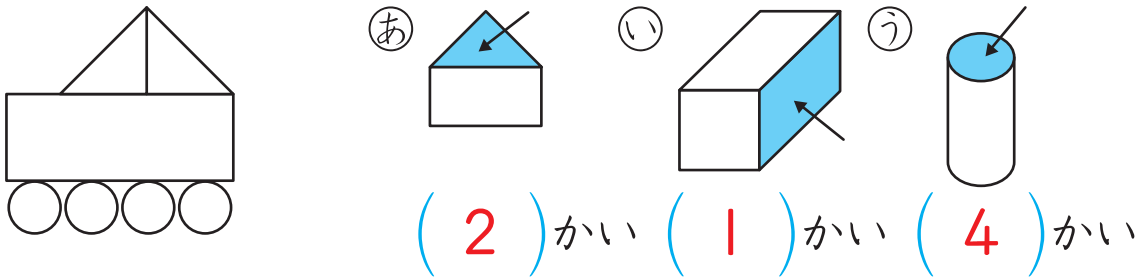
3 したの かたちを つかって えを かきましょう。

24てん(1つ6)



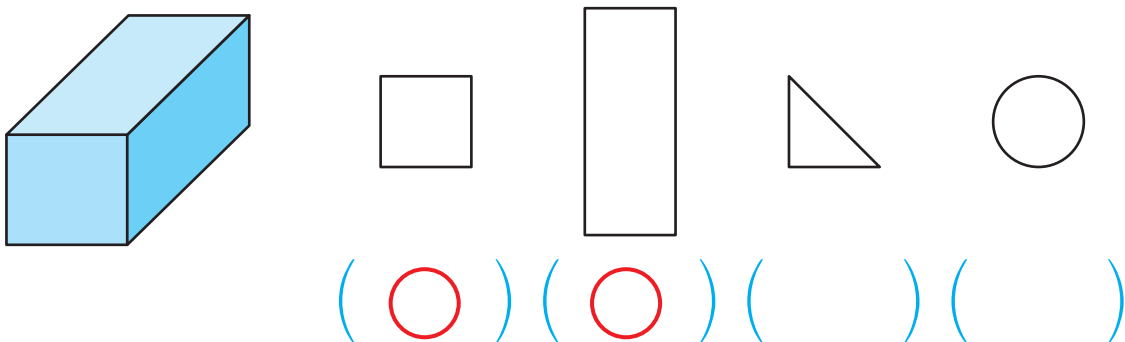
4 したの えは つぎの つみきの ↓の ところを なんかい うつして かいたでしょう。

18てん(1つ6)



5 したの つみきで うつしとれる かたち ぜんぶに ○を つけましょう。

10てん



1つの つみきでも たてたり たおしたりすると、いろいろな かたちが かけるよ。やってみよう。