
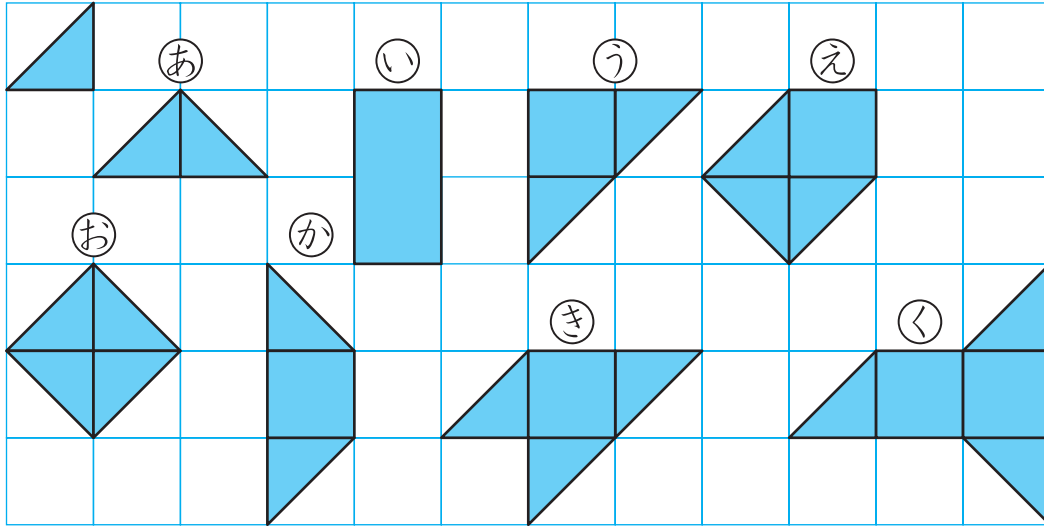



1 したの かたちは  を なんまい つかっていますか。

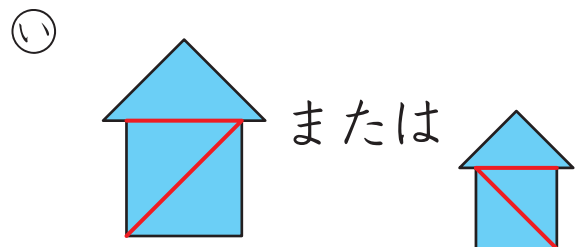
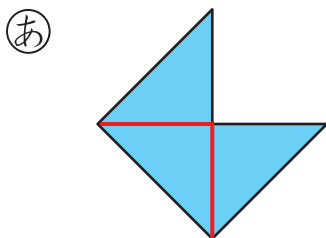
56てん(1つ7)



- (あ) ( 2 )まい (い) ( 4 )まい (う) ( 4 )まい  
 (え) ( 5 )まい (お) ( 4 )まい (か) ( 4 )まい  
 (き) ( 5 )まい (く) ( 7 )まい

2  を 3まい ならべました。つないだ ところに せんを かきましょう。

14てん(1つ7)



**おうちの方へ** 色板やひごを使って、いろいろな形を作ってみましょう。

3 それぞれ、点何こぶんととれば同じ形になるか、もとの図をしっかりと読みとりましょう。ななめの線は、よこに点何こぶん、たてに点何こぶん進んだ点をとればよいかを考えます。

4 数えたひごにしるしをつけていくと、数えまちがいがふせげます。




つぎ 次のプリントにつづく →



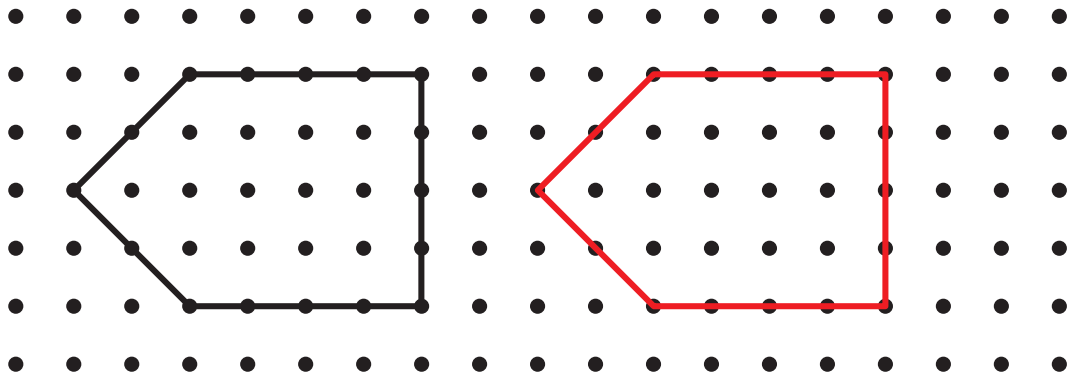
# いろいろなかたちづくり①

**3** ひだりの かたちと おなじ かたちを かきましょ  
う。 12てん(1つ6)

①




②



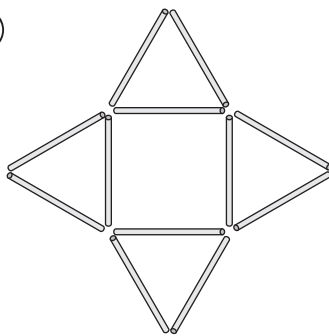
**4** したの かたちは なんぼんの ひごで できている  
でしょう。 18てん(1つ6)

①



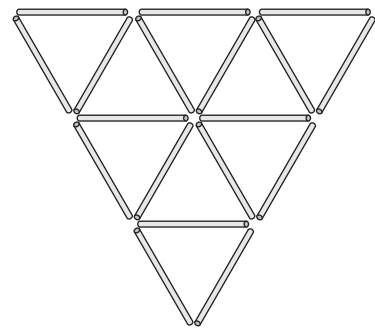
( 9 )ほん

②



( 12 )ほん

③



( 18 )ほん

△を くみあわせると いろいろな かたちが できるね。おもしろい かた  
ちを つくって みよう。

