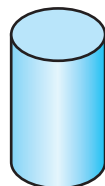
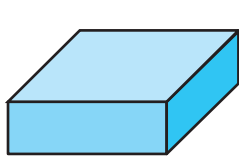
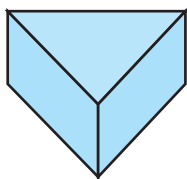
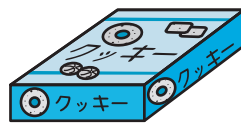
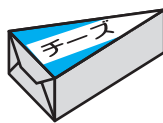


# いろいろな かたち

1/2まい


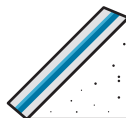
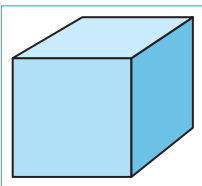
てん

1 おなじ かたちを —— で むすびましょう。20てん(1つ5)


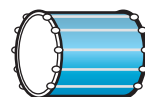
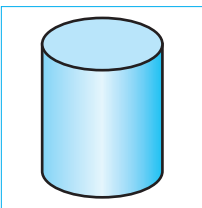


2 □の なかの かたちと おなじ かたちに ○をつけましょう。24てん(1つ8)



①



②



③

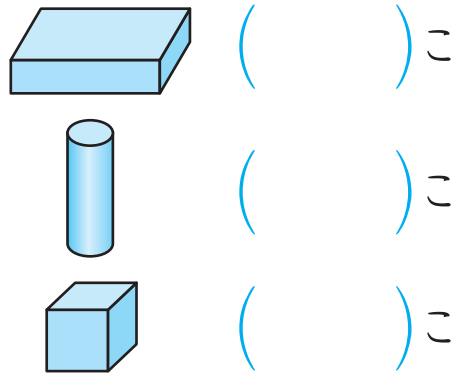
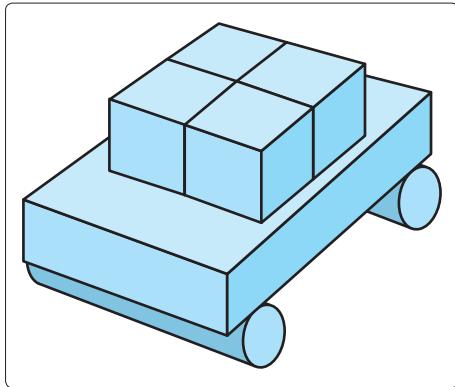





つぎ 次のプリントにつづく →

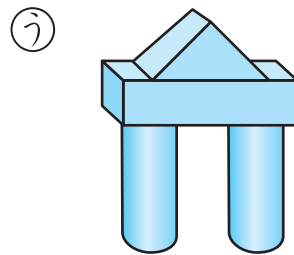




# いろいろなかたち

**3** つみきを つかって くるまを つくりました。つ  
 かった つみきは なんこでしょう。 18てん(1つ6)

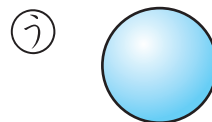
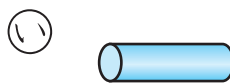



**4** , ,  の つみきを なんこか つかっても  
 できない かたちは、どれでしょう。 24てん

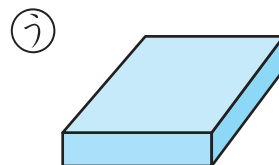
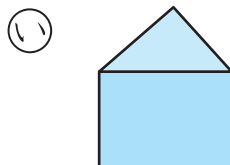
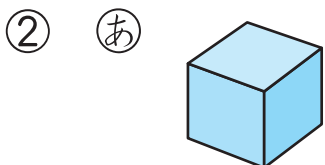


( )

**5** ちがう なかまの かたちは どれでしょう。 14てん(1つ7)



( )



( )

みの まわりに ある ものの かたちを しらべてみよう。



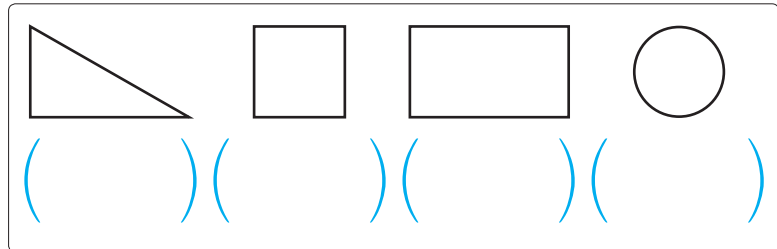
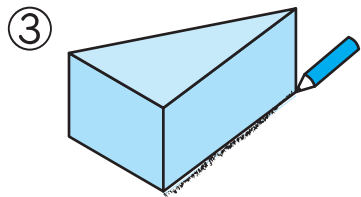
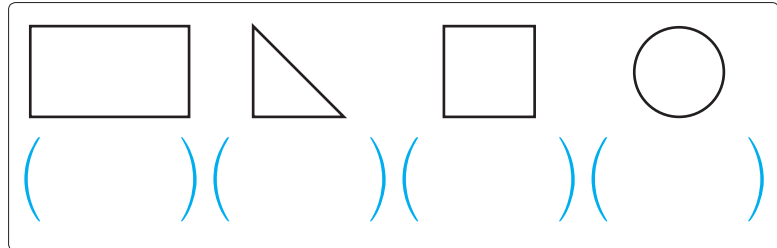
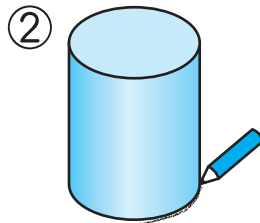
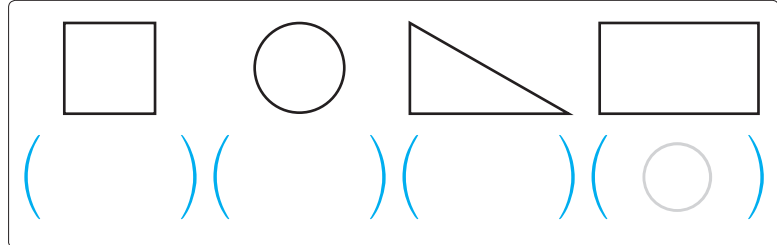
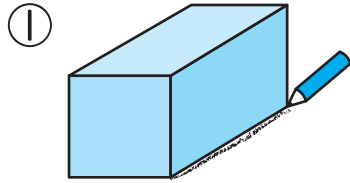
# かたちをうつして

1/2まい

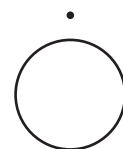

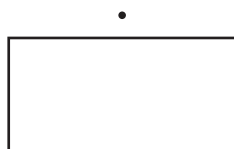
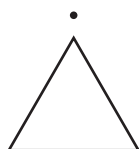
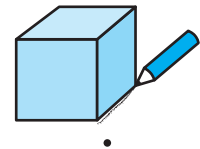
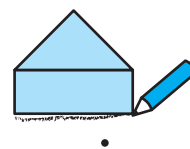
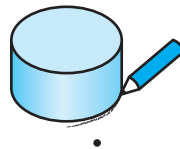
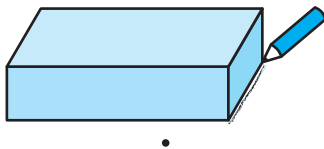
てん

**1** ひだりの つみきを つぎの ように うつしとりした。できる かたちに ○を つけましょう。

24てん(1)



**2** つみきを つぎの ように うつすと どんな かちが かけるか ——で おすびましょう。 24てん(1)



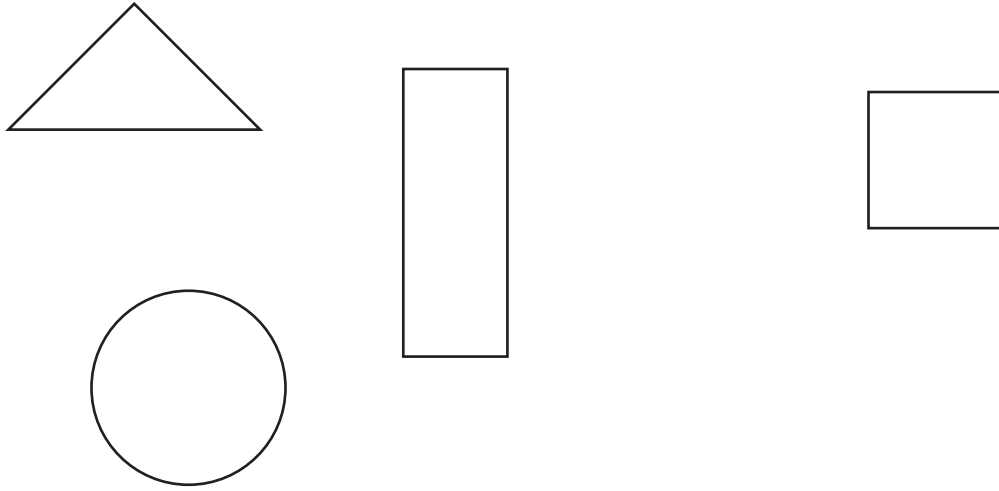
つぎ 次のプリントにつづく →



# かたちをうつして

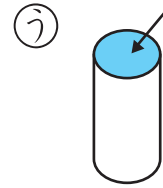
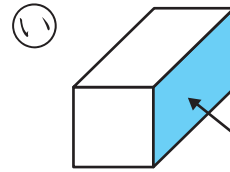
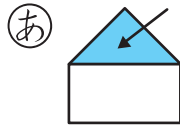
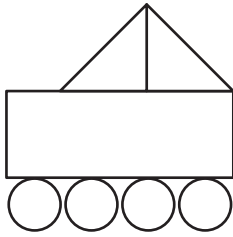
**3** したの かたちを つかって えを かきましょう。

24てん(1つ6)



**4** したの えは つぎの つみきの ↓の ところを  
なんかい うつして かいたでしょう。

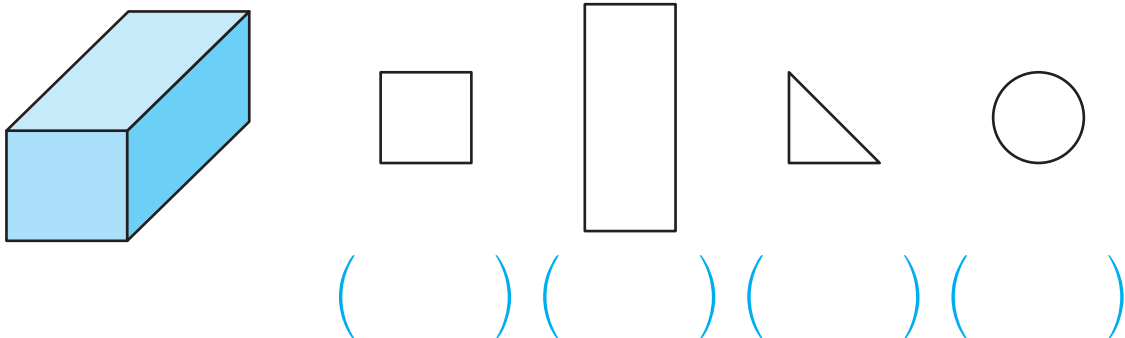
18てん(1つ6)



( )かい ( )かい ( )かい

**5** したの つみきで うつしとれる かたち ぜんぶに  
○を つけましょう。

10てん




1つの つみきでも たてたり たおしたりすると、いろいろな かたちが  
かけるよ。やってみよう。

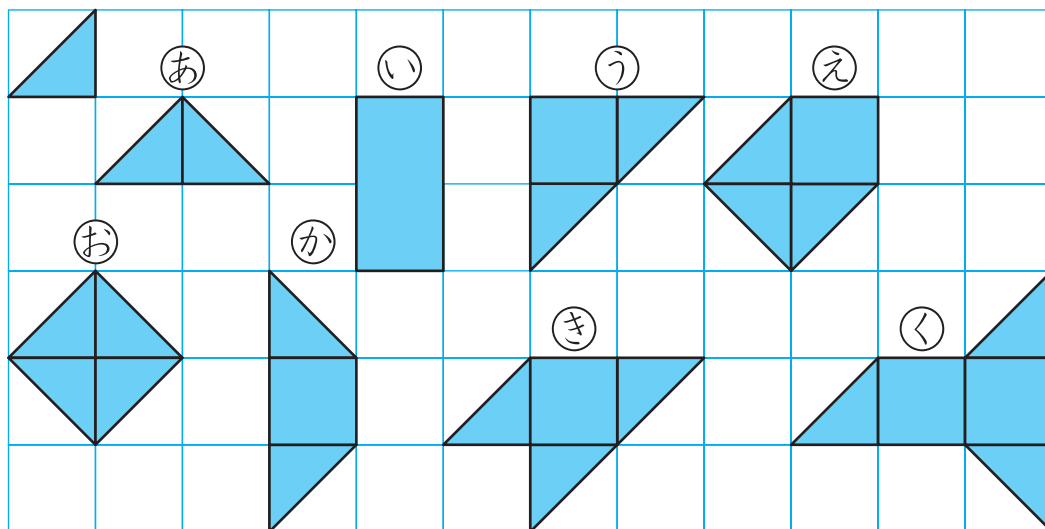
# いろいろなかたちづくり①

1/2まい

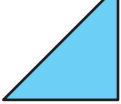
てん

1 したの かたちは  を なんまい つかっていますか。

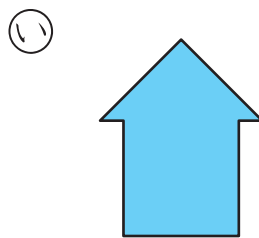
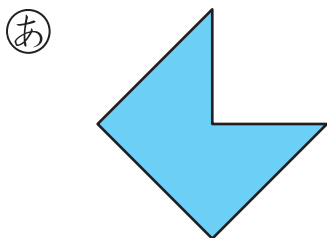
56てん(1つ7)



- あ ( ) まい    い ( ) まい    う ( ) まい
- え ( ) まい    お ( ) まい    か ( ) まい
- き ( ) まい    く ( ) まい

2  を 3まい ならべました。つないだ ところに せんを かきましょう。

14てん(1つ7)




つぎ 次のプリントにつづく →



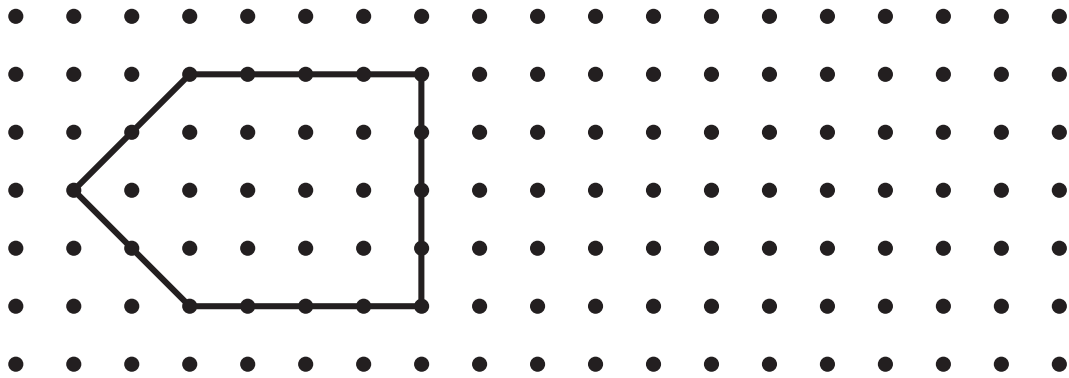
# いろいろなかたちづくり①

**3** ひだりの かたちと おなじ かたちを かきましょ  
う。 12てん(1つ6)

①




②



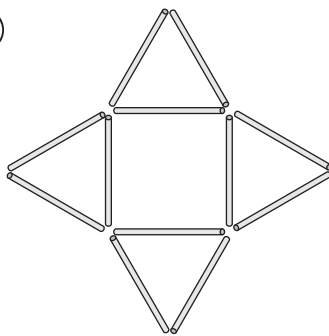
**4** したの かたちは なんぼんの ひごで できている  
でしょう。 18てん(1つ6)

①



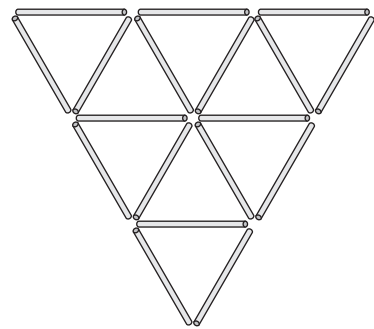
( )ほん

②



( )ほん

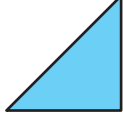
③



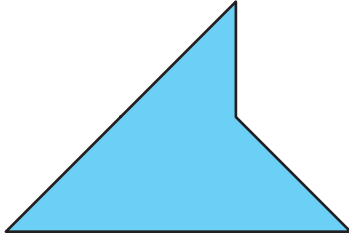
( )ほん

△を くみあわせると いろいろな かたちが できるね。おもしろい かた  
ちを つくって みよう。




1 したの かたちは  
 るでしょう。  が なんまいで できてい  
 24てん(1つ8)

①




( )まい

②



( )まい


③




( )まい

2 ひだりの かたちと おなじ かたちを かきましょ  
 う。 20てん(1つ10)

①



②



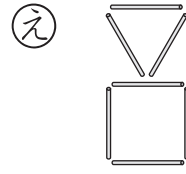
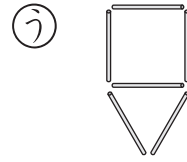
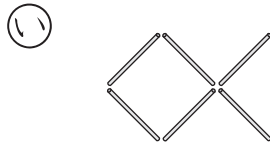
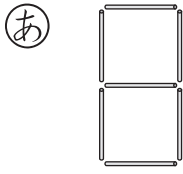
つぎ  
 次のプリントにつづく →



# いろいろなかたちづくり②

**3** ひごを つかって できる かたち ぜんぶに ○を つけましょう。 40てん(1つ8)

① 6ほんの ひごを つかう



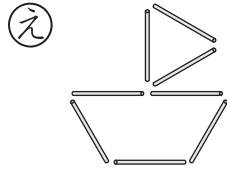
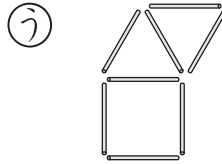
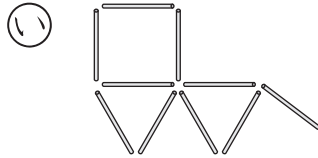
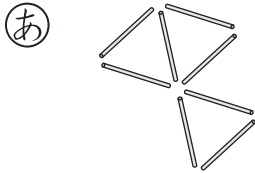
( )

( )

( )

( )

② 8ほんの ひごを つかう



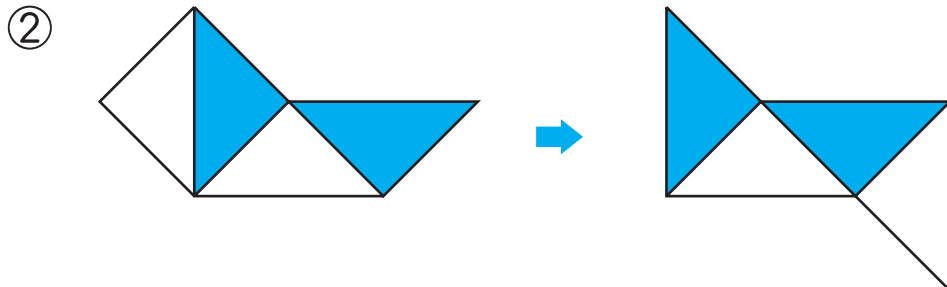
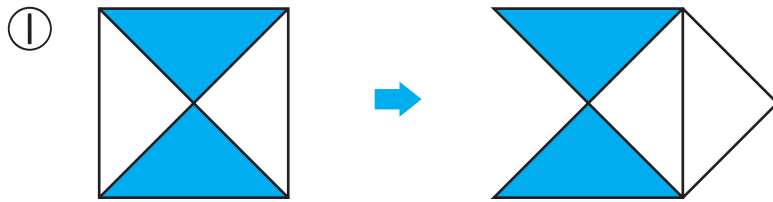
( )

( )

( )

( )

**4** いろいろいたを 1まい うごかして かたちを かえました。うごかした いろいろいたに ○を つけましょう。 16てん(1つ8)



おなじ かずの ひごでも いろいろな かたちができるね。3は かぞえた ひごに しるしをつけて いくと、ただしく かぞえられるよ。

