

長さ(2)

長さの単位 対象：2年生 ねらい：「ミリメートル (mm)」の単位を覚え、長さをはかれるようになる。

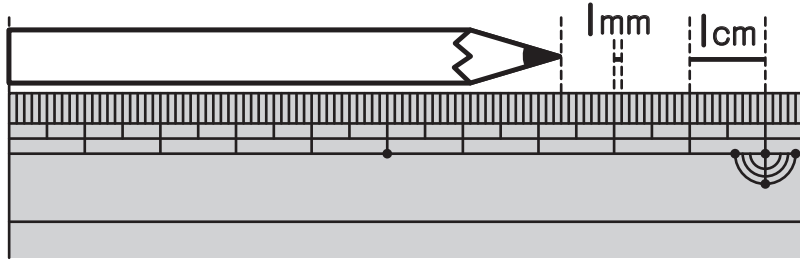
てん

この えんぴつの ^{なが}長さは？

学習プリント無料ダウンロード

ちびむすドリル

© ちびむすドリル



● なぞりましょう。

7cm 3mm
センチメートル ミリメートル

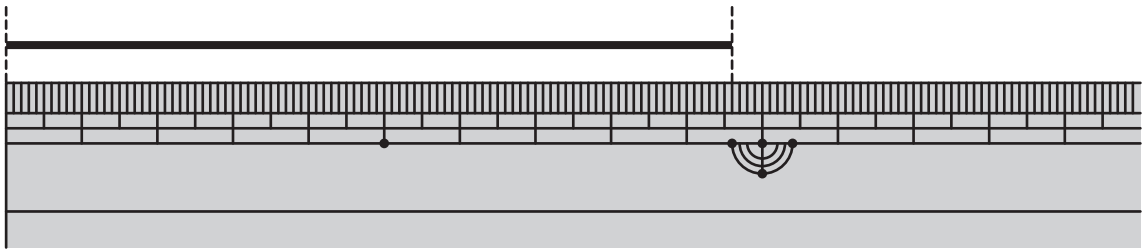


ミリメートルも、
長さのたんいで、mmと書くよ！

1mmが10ぶん分で、1cmだよ。



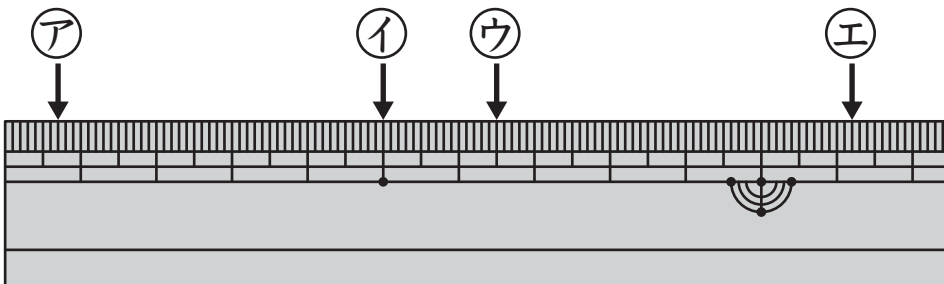
①と②の□にあてはまるかず数を書きましょう。1つ5てん (20)



①この線の長さは、1cmの□9つ分と、1mmの□6つ分です。

②この線の長さは、□9cm □6mmです。

②ものさしの左はしから、ア、イ、ウ、エまでの長さを書きましょう。
1つ20てん (80)



ア (7mm)

イ (5cm)

やってみよう！

上と下で長さがおなじなのはどれかな？ 線でむすぼう。

10mm	2cm	3cm4mm	18mm	5cm5mm
20mm	1cm	55mm	34mm	1cm8mm

(Red lines connect 10mm to 1cm, 2cm to 20mm, 3cm4mm to 34mm, 18mm to 1cm8mm, and 5cm5mm to 55mm.)

ウ (6cm 5mm)

エ (1cm 2mm)