

# 長さ(2)

長さの単位 対象：2年生 ねらい：「ミリメートル (mm)」の単位を覚え、長さをはかれるようになる。

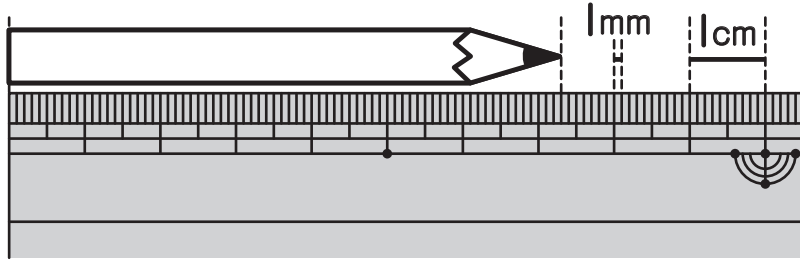
てん

この えんぴつの <sup>なが</sup>長さは？

学習プリント無料ダウンロード

ちびむすドリル

© ちびむすドリル



● なぞりましょう。

7cm 3mm  
センチメートル ミリメートル

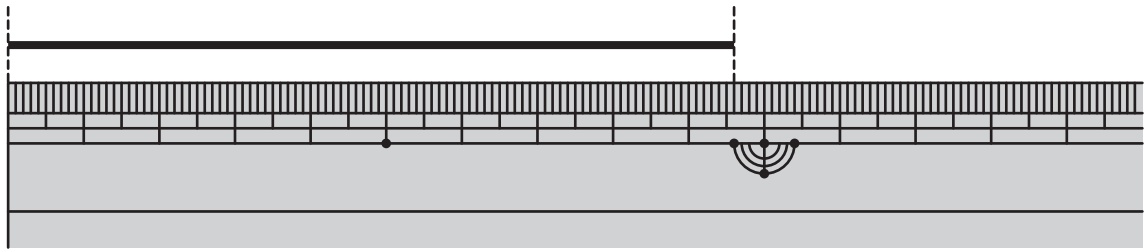


ミリメートルも、  
長さのたんいで、mmと書くよ！

1mmが10ぶん分で、1cmだよ。



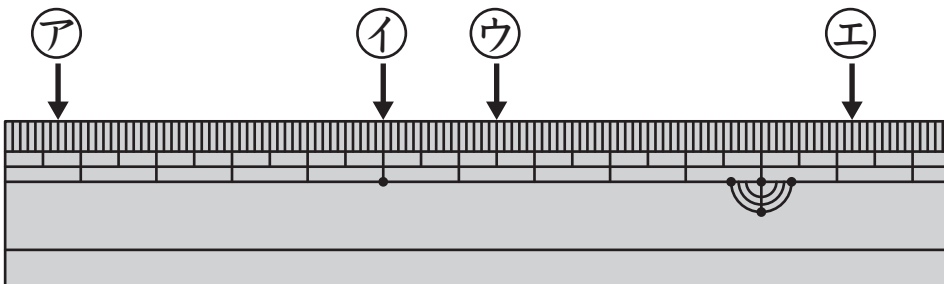
1 ①と②の□にあてはまる数を書きましょう。1つ5てん (20)



① この <sup>せん</sup>線の長さは、1cmの□つ分と、1mmの□つ分です。

② この線の長さは、□cm □mmです。

2 ものさしの左はしから、ア、イ、ウ、エまでの長さを書きましょう。  
1つ20てん (80)



ア (            mm )

イ (            cm )

### やってみよう！

上と下で長さがおなじなのはどれかな？ 線でむすぼう。

10mm 2cm 3cm 4mm 18mm 5cm 5mm

20mm 1cm 55mm 34mm 1cm 8mm

ウ (            )

エ (            )