

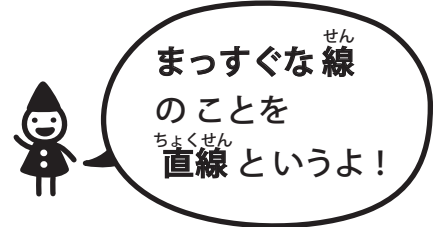
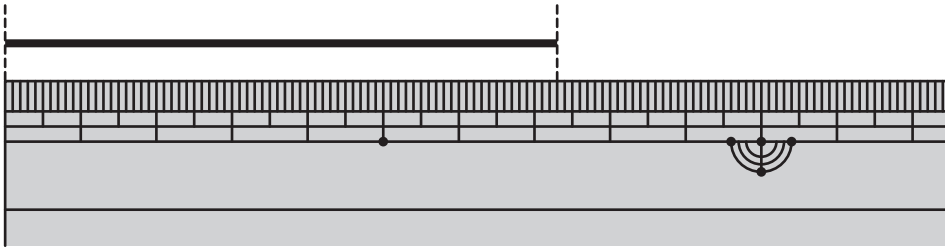
# 長さ(3)

長さの単位

対象：2年生 ねらい：「センチメートル(cm)」と「ミリメートル(mm)」の関係を理解し、正確な長さの直線をひけるようになる。

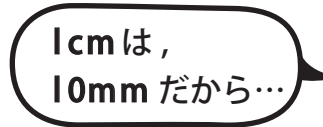
てん

①～③の□にあてはまる数を書きましょう。1つ10てん(30)




① この直線の長さは、7 cm **3** mm です。

② 7 cm は、**70** mm です。



③ この直線の長さは、**73** mm です。



①～⑦の□にあてはまる数を書きましょう。1もん10てん(70)

<れい> 3 cm = **30** mm

④ 26 mm = **2** cm **6** mm

① 4 cm = **40** mm

⑤ 15 mm = **1** cm **5** mm

② 5 cm 5 mm = **55** mm

⑥ 60 mm = **6** cm

③ 8 cm 7 mm = **87** mm

⑦ 92 mm = **9** cm **2** mm

## やってみよう!

ものさしをつかって、↓のところから、㉠～㉥の長さの直線をひこう。

㉠ 8 cm 4 mm ↓

㉡ 14 cm ↓

㉢ 6 cm 8 mm ↓

㉣ 10 cm ↓

