

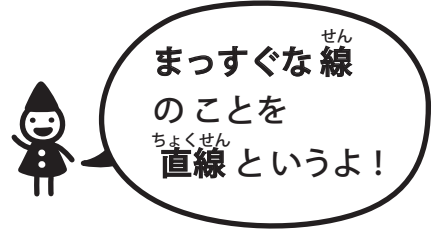
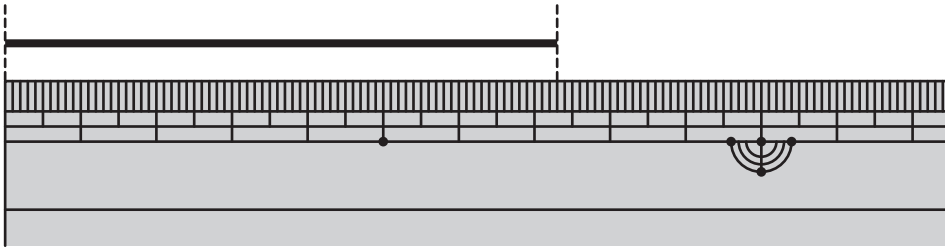
# 長さ(3)

長さの単位

対象：2年生 ねらい：「センチメートル(cm)」と「ミリメートル(mm)」の関係を理解し、正確な長さの直線をひけるようになる。

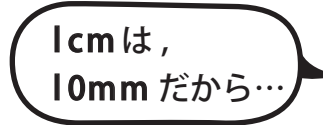
てん

①～③の□にあてはまる数を書きましょう。1つ10てん(30)

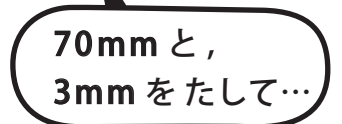


① この直線の長さは、7 cm □ mm です。

② 7 cm は、□ mm です。



③ この直線の長さは、□ mm です。



①～⑦の□にあてはまる数を書きましょう。1もん10てん(70)

<れい> 3 cm = 30 mm

④ 26 mm = □ cm □ mm

① 4 cm = □ mm

⑤ 15 mm = □ cm □ mm

② 5 cm 5 mm = □ mm

⑥ 60 mm = □ cm

③ 8 cm 7 mm = □ mm

⑦ 92 mm = □ cm □ mm

やってみよう!

ものさしをつかって、↓のところから、㊦～㊨の長さの直線をひこう。

㊦ 8 cm 4 mm ↓

㊧ 14 cm ↓

㊨ 6 cm 8 mm ↓

㊩ 10 cm ↓

