

長さ(4)

長さの単位

対象：2年生 ねらい：「センチメートル(cm)」と「ミリメートル(mm)」の関係を理解し、正確な長さの直線をひけるようになる。

てん

①～⑦の□にあてはまる^{かず}数を書きましょう。1もん10てん(70)

<れい> $5\text{ cm } 3\text{ mm} = \boxed{53}\text{ mm}$

④ $97\text{ mm} = \boxed{\quad}\text{ cm } \boxed{\quad}\text{ mm}$

① $1\text{ cm} = \boxed{\quad}\text{ mm}$

⑤ $4\text{ cm } 1\text{ mm} = \boxed{\quad}\text{ mm}$

② $38\text{ mm} = \boxed{\quad}\text{ cm } \boxed{\quad}\text{ mm}$


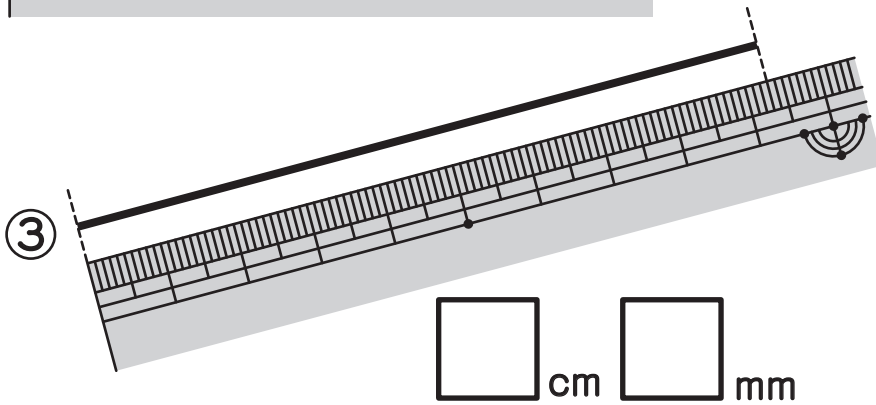
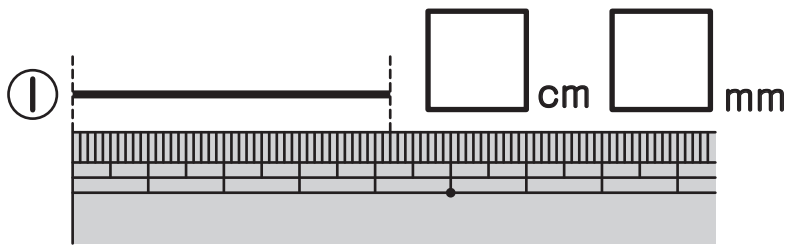
⑥ $80\text{ mm} = \boxed{\quad}\text{ cm}$

③ $6\text{ cm } 3\text{ mm} = \boxed{\quad}\text{ mm}$

⑦ $75\text{ mm} = \boxed{\quad}\text{ cm } \boxed{\quad}\text{ mm}$

①～③の^{ちよくせん}直線の^{なが}長さはどれだけですか。1もん10てん(30)

□にあてはまる数を書きましょう。



やってみよう!

ものさしをつかって、↓のところから、㉠～㉥の長さの直線をひこう。

㉠ $3\text{ cm } 5\text{ mm}$ ↓

㉡ 7 cm ↓

㉢ $11\text{ cm } 8\text{ mm}$ ↓

㉣ 90 mm ↓

