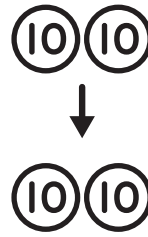
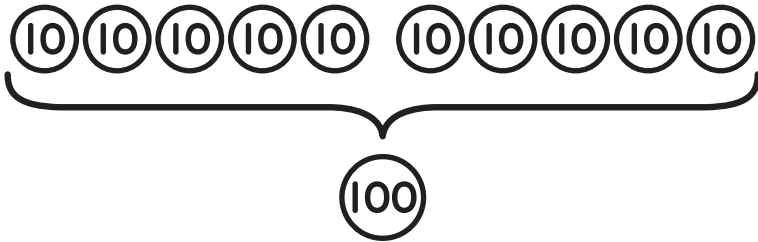


3けたの数 対象：2年生 ねらい：1000以下の10の倍数を、10の集まりとして考えられるようになる。

てん

10が、12こでいくつになる？



1 ①～⑥の□にあてはまる数字を書きましょう。1もん10てん (60)

<れい> 10を、12こあつめると **120** になります。

① 10を、15こあつめると **150** になります。

② 10を、20こあつめると **200** になります。

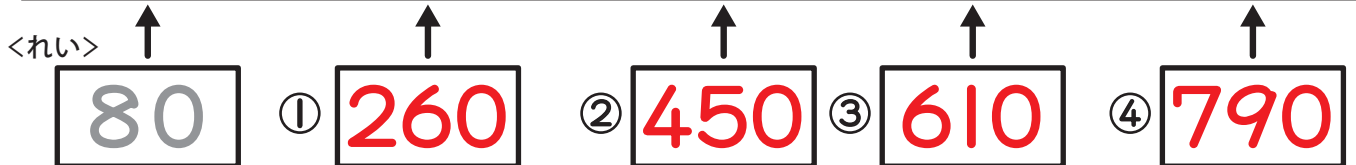
③ 10を、32こあつめると **320** になります。

④ 200は、10を **20** こあつめた かず 数です。

⑤ 520は、10を **52** こあつめた 数です。

⑥ 760は、10を **76** こあつめた 数です。

2 □にあてはまる数を書きましょう。1つ10てん (40)



やってみよう!

上の数の線のいちばん小さい1めもりはいくつかな？

10

