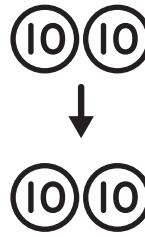
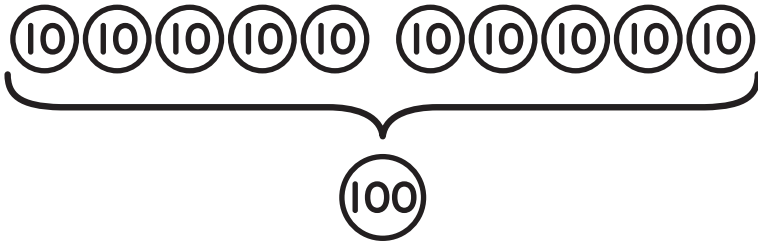


3けたの数 対象：2年生 ねらい：1000以下の10の倍数を、10の集まりとして考えられるようになる。

てん

10が、12こでいくつになる？



1 ①～⑥の□にあてはまる数字^{すうじ}を書きましょう。1もん10てん^か (60)

<れい> 10を、12こあつめると になります。

① 10を、15こあつめると になります。

② 10を、20こあつめると になります。

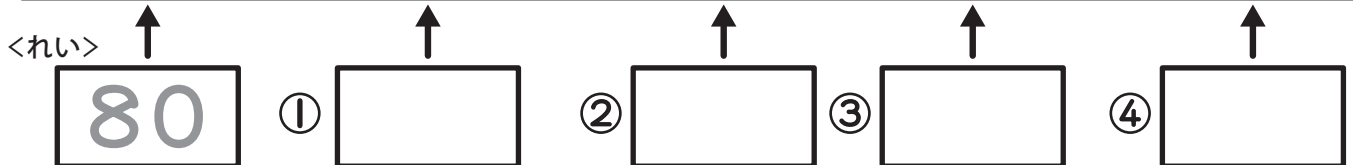
③ 10を、32こあつめると になります。

④ 200は、10を こあつめた^{かず}数です。

⑤ 520は、10を こあつめた数です。

⑥ 760は、10を こあつめた数です。

2 □にあてはまる数を書きましょう。1つ10てん (40)



やってみよう!

上の数の線のいちばん小さい^{せん}めもりはいくつかな? _____

