

水のかさ (1)

水のかさの単位 対象：2年生 ねらい：「デシリットル(dL)」の単位を覚え、水のかさを表せるようになる。


てん

この水とうに入る水のかさは？

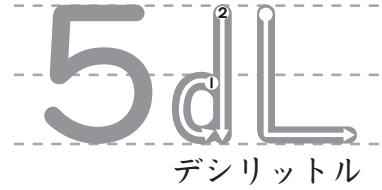
学習プリント無料ダウンロード



© ちびむすドリル



● なぞりましょう。



デシリットル



デシリットルは、
水のかさの **たんい**で、
dLと書くよ！

この水とうには **1dL** の **5つ分**の
5dLの水が入るよ。



1 ①～④の入れものには、何 ^{なん}dLの水が入りますか。^{1もん20てん}(80)

① (2dL) たんいを
わすれずに、
書こう！

② (5dL)

③ (10dL)

④ (14dL)

2 アとイの水とうに入る水のかさは、どちらが何 ^{おお}dL多いですか。^{20てん}



こたえ



ア が **2dL** 多い。

水のかさ (2)

水のかさの単位 対象：2年生 ねらい：「リットル(L)」の単位を覚え、水のかさを表せるようになる。

てん

このバケツに入る水のかさは？

学習プリント無料ダウンロード

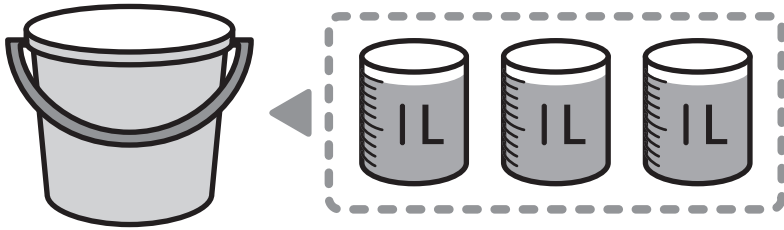
ちびむすドリル

© ちびむすドリル



● なぞりましょう。

3 L
リットル



リットルも、水のかさのたんいで、
Lと書くよ。1Lは10dLだよ！


$$1L = 10dL$$

このバケツには 1Lの3つ分の
3Lの水が入るよ。

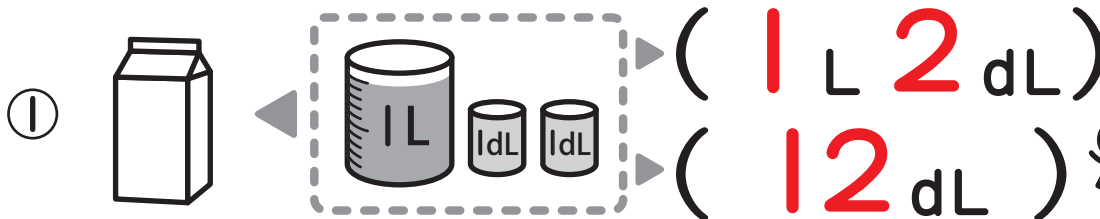
①と②の入れものには、何Lの水が入りますか。1もん20てん (40)



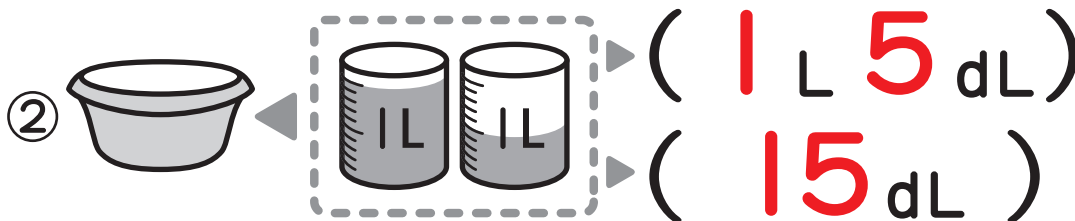
たんいは
Lだよ！
リットル




①～③の入れものに入る水のかさを書きましょう。1もん20てん (60)



たんいをよく見て、
上と下、2つの
こたえを書こう！



1めもりは、
1dLだから…




水のかさ (3)

水のかさの単位 対象：2年生 ねらい：「ミリリットル(mL)」の単位を覚え、水のかさを表せるようになる。

てん

このスプーンに入る水のかさは？



dLよりすく少ない水のかさをあらわすには、mLをつかうよ！
ミリリットル

ミリリットルも、水のかさのたんに、mLと書くよ。1000mLは1Lだよ！

$$1L = 1000mL$$

● なぞりましょう。





①～④の()にあてはまる、たんにを書きましょう。1もん20てん

①  スプーンに入った水 ▶ 10 (mL)

②  かんジュース ▶ 250 (mL)

③  かみ紙パックのぎゅうにゅう ▶ 1 (L)
▶ 1000 (mL)

④  水とうに入いった水 ▶ 300 (mL)
▶ 3 (dL)

⑤  コップに入いった水 ▶ 200 (mL)
▶ 2 (dL)

mL
ミリリットル
dL
デシリットル
L
リットル

どのたんにがちょうどいいかな？



水のかさ (4)

水のかさの単位 対象：2年生 ねらい：かさの計算が出来るようになる。

てん

1 バケツに5L3dL, せんめんきに2Lの水がはいります。

①と②の□にあてはまる^{かず}数を^か書きましょう。1もん25てん (50)



① バケツとせんめんきの水をあわせると、どれだけになりますか。

$$\boxed{5} \text{ L } \boxed{3} \text{ dL} + \boxed{2} \text{ L} = \boxed{7} \text{ L } \boxed{3} \text{ dL}$$

② バケツにはせんめんきより^{おお}どれだけ多く水が入りますか。

$$\boxed{5} \text{ L } \boxed{3} \text{ dL} - \boxed{2} \text{ L} = \boxed{3} \text{ L } \boxed{3} \text{ dL}$$

おな
同じたんい
どうして
けいさん
計算しよう!



2 計算をしましょう。1もん10てん (50)

① $7\text{L} + 3\text{L} = 10\text{L}$

② $1\text{L}3\text{dL} + 5\text{dL} = 1\text{L}8\text{dL}$

③ $2\text{L}6\text{dL} + 4\text{L} = 6\text{L}6\text{dL}$

④ $3\text{L}7\text{dL} - 2\text{L} = 1\text{L}7\text{dL}$

⑤ $5\text{L}9\text{dL} - 6\text{dL} = 5\text{L}3\text{dL}$

たんい
きをつけて!



やってみよう!

ア~エの水のかさを多いじゅんに書こう!

ア

イ

ウ

エ

こたえ

ア エ イ ウ

10 L

500 mL

3 dL

8 dL

