

水のかさ (1)

水のかさの単位 対象：2年生 ねらい：「デシリットル(dL)」の単位を覚え、水のかさを表せるようになる。

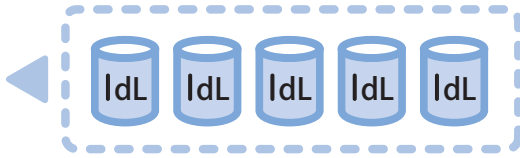
てん

この水とうに入る水のかさは？

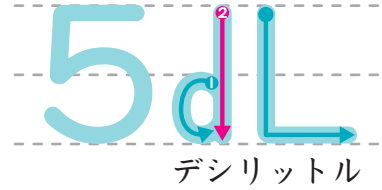
学習プリント無料ダウンロード

ちびむすドリル

© ちびむすドリル



● なぞりましょう。




デシリットルは、
水のかさの **たんい**で、
dLと書くよ！

この水とうには **1dL** の **5つぶん**の **5dL** の水が入るよ。



1 ①～④の入れものには、何 **dL** の水が入りますか。 **1もん20てん (80)**

①

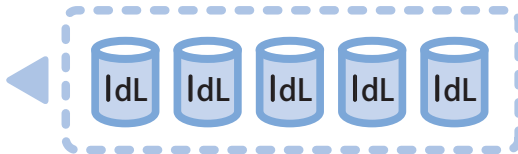


(dL)



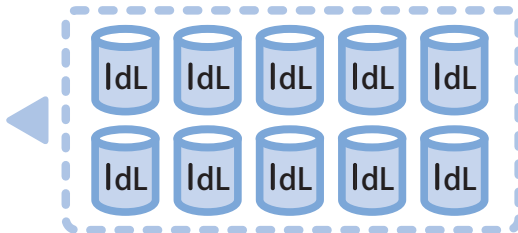

たんいを
わすれずに、
書こう！

②




()

③



()

④



()

2 ②と④の水とうに入る水のかさは、どちらが何 **dL** 多いですか。 **おお 20てん**

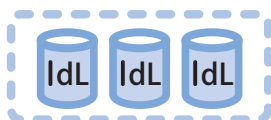
ア



イ



こたえ



が 多い。

水のかさ (2)

水のかさの単位 対象：2年生 ねらい：「リットル(L)」の単位を覚え、水のかさを表せるようになる。

てん

このバケツに入る水のかさは？

学習プリント無料ダウンロード

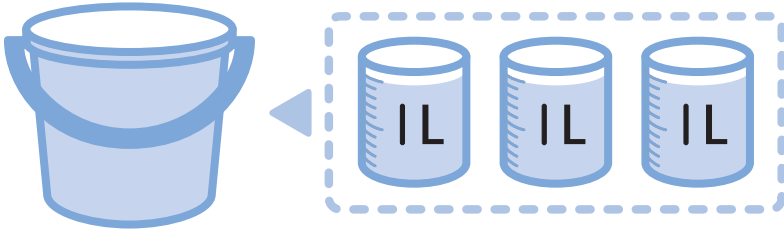
ちびむすドリル

© ちびむすドリル



● なぞりましょう。

3L
リットル



リットルも、水のかさのたんいで、Lと書くよ。1Lは10dLだよ！


$$1L = 10dL$$

このバケツには1Lの3つ分の3Lの水が入るよ。

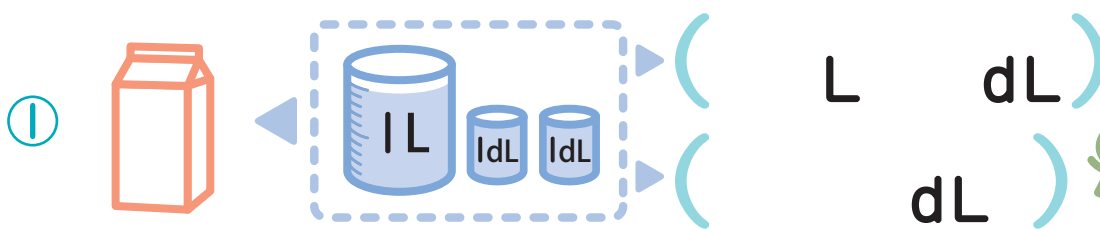
①と②の入れものには、何Lの水が入りますか。1もん20てん (40)



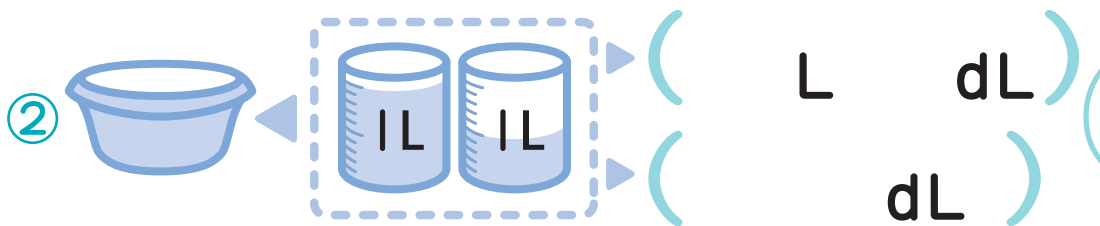
たんいは Lだよ！
リットル



①～③の入れものに入る水のかさを書きましょう。1もん20てん (60)



たんいをよく見て、上と下、2つのこたえを書こう！



1めもりは、1dLだから…

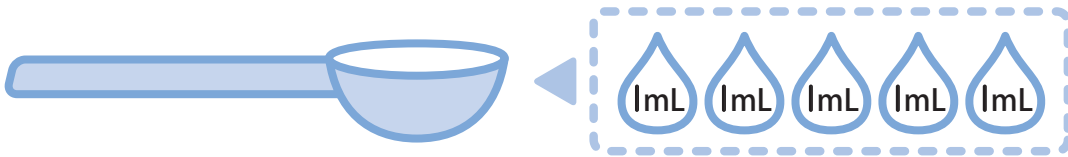


水のかさ (3)

水のかさの単位 対象：2年生 ねらい：「ミリリットル(mL)」の単位を覚え、水のかさを表せるようになる。

てん

このスプーンに入る水のかさは？



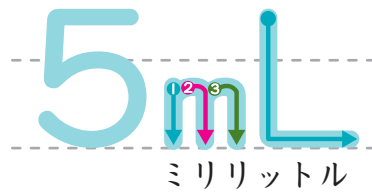
dLよりすく少ない水のかさをあらわすには、**mL**をつかうよ！
ミリリットル



ミリリットルも、水のかさのたんいで、mLと書くよ。1000mLは1Lだよ！

$$1L = 1000mL$$

● なぞりましょう。





①～④の()にあてはまる、たんいを書きましょう。1もん20てん

①  スプーンに入った水 ▶ 10 ()

②  かんジュース ▶ 250 ()

③  かみ紙パックのぎゅうにゅう ▶ 1 ()
▶ 1000 ()

④  水とうに入った水 ▶ 300 ()
▶ 3 ()

⑤  コップに入った水 ▶ 200 ()
▶ 2 ()

mL
ミリリットル
dL
デシリットル
L
リットル



どのたんいがちょうどいいかな？



水のかさ (4)

水のかさの単位 対象：2年生 ねらい：かさの計算が出来るようになる。

てん

1 バケツに5L3dL, せんめんきに2Lの水がはいります。

①と②の□にあてはまる^{かず}数を^か書きましょう。1もん25てん(50)

① バケツとせんめんきの水をあわせると、どれだけになりますか。

$$\square \text{ L } \square \text{ dL } + \square \text{ L } = \square \text{ L } \square \text{ dL}$$

② バケツにはせんめんきより^{おお}どれだけ多く水が入りますか。

$$\square \text{ L } \square \text{ dL } - \square \text{ L } = \square \text{ L } \square \text{ dL}$$

おな
同じたんい
どうして
けいさん
計算しよう!



2 計算をしましょう。1もん10てん(50)

① $7\text{L} + 3\text{L}$

② $1\text{L}3\text{dL} + 5\text{dL}$

③ $2\text{L}6\text{dL} + 4\text{L}$

④ $3\text{L}7\text{dL} - 2\text{L}$

⑤ $5\text{L}9\text{dL} - 6\text{dL}$

たんい
きをつけて!



やってみよう!

ア～エの水のかさを多いじゅんに書こう!

ア

イ

ウ

エ

こたえ

10L

500mL

3dL

8dL



