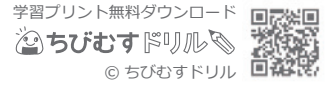


# 長さ(1)

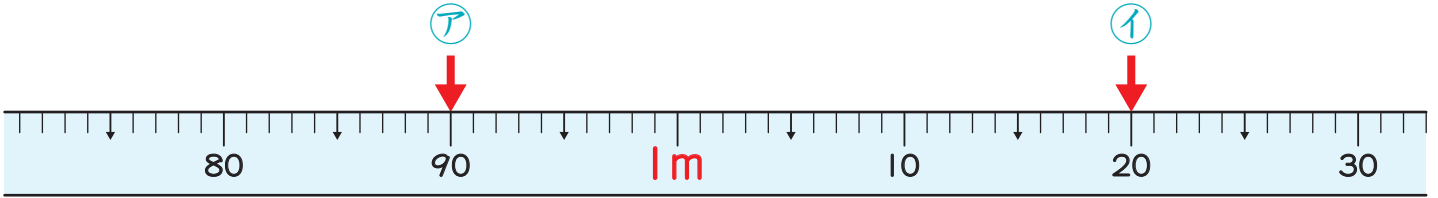
前

長さの単位 対象：3年生 ねらい：「キロメートル(km)」の単位を覚え、距離と道のりを理解する。

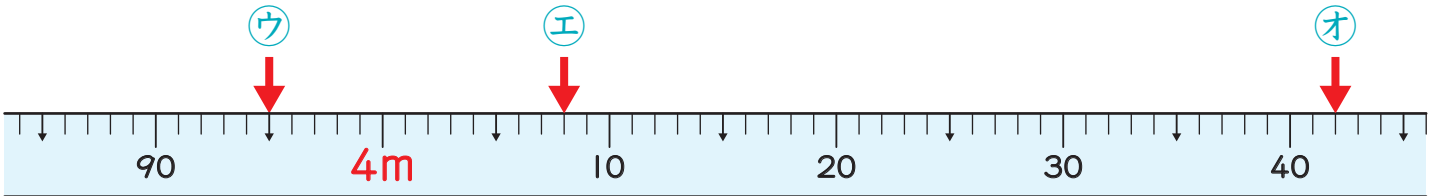
点



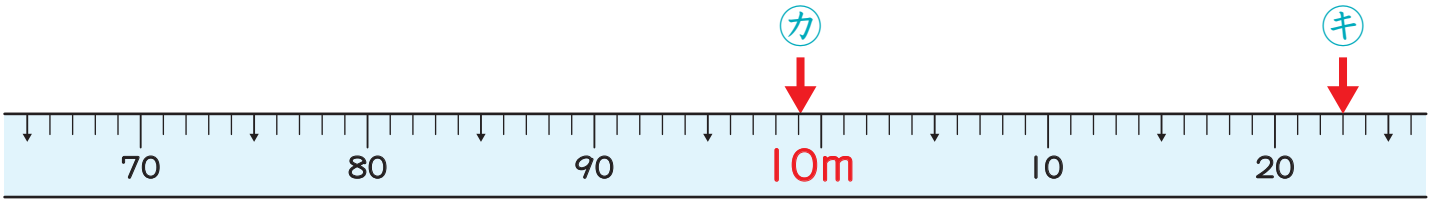
1 下のまきじゃくで、ア～キのめもりが表している長さを書きましょう。 1つ10点(70)



ア ( )      イ ( )



ウ ( )      エ ( )      オ ( )



カ ( )      キ ( )

2 ①～③の□にあてはまる数を書きましょう。 1問10点(30)

①  $2000\text{ m} = \square\text{ km}$

キロメートル  
 $1000\text{ m} = 1\text{ km}$  だよ。



②  $5300\text{ m} = \square\text{ km } \square\text{ m}$

③  $4\text{ km}50\text{ m} = \square\text{ m}$