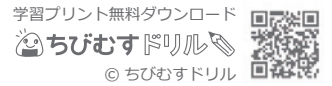


長さ(2)

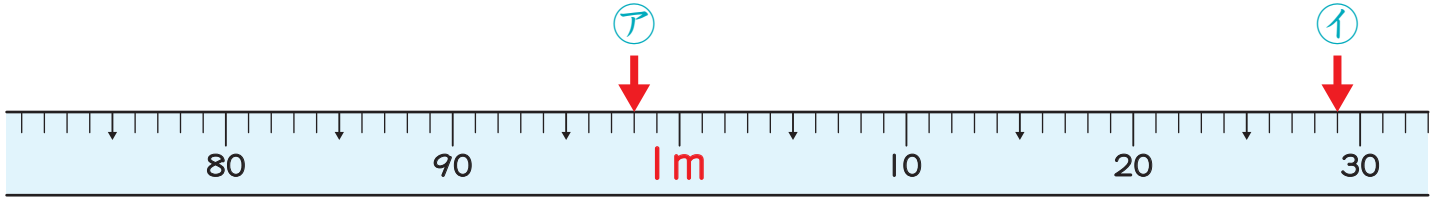
前

長さの単位 対象：3年生 ねらい：「キロメートル(km)」の単位を覚え、距離と道のりを理解する。

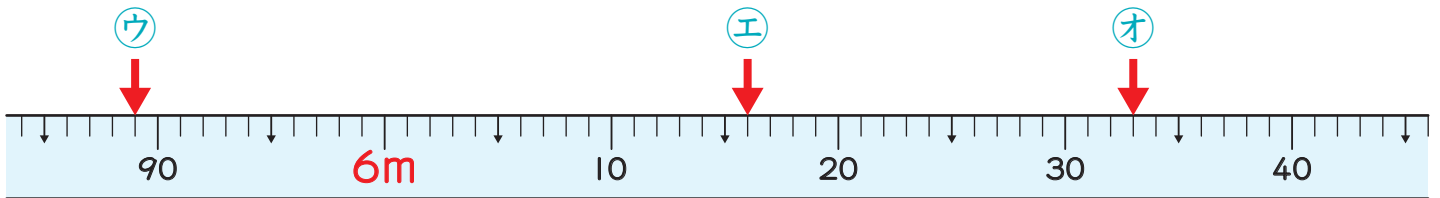
点



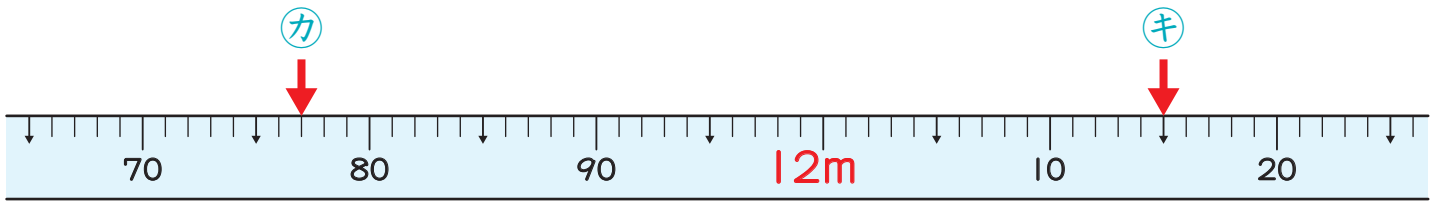
1 下のまきじゃくで、ア～キのめもりが表している長さを書きましょう。 1つ10点(70)



ア () イ ()



ウ () エ () オ ()



カ () キ ()

2 ①～③の□にあてはまる数を書きましょう。1問10点(30)

① $1 \text{ km} = \square \text{ m}$

② $8006 \text{ m} = \square \text{ km } \square \text{ m}$

③ $2 \text{ km} 380 \text{ m} = \square \text{ m}$