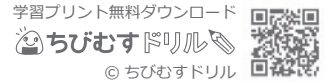


# 長さ(1)

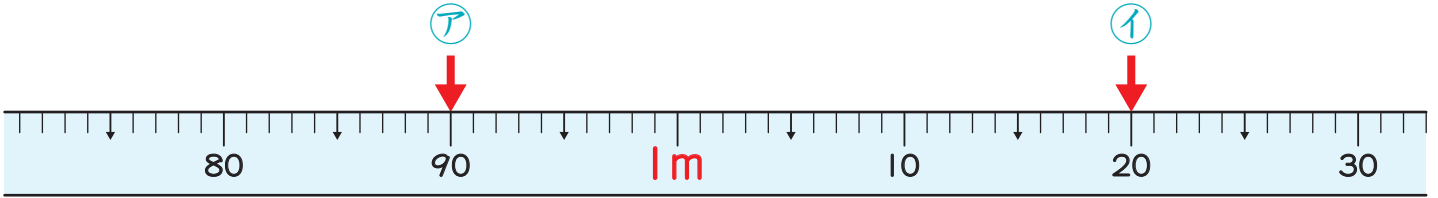
前

長さの単位 対象：3年生 ねらい：「キロメートル(km)」の単位を覚え、距離と道のりを理解する。

点

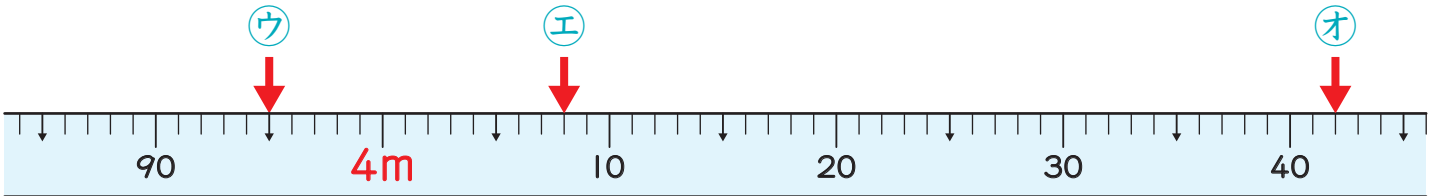


1 下のまきじゃくで、ア～キのめもりが表している長さを書きましょう。 1つ10点(70)



ア ( 90 cm )

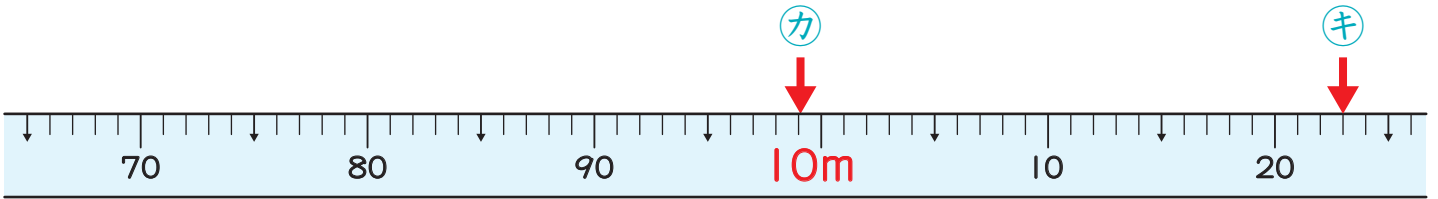
イ ( 1 m 20 cm )



ウ ( 3 m 95 cm )

エ ( 4 m 8 cm )

オ ( 4 m 42 cm )



カ ( 9 m 99 cm )

キ ( 10 m 23 cm )

2 ①～③の□にあてはまる数を書きましょう。 1問10点(30)

① 2000 m =  km

キロメートル  
1000m = 1 km だよ。



② 5300 m =  km  m

③ 4km50m =  m