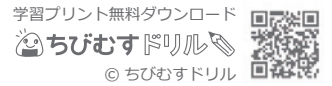


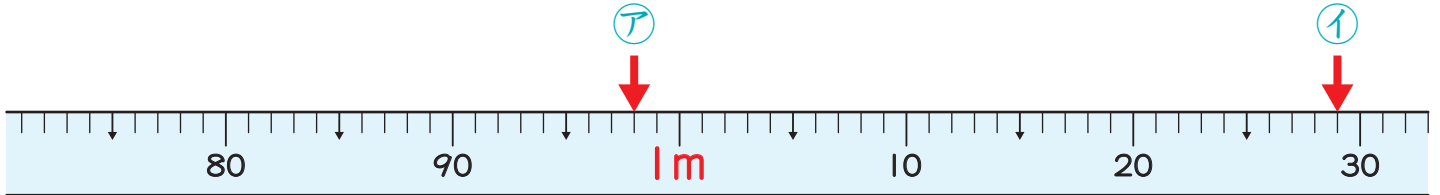
長さ(2)

長さの単位 対象：3年生 ねらい：「キロメートル(km)」の単位を覚え、距離と道のりを理解する。

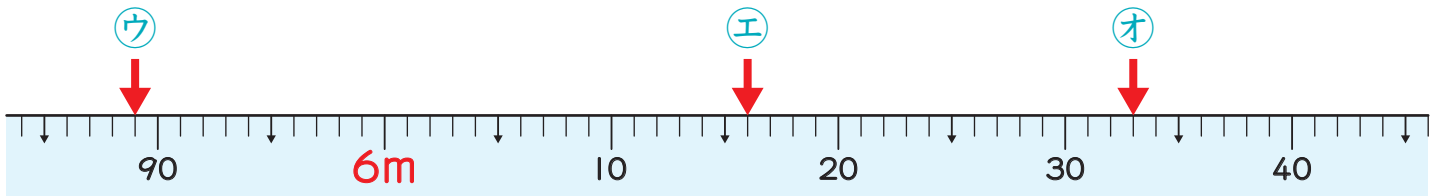
点



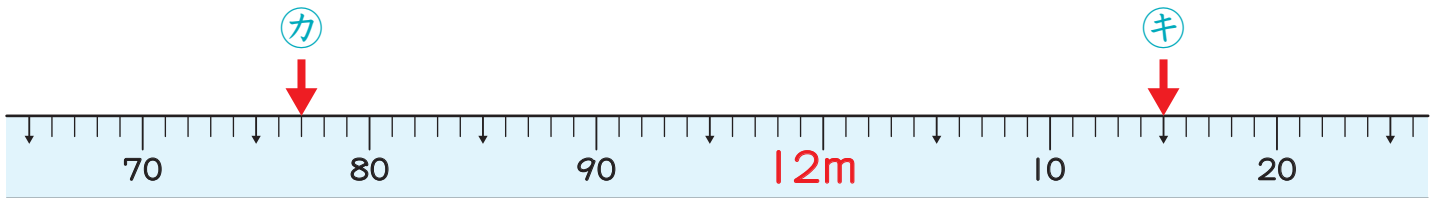
1 下のまきじゃくで、ア～キのめもりが表している長さを書きましょう。 1つ10点(70)



ア (98 cm) イ (1 m 29 cm)



ウ (5 m 89 cm) エ (6 m 16 cm) オ (6 m 33 cm)



カ (11 m 77 cm) キ (12 m 15 cm)

2 ①～③の□にあてはまる数を書きましょう。1問10点(30)

① $1 \text{ km} = \boxed{1000} \text{ m}$

② $8006 \text{ m} = \boxed{8} \text{ km } \boxed{6} \text{ m}$

③ $2 \text{ km} 380 \text{ m} = \boxed{2380} \text{ m}$