

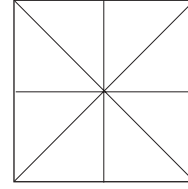
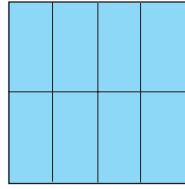
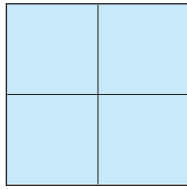
# 三角形と四角形のもようづくり

1/2まい

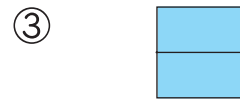
点

1 いろがみを 下のよう に きりました。

50点(1つ10)



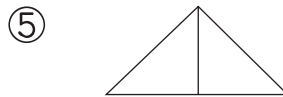
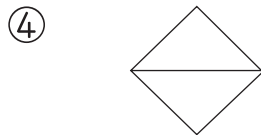
きった いろがみを 2つならべて できた <sup>かたち</sup>形を こたえま  
しょう。



( )

( )

( )

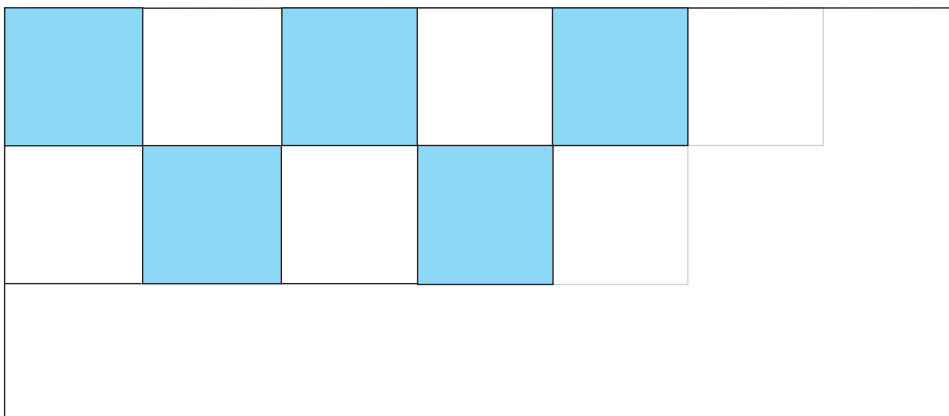



( )

( )

2 右のような <sup>せいほうけい</sup>正方形の いろがみを  
ならべて、もようを つくります。もようの  
つづきを かきましょう。

10点



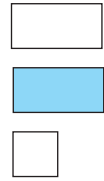
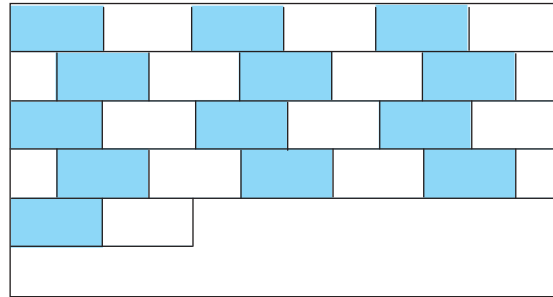
つぎ 次のプリントにつづく →



# 三角形と四角形のもようづくり

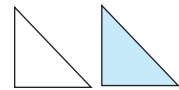
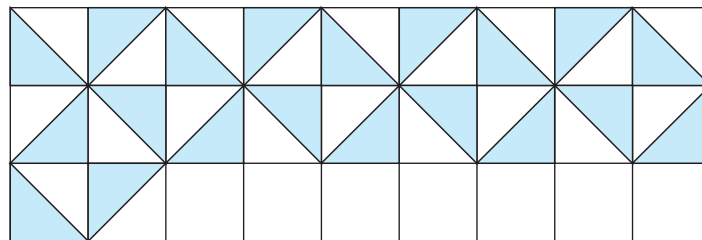
- 3** 右のような ちようほうけい 長方形と せいほうけい 正方形の いろがみを  
ならべて もようを つくります。もようの つづきを  
かきましょう。

10点



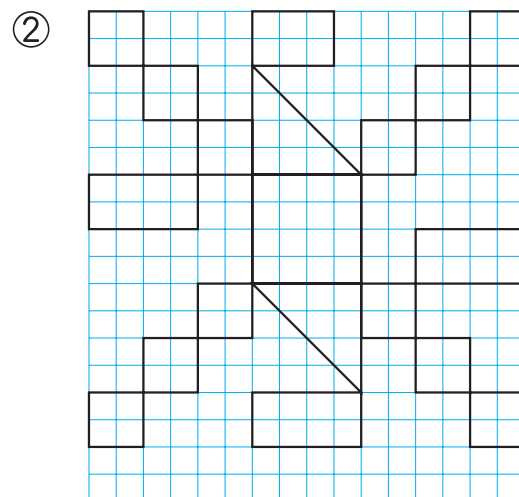
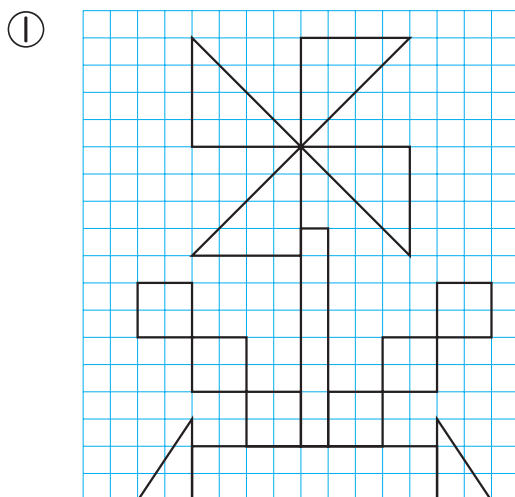
- 4** 右のような ちようかくさんかくけい 直角三角形の いろがみを ならべて  
もようを つくります。もようの つづきを  
かきましょう。

10点



- 5** 長方形に 赤, 正方形に 青, 直角三角形に きいろを ぬりま  
しょう。

20点(1つ10)



同じ 三角形や 四角形を つかうと すきまなく しきつめる ことが できるよ。

