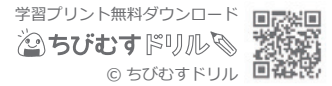


整理して表そう(5)

ぼうグラフと表 対象：3年生 ねらい：いくつかの表や棒グラフを一つにまとめられるようになる。

点



1 3年生が好きなスポーツを組ごとに調べました。

1組の好きなスポーツのしゅるいと人数

しゅるい	人数(人)
野球 <small>やきゅう</small>	4
サッカー	8
水泳 <small>すいえい</small>	5
その他 <small>た</small>	7
合計	24

2組の好きなスポーツのしゅるいと人数

しゅるい	人数(人)
野球	7
サッカー	4
水泳	4
その他	10
合計	25

3組の好きなスポーツのしゅるいと人数

しゅるい	人数(人)
野球	6
サッカー	9
水泳	7
その他	2
合計	24

① 3年生全体の様子ひょうがわかるように、上の3つの表を右の表にまとめましょう。

各3点(45)

② 3年の中で、一番人気のあるスポーツはなんですか。5点

答え

3年生の好きなスポーツのしゅるいと人数(人)

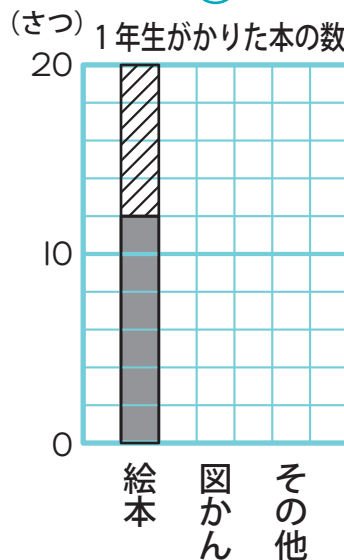
しゅるい \ 組	1組	2組	3組	合計
野球	4			
サッカー	8			
水泳	5			
その他	7			
合計	24			

2 下の表は、1年生が先週図書室でかりた本のしゅるいを調べてまとめたものです。

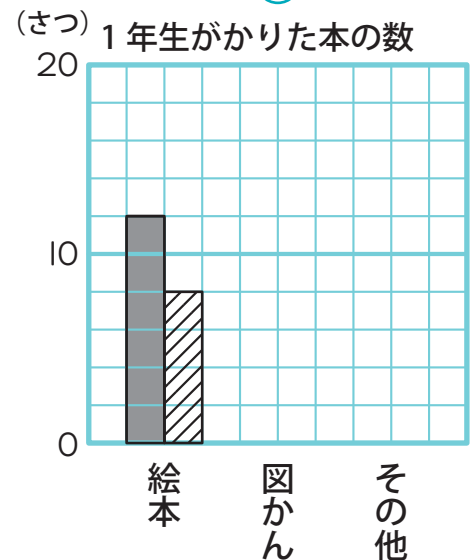
1年生がかりた本の数(さつ)

しゅるい \ 組	1組	2組	合計
絵本	12	8	20
図かん	7	9	16
その他	6	4	10
合計	25	21	46

あ



い



① 表をもとに、あいのグラフをかんせいさせましょう。

各20点(40)

② 図かんを多くかりたのは何組ですか。

10点

答え

■ 1組 ▨ 2組