


整理して表そう(1)






ぼうグラフと表 対象：3年生 ねらい：表に整理できるようになる。

点

- 1 いろいろな形のシールが20まいあります。形のしゅるいと、まい数を調べましょう。1問20点



シールのまい数

	星	正
	四角	正
	三角	一
	ハート	下
	丸	正下

ヒント

1…一
2…下
3…下
4…正
5…正
6…正一
7…正下
と書きます。

シールのまい数

形	まい数(まい)
丸	7
星	5
四角	4
その他	4
合計	20

① 左上の表に「正」の字を使って、それぞれのまい数を整理しましょう。

② ①で調べたシールのまい数を右上の表に数字で書きなおしましょう。

③ いちばん多いのは、何の形のシールですか。 答え 丸

④ いちばん少ないのは、何の形のシールですか。 答え 三角

⑤ 右上の表の「その他」には、何の形のシールが入りますか。2つ答えましょう。

答え ハート, 三角

