

整理して表そう(2)

ぼうグラフと表 対象：3年生 ねらい：棒グラフが読めるようになる。

点

1 右のぼうグラフは、先週の月曜日から金曜日までに、図書室でかし出した本の数を表しています。各10点

① グラフの1目もりは、何さつを表していますか。

答え 1 さつ

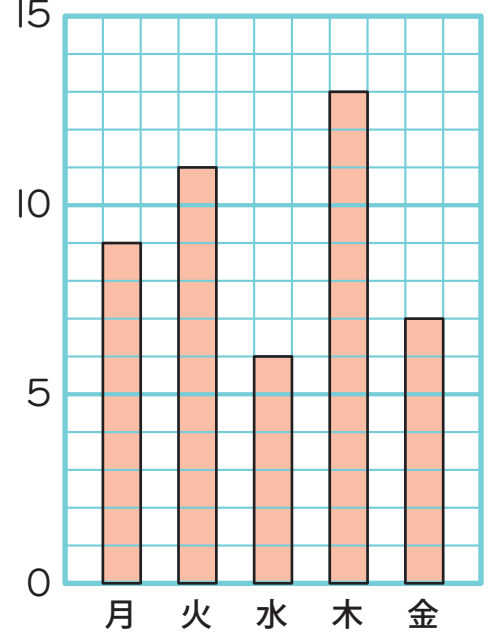
② 火曜日に、かし出した本は何さつですか。

答え 11 さつ

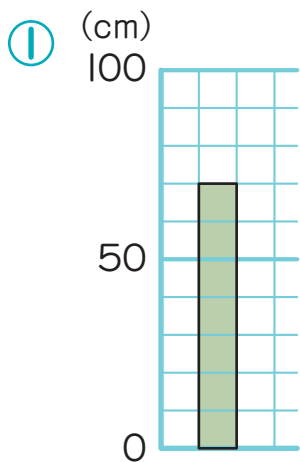
③ かし出した本が一番多いのは、何曜日ですか。またその日にかし出した本は何さつですか。

曜日 木曜日 本の数 13 さつ

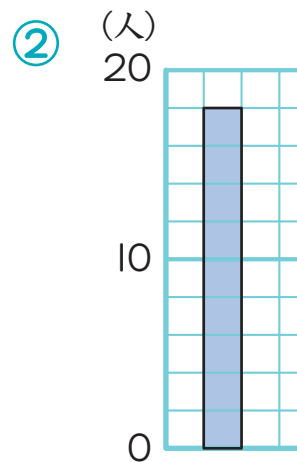
(さつ) かし出した本の数



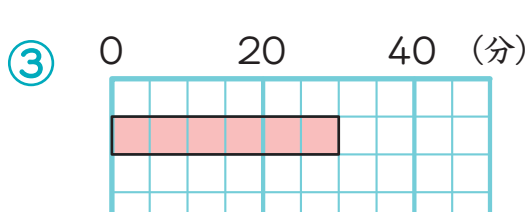
2 下のぼうグラフで、1目もりが表している大きさと、ぼうが表している大きさを答えましょう。各10点



1目もりの大きさ
(10 cm)
ぼうの大きさ
(70 cm)



1目もりの大きさ
(2 人)
ぼうの大きさ
(18 人)



1目もりの大きさ
(5 分)
ぼうの大きさ
(30 分)

