


整理して表そう(1)






ぼうグラフと表 対象：3年生 ねらい：表に整理できるようになる。

点

- 1 いろいろな形のシールが20まいあります。形のしゅるいと、まい数を調べましょう。1問20点



シールのまい数

	星	正
	四角	正
	三角	一
	ハート	下
	丸	正下

ヒント

1…一
2…T
3…下
4…正
5…正
6…正一
7…正下
と書きます。

シールのまい数

形	まい数(まい)
丸	7
星	5
四角	4
その他	4
合計	20

① 左上の表に「正」の字を使って、それぞれのまい数を整理しましょう。

② ①で調べたシールのまい数を右上の表に数字で書きなおしましょう。

③ いちばん多いのは、何の形のシールですか。 答え 丸

④ いちばん少ないのは、何の形のシールですか。 答え 三角

⑤ 右上の表の「その他」には、何の形のシールが入りますか。2つ答えましょう。

答え ハート, 三角



整理して表そう(2)

ぼうグラフと表 対象：3年生 ねらい：棒グラフが読めるようになる。

点

1 右のぼうグラフは、先週の月曜日から金曜日までに、図書室でかし出した本の数を表しています。各10点

① グラフの1目もりは、何さつを表していますか。

答え 1 さつ

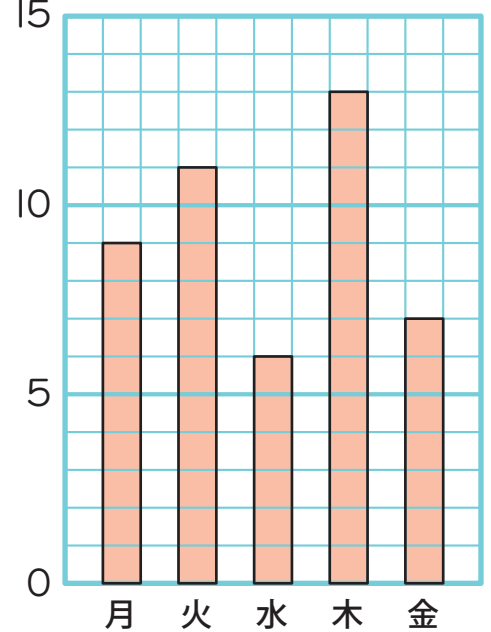
② 火曜日に、かし出した本は何さつですか。

答え 11 さつ

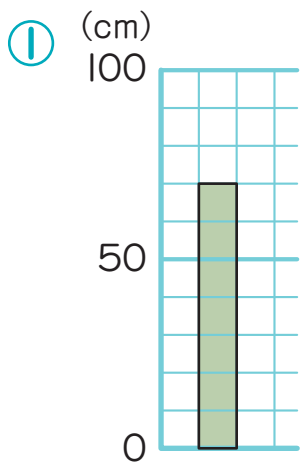
③ かし出した本が一番多いのは、何曜日ですか。またその日にかし出した本は何さつですか。

曜日 木曜日 本の数 13 さつ

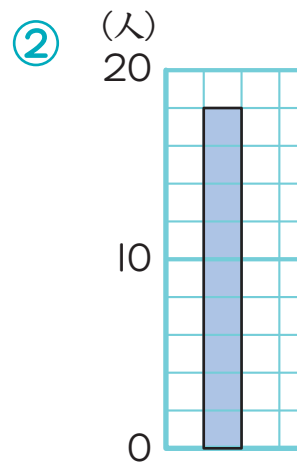
(さつ) かし出した本の数



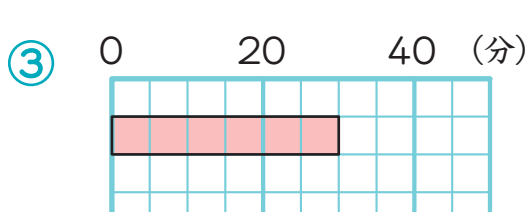
2 下のぼうグラフで、1目もりが表している大きさと、ぼうが表している大きさを答えましょう。各10点



1目もりの大きさ
(10 cm)
ぼうの大きさ
(70 cm)



1目もりの大きさ
(2 人)
ぼうの大きさ
(18 人)



1目もりの大きさ
(5 分)
ぼうの大きさ
(30 分)



整理して表そう(3)

ぼうグラフと表 対象：3年生 ねらい：棒グラフがかけられるようになる。

点

- 1 あやのさんは、クラスの人たちの好きな動物について調べ、下の表にまとめました。この表をぼうグラフに表しましょう。1問20点

好きな動物調べ

しゅるい	ねこ	犬	ハムスター	りす	その他
人数(人)	9	7	4	3	5

① 横のじくにしゅるいをかきましょう。

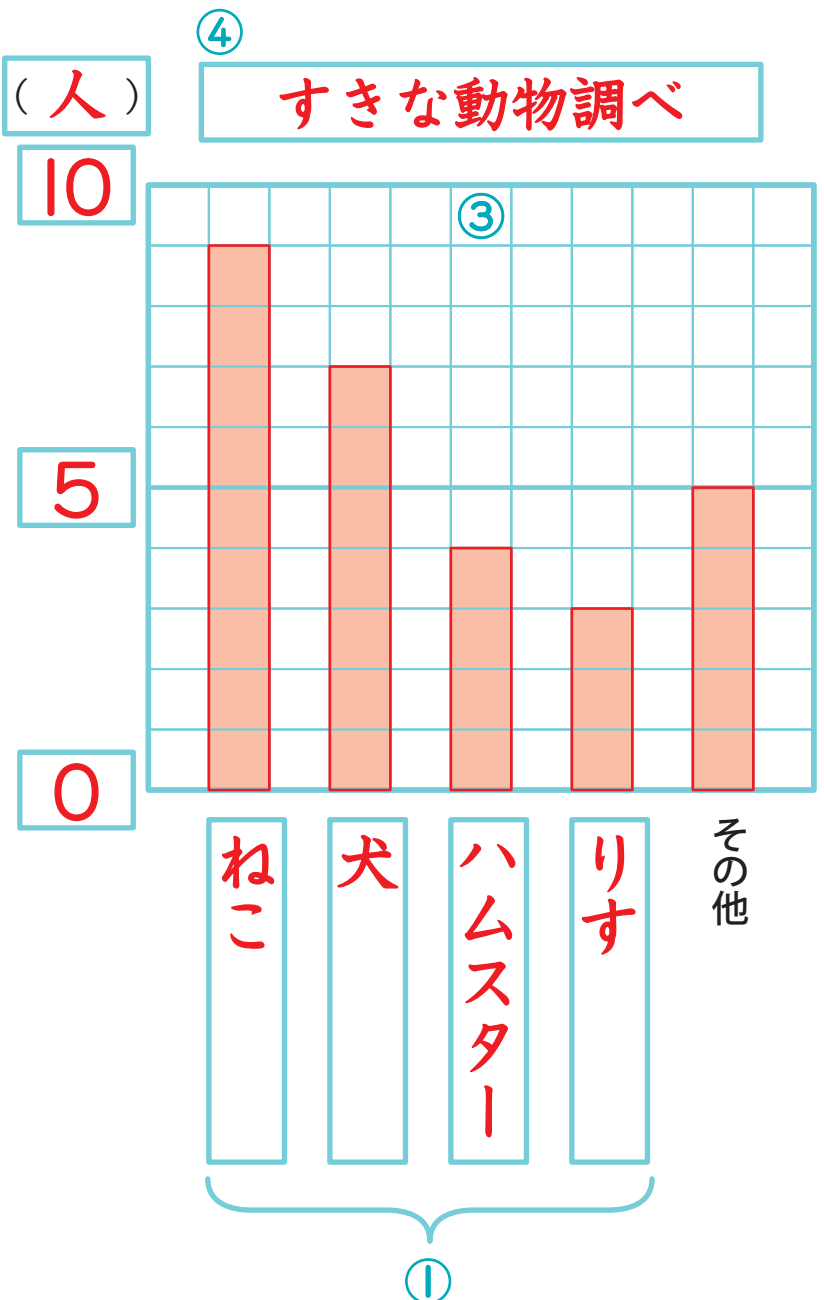
② 目もりの数と単位をかきましょう。

③ 人数を表すぼうをかきましょう。

④ 表題をかきましょう。

⑤ 4番目に人気がある動物は、何ですか。

答え りす



整理して表そう(4)

ぼうグラフと表 対象：3年生 ねらい：表に整理したものを、棒グラフに表せるようになる。

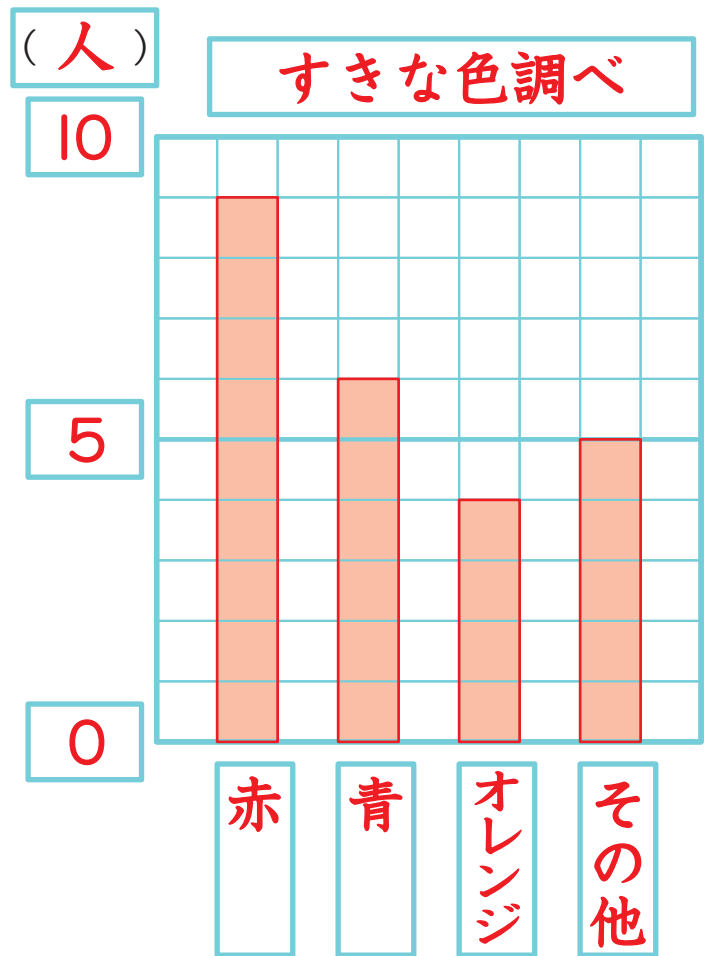
点

1 クラス全員に、一番好きな色を紙に書いてもらいました。 1問30点

赤	黄色	青	オレンジ	ピンク	赤
オレンジ	赤	赤	青	赤	青
赤	オレンジ	青	赤	黄色	オレンジ
黒	青	赤	むらさき	赤	青

好きな色調べ

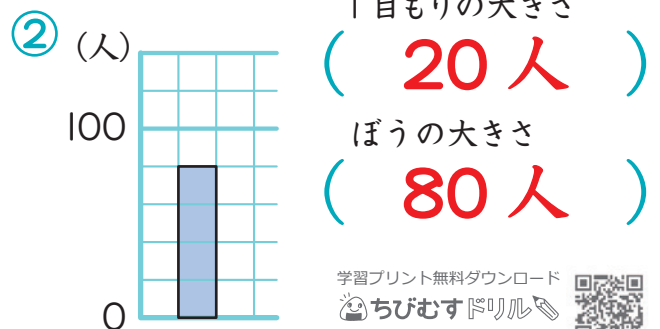
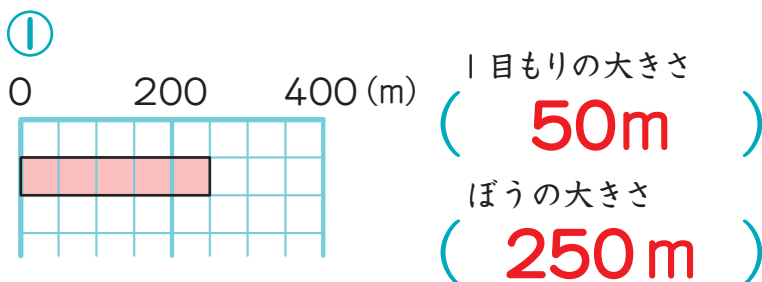
色	人数(人)
赤	9
青	6
オレンジ	4
その他	5
合計	24



① けっかを上の表に整理して、書きましょう。

② 右の方眼を使って、①の表をぼうグラフに表しましょう。

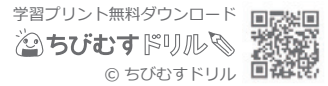
2 下のぼうグラフで、1目もりが表している大きさと、ぼうが表している大きさを答えましょう。 各10点



整理して表そう(5)

ぼうグラフと表 対象：3年生 ねらい：いくつかの表や棒グラフを一つにまとめられるようになる。

点



1 3年生が好きなスポーツを組ごとに調べました。

1組の好きなスポーツのしゅるいと人数

しゅるい	人数(人)
野球 <small>やきゅう</small>	4
サッカー	8
水泳 <small>すいえい</small>	5
その他 <small>た</small>	7
合計	24

2組の好きなスポーツのしゅるいと人数

しゅるい	人数(人)
野球	7
サッカー	4
水泳	4
その他	10
合計	25

3組の好きなスポーツのしゅるいと人数

しゅるい	人数(人)
野球	6
サッカー	9
水泳	7
その他	2
合計	24

① 3年生全体の様子ひょうがわかるように、上の3つの表を右の表にまとめましょう。

各3点(45)

② 3年の中で、一番人気のあるスポーツはなんですか。5点

答え **サッカー**

3年生の好きなスポーツのしゅるいと人数(人)

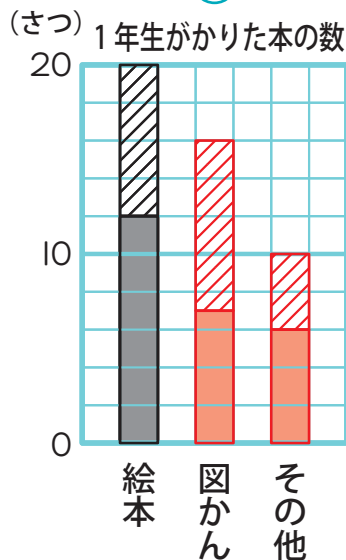
しゅるい \ 組	1組	2組	3組	合計
野球	4	7	6	17
サッカー	8	4	9	21
水泳	5	4	7	16
その他	7	10	2	19
合計	24	25	24	73

2 下の表は、1年生が先週図書室でかりた本のしゅるいを調べてまとめたものです。

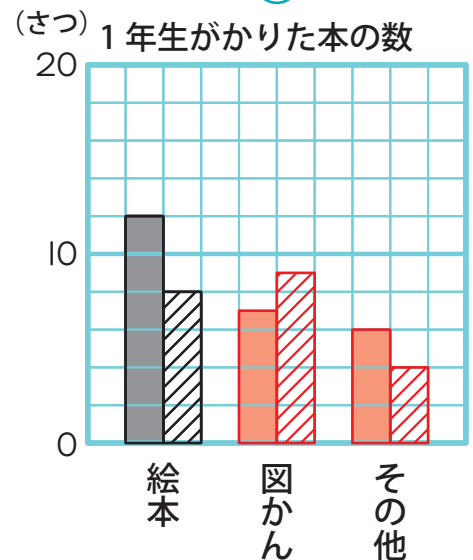
1年生がかりた本の数(さつ)

しゅるい \ 組	1組	2組	合計
絵本	12	8	20
図かん	7	9	16
その他	6	4	10
合計	25	21	46

あ



い



① 表をもとに、あ、いのグラフをかんせいさせましょう。

各20点(40)

② 図かんを多くかりたのは何組ですか。

10点

答え **2組**

■ 1組 ▨ 2組