

小数のたし算・ひき算

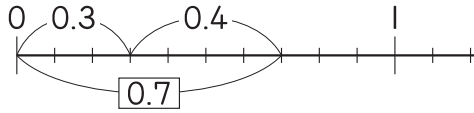
1/2まい

点

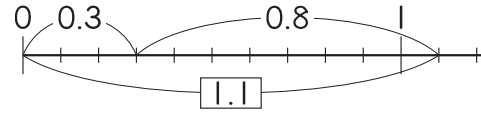
1 次の計算をしましょう。

48点(1つ2)

① $0.3 + 0.4$



② $0.3 + 0.8$



③ $0.2 + 0.6$

④ $0.9 + 0.4$

⑤ $0.8 + 0.1$

⑥ $0.3 + 0.4$

⑦ $0.7 + 0.5$

⑧ $0.6 + 3.2$

⑨ $0.6 + 1.2$

⑩ $0.7 + 0.2$

⑪ $1 + 2.5$

⑫ $0.4 + 1.7$

⑬ $0.9 + 0.1$

⑭ $0.5 + 0.9$

⑮ $0.2 + 2.6$

⑯ $0.4 + 0.4$

⑰ $1 + 0.8$

⑱ $0.2 + 3.4$

⑲ $0.5 + 0.4$

⑳ $0.5 + 0.3$

㉑ $0.7 + 4.5$

㉒ $0.6 + 3.8$

㉓ $0.8 + 0.8$

㉔ $0.4 + 1.6$

つぎ
次のプリントにつづく →

学習プリント無料ダウンロード

ちびむすドリル

© ちびむすドリル

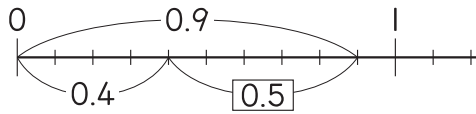


小数のたし算・ひき算

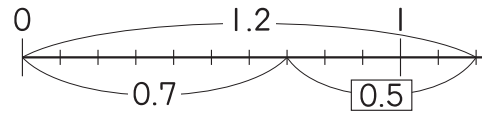
2 次の計算をしましょう。

52点(1つ2)

① $0.9 - 0.4$



② $1.2 - 0.7$



③ $0.7 - 0.3$

④ $2.4 - 0.2$

⑤ $1 - 0.3$

⑥ $3.7 - 1.8$

⑦ $2.4 - 0.3$

⑧ $4.4 - 3.5$

⑨ $0.6 - 0.3$

⑩ $8.3 - 6.1$

⑪ $1.4 - 0.6$

⑫ $2.3 - 0.8$

⑬ $9.4 - 5.3$

⑭ $1 - 0.7$

⑮ $2.8 - 1.6$

⑯ $1.6 - 0.9$

⑰ $0.7 - 0.6$

⑱ $4 - 2.3$

⑲ $2 - 0.8$

⑳ $1.4 - 0.2$

㉑ $4 - 0.3$

㉒ $3.2 - 1.8$

㉓ $2.7 - 1.9$

㉔ $3 - 0.5$

㉕ $0.9 - 0.4$

㉖ $1.8 - 0.9$

1 は1.0だよ。
0.1が何こになるか考えよう。

