

小数のたし算・ひき算

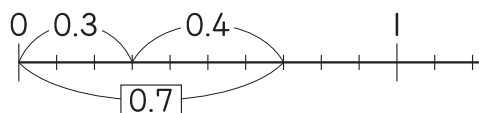
1/2まい

点

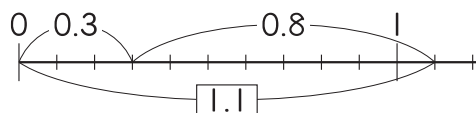
1 次の計算をしましょう。

48点(1つ2)

① $0.3 + 0.4 = 0.7$



② $0.3 + 0.8 = 1.1$



③ $0.2 + 0.6 = 0.8$

④ $0.9 + 0.4 = 1.3$

⑤ $0.8 + 0.1 = 0.9$

⑥ $0.3 + 0.4 = 0.7$

⑦ $0.7 + 0.5 = 1.2$

⑧ $0.6 + 3.2 = 3.8$

⑨ $0.6 + 1.2 = 1.8$

⑩ $0.7 + 0.2 = 0.9$

⑪ $1 + 2.5 = 3.5$

⑫ $0.4 + 1.7 = 2.1$

⑬ $0.9 + 0.1 = 1$

⑭ $0.5 + 0.9 = 1.4$

⑮ $0.2 + 2.6 = 2.8$

⑯ $0.4 + 0.4 = 0.8$

⑰ $1 + 0.8 = 1.8$

⑱ $0.2 + 3.4 = 3.6$

⑲ $0.5 + 0.4 = 0.9$

⑳ $0.5 + 0.3 = 0.8$

㉑ $0.7 + 4.5 = 5.2$

㉒ $0.6 + 3.8 = 4.4$

㉓ $0.8 + 0.8 = 1.6$

㉔ $0.4 + 1.6 = 2$

おうちの方へ 0.1がどこになるか考え
ましょう。

1⑬ 0.1が(9+1)こだから、1

2⑤ 1を1.0と考えて、
0.1が(10-3)こだから、0.7

つぎ
次のプリントにつづく →

学習プリント無料ダウンロード

ちびむすドリル

© ちびむすドリル

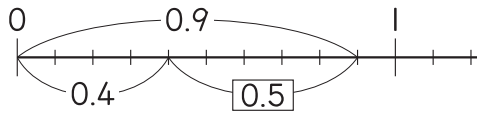


小数のたし算・ひき算

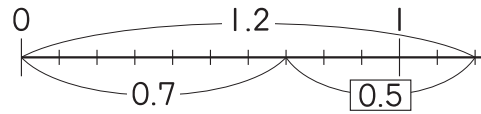
2 次の計算をしましょう。

52点(1つ2)

① $0.9 - 0.4 = 0.5$



② $1.2 - 0.7 = 0.5$



③ $0.7 - 0.3 = 0.4$

④ $2.4 - 0.2 = 2.2$

⑤ $1 - 0.3 = 0.7$

⑥ $3.7 - 1.8 = 1.9$

⑦ $2.4 - 0.3 = 2.1$

⑧ $4.4 - 3.5 = 0.9$

⑨ $0.6 - 0.3 = 0.3$

⑩ $8.3 - 6.1 = 2.2$

⑪ $1.4 - 0.6 = 0.8$

⑫ $2.3 - 0.8 = 1.5$

⑬ $9.4 - 5.3 = 4.1$

⑭ $1 - 0.7 = 0.3$

⑮ $2.8 - 1.6 = 1.2$

⑯ $1.6 - 0.9 = 0.7$

⑰ $0.7 - 0.6 = 0.1$

⑱ $4 - 2.3 = 1.7$

⑲ $2 - 0.8 = 1.2$

⑳ $1.4 - 0.2 = 1.2$

㉑ $4 - 0.3 = 3.7$

㉒ $3.2 - 1.8 = 1.4$

㉓ $2.7 - 1.9 = 0.8$

㉔ $3 - 0.5 = 2.5$

㉕ $0.9 - 0.4 = 0.5$

㉖ $1.8 - 0.9 = 0.9$

1 は1.0だよ。
0.1が何こになるか考えよう。

