


地図記号クイズ












【植生】

中級編

答え

下の地図の①～⑪に当てはまる地図記号を、次の中から選んで書きましょう。



- ① 
 広葉樹林
- ② 
 茶畑
- ③ 
 田
- ④ 
 ハイマツ地
- ⑤ 
 針葉樹林
- ⑥ 
 笹地
- ⑦ 
 荒地
- ⑧ 
 はたけ畑
- ⑨ 
 かじゆえん果樹園
- ⑩ 
 たけほやし竹林
- ⑪ 
 ヤシ科樹林

