










地図記号クイズ とくてい ちく 【特定地区】

中級編

答え

下の地図の①～⑧に当てはまる地図記号を、次の中から選んで書きましょう。



- ① 
 ふんかこう ふんきこう
 噴火口・噴気口
- ② 
 おんせん
 温泉
- ③ 
 とうわん
 港湾
- ④ 
 ぼち
 墓地
- ⑤ 
 しるあと
 城跡
- ⑥ 
 しせき めいしょう てんねんきねんぶつ
 史跡・名勝・天然記念物
- ⑦ 
 ざいこうち
 採鉱地
- ⑧ 
 きよこう
 漁港

