

2


計算の くふう

まずは、どうがをみよう！



□ 月 □ 日

1 あかりさんは、店で 38円の えんぴつと 45円の けしごむを 買いました。そのあと べつの 店で 12円の 画用紙を 買いました。 ぜんぶで 何円 かったですでしょう。



□ に あてはまる 数を 書きましょう。

しき $\square + \square + \square = ?$

計算の しかた 1

はじめに 買った 分を 先に 計算する。

① $38 + 45 = \square$

② $83 + 12 = \square$

答え \square 円

計算の しかた 2

えんぴつと 画用紙の 分を 先に 計算する。

① $38 + 12 = \square$

② $50 + 45 = \square$

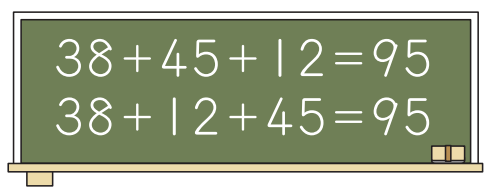
答え \square 円

ポイント

たし算では、たす じゅんじょを かえて 計算しても 答えは 同じに なります。

たす じゅんじょを かえた ほうが かんたんに 計算できる ことが あります。

一のくらいが 0に なる 計算を 先に した ほうが かんたんだね。



つぎのプリントにつづく →


Z会 × ちびむすドリル

考える楽しさを体験しよう！

1年間の 総復習 でスムーズに 進級を



Z会の本



くわしくは こちら！



はっけん

2 くふうして 計算しましょう。


① $1 + 3 + 5 + 7 + 9$

② $44 + 27 + 3 + 6$

③ $16 + 10 + 27 + 3 + 34$

④ $1 + 2 + 3 + 4 + 5 + 6 + 7 + 8 + 9 + 10$

3 ちゅう車場に 車が 26台 止まっ ています。
そこに、新しく 17台の 車が 止まりました。
そのあと また 4台の 車が 止まりました。
ちゅう車場には 車が 何台 止まっ ているでしょう。



しきは、お話の じゅんじょに
あわせて 立てましょう。

しき

答え

けいさん
計算する ときは、くふうして
じゅんじょを 入れかえても いいよ。



Z会 × ちびむすドリル

考える楽しさを体験しよう!

1年間の
総復習
でスムーズに
進級を



Z会の本



くわしくは
こちら!

