

4

地図のきまり

とくてん
得点

/100点

- ① ようこさんの家に、しんせきのたかしさんが遊びに来るようになりました。会話文と地図をもとに、あとの問いに答えなさい。(100点)

たかし：もしもし、たかしです。

ようこ：たかしさん、こんにちは。ようこです。

たかし：いま、みなと野球場にいるんだ。これからバスに乗ってようこさんの家に行こうと思うのだけれど、どの方向のバスに乗ったらいいかな。

ようこ：やまだ病院の方向へ向かうバスに乗ると着くはずだよ。

たかし：野球場から（ ）の方に見える病院だね。

社会

- (1) 会話文の中の（ ）にあてはまる方位を八方位で書きなさい。(20点)

()

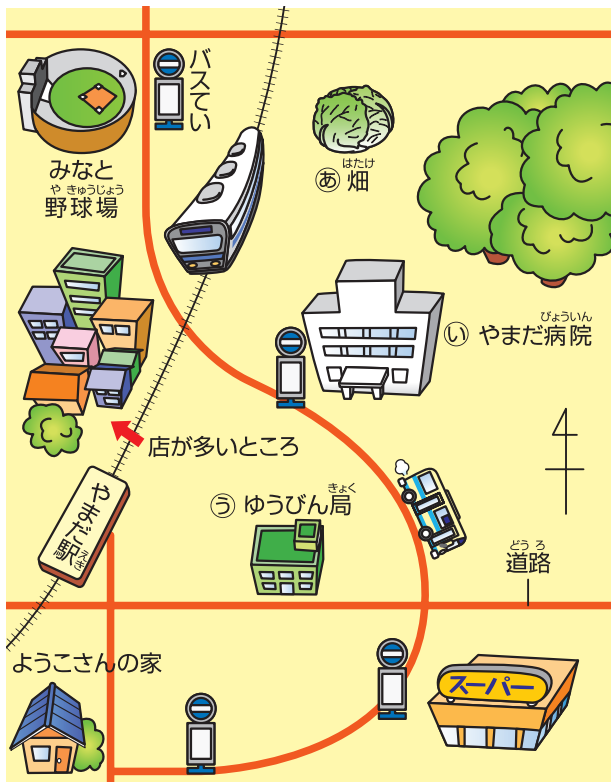
- (2) 地図の中の㊸～㊺のたて物や場所にあてはまる地図記号をそれぞれかきなさい。

(それぞれ10点)

㊸ ()

㊹ ()

㊺ ()



つぎ
次のプリントにつづく →

Z会 × ちびむすドリル

考える楽しさを体験しよう!

1年間の
総復習
でスムーズに
進級を



Z会の本



たかしさんがようこさんの家に着きました。

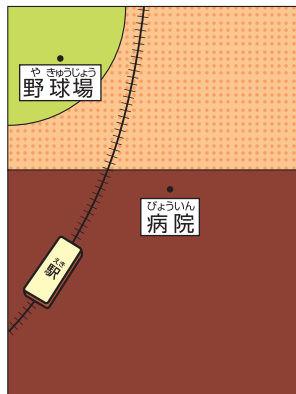
ようこ：たかしさん、いらっしゃい。

たかし：バスの案内をありがとう。みなと野球場からやまだ病院にかけて、とても急な坂でおどろいたよ。

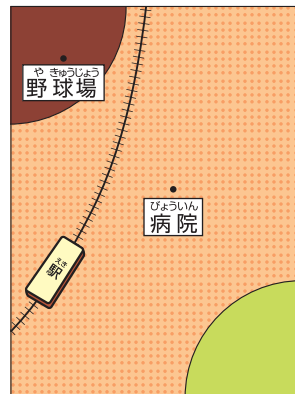
ようこ：やまだ駅や、やまだ病院は、みなと野球場より土地が高いんだよ。

(3) やまだ駅のまわりの土地の高さや、交通の様子を表した地図として正しいものを、次のア～ウの中から1つえらび、記号を書きなさい。(30点)

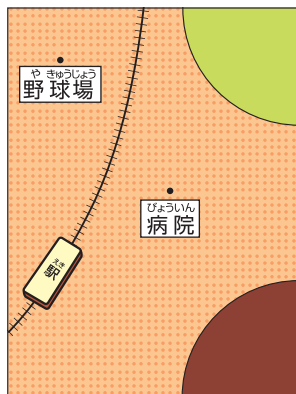
ア







イ



ウ



-  … 土地がひくいところ
-  … 土地が少し高いところ
-  … 土地が高いところ
-  … 鉄道

()

(4) やまだ駅の北は、店が多いところとなっています。店が多いところの様子を説明した文としてまちがっているものを、次のア～ウの中から1つえらび、記号を書きなさい。(20点)

ア 多くの人が行き来している。

イ 商店がいには、たくさんのしゅるいの店がある。

ウ 田や畑が広がっている。

()

