




地図記号テスト-1

つぎの地図記号が何をあらわしているか、() の中に書きなさい。

 (しやくしよ) 市役所	 (ほけんしよ) 保健所	 (こうとうがっこう) 高等学校	 (としよかん) 図書館
 (ちようそんやくば) 町村役場	 (けいさつしよ) 警察署	 (小・中学校) 小・中学校	 (じんじや) 神社
 (ぜいむしよ) 税務署	 (交番) 交番	 (大学) 大学	 (じいん) 寺院
 (しょうぼうしよ) 消防署	 (ゆうびんきよく) 郵便局	 (はくぶつかん) 博物館	 (びょういん) 病院
 (かんこうしよ) 官公署	 (きしやうだい) 気象台	 (さいばんしよ) 裁判所	 (ふうしや) 風車
 (ろうじん) 老人ホーム	 (しんりんかんりしよ) 森林管理署	 (さいせきち) 採石地	 (さいこうち) 採鉱地
 (工場) 工場	 (じえいたい) 自衛隊	 (えんとつ) 煙突	 (こうこう) 坑口