









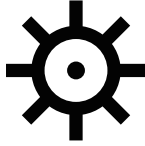



















地図記号テスト-2

つぎの地図記号が何をあらわしているか、() の中に書きなさい。

 はつでんじよ・へんでんじよ (発電所・変電所)	 しせき めいしやう てんねんきねんぶつ (史跡・名勝・天然記念物)	 でんぱとう (電波塔)	 ぼち (墓地)
 おんせん (温泉)	 こうとう (高塔)	 ゆせい がすせい (油井・ガス井)	 ふんかこう ふんきこう (噴火口・噴気孔)
 しろ (城あと)	 きねんひ (記念碑)	 とうだい (灯台)	 じゅうようこう (重要港)
 ちほうこう (地方港)	 ぎょこう (漁港)	 フェリー	 た りよかくせん (その他の旅客船)
 田	 くわばたけ (桑畑)	 はたけ (畑)	 ちやばたけ (茶畑)
 かじゅえん (果樹園)	 ちくりん (竹林)	 こうようじゅりん (広葉樹林)	 しんようじゅりん (針葉樹林)
 ハイマツ地	 ささち (笹地)	とちようす (土地の様子)  (その他の樹木畑)	 あれち (荒地)