

やってみよう!

わりざん すてっぷ2(1)

はじめてのわり算

対象：幼児～小学3年生

ねらい：小学校でわり算を習う前でも、
お子さんが興味を持ったタイミングで
簡単なわり算に挑戦してみましょう。

なまえ


学習プリント無料ダウンロード

ちびむすドリル

© ちびむすドリル



ふうせんが 6こ あります。



●こびとは なんにん いますか。

こたえ にん

●ふうせんを こびとに おなじ かずずつ わけると、
こびと ひとりぶんの ふうせんは なんこ ですか。

こたえ こ

● この ふうせんを にんの こびとに

おなじ かずずつ わけると、 ひとりぶんは こ です。

●うえの に あてはまる すうじを かきましょう。

●わりざんの しきを かきましょう。

$$\begin{array}{c} \boxed{} \\ \uparrow \\ \text{ぜんぶの かず} \end{array} \div \begin{array}{c} \boxed{} \\ \uparrow \\ \text{いくつぶん} \end{array} = \begin{array}{c} \boxed{} \\ \uparrow \\ \text{1つぶんの かず} \end{array}$$

やってみよう!

わりざん すてっぷ2(2)

はじめてのわり算

対象：幼児～小学3年生

ねらい：小学校でわり算を習う前でも、
お子さんが興味を持ったタイミングで
簡単なわり算に挑戦してみましょう。

なまえ


学習プリント無料ダウンロード

ちびむすドリル

© ちびむすドリル



■ どうなっつが 6こ あります。



● おさらは なんまい ありますか。

こたえ

まい

● どうなっつを おさらにおなじ かずずつ わけると、
おさら 1まいぶんの どうなっつは なんこ ですか。

こたえ

こ

● この どうなっつを まいの おさら

おなじ かずずつ わけると、 1まいぶんは こ です。

● うえの に あてはまる すうじを かきましょう。

● わりざんの しきを かきましょう。

$$\begin{array}{c} \square \\ \uparrow \\ \text{ぜんぶの かず} \end{array} \div \begin{array}{c} \square \\ \uparrow \\ \text{いくつぶん} \end{array} = \begin{array}{c} \square \\ \uparrow \\ \text{1つぶんの かず} \end{array}$$

やってみよう!

わりざん すてっぷ2(3)

はじめてのわり算

対象：幼児～小学3年生

ねらい：小学校でわり算を習う前でも、
お子さんが興味を持ったタイミングで
簡単なわり算に挑戦してみましょう。

なまえ



学習プリント無料ダウンロード

ちびむすドリル

© ちびむすドリル



いちごが 8こ あります。



● けえきは いくつ ありますか。

こたえ つ

● いちごを けえきの うえに おなじ かずずつ わけると、
けえき ^{ひと} 1つぶんの いちごは なんこ ですか。

こたえ こ

● この いちごを つの けえきの うえに

おなじ かずずつ わけると、 1つぶんは こ です。

● うえの に あてはまる すうじを かきましょう。

● わりざんの しきを かきましょう。

$$\begin{array}{c} \square \\ \uparrow \\ \text{ぜんぶの かず} \end{array} \div \begin{array}{c} \square \\ \uparrow \\ \text{いくつぶん} \end{array} = \begin{array}{c} \square \\ \uparrow \\ \text{1つぶんの かず} \end{array}$$

やってみよう!

わりざん すてっぷ2(4)

はじめてのわり算

対象：幼児～小学3年生

ねらい：小学校でわり算を習う前でも、
お子さんが興味を持ったタイミングで
簡単なわり算に挑戦してみましょう。

なまえ




学習プリント無料ダウンロード

ちびむすドリル

© ちびむすドリル



■ どうなっつが 9こ あります。



● おさらは なんまい ありますか。

こたえ

まい

● どうなっつを おさらにおなじ かずずつ わけると、
おさら 1まいぶんの どうなっつは なんこ ですか。


こたえ

こ


● この どうなっつを まいの おさらにおなじ かずずつ わけると、 1まいぶんは こ ですか。

● うえの に あてはまる すうじを かきましょう。



● わりざんの しきを かきましょう。



ぜんぶの かず



いくつぶん



1つぶんの かず

やってみよう!

わりざん すてっぷ2(5)

はじめてのわり算

対象：幼児～小学3年生

ねらい：小学校でわり算を習う前でも、
お子さんが興味を持ったタイミングで
簡単なわり算に挑戦してみましょう。

なまえ

学習プリント無料ダウンロード

ちびむすドリル

© ちびむすドリル



ふうせんが 10 こ あります。



●こびとは なんにん いますか。

こたえ にん

●ふうせんを こびとに おなじ かずずつ わけると、
こびと ひとりぶんの ふうせんは なんこ ですか。

こたえ こ

● この ふうせんを にんの こびとに

おなじ かずずつ わけると、 ひとりぶんは こ です。

●うへの に あてはまる すうじを かきましょう。

●わりざんの しきを かきましょう。



↑
ぜんぶの かず

↑
いくつぶん

↑
1つぶんの かず