

やってみよう!

わりざん すてっぷ2(1)

はじめてのわり算

対象：幼児～小学3年生

ねらい：小学校でわり算を習う前でも、
お子さんが興味を持ったタイミングで
簡単なわり算に挑戦してみましょう。

なまえ


学習プリント無料ダウンロード

ちびむすドリル

© ちびむすドリル



ふうせんが 6こ あります。



●こびとは なんにん いますか。

こたえ 3 にん

●ふうせんを こびとに おなじ かずずつ わけると、
こびと ひとりぶんの ふうせんは なんこ ですか。

こたえ 2 こ

● 6 この ふうせんを 3 にんの こびとに

おなじ かずずつ わけると、 ひとりぶんは 2 こ です。

●うえの □ に あてはまる すうじを かきましょう。

●わりざんの しきを かきましょう。

$$\begin{array}{c} \boxed{6} \\ \uparrow \\ \text{ぜんぶの かず} \end{array} \div \begin{array}{c} \boxed{3} \\ \uparrow \\ \text{いくつぶん} \end{array} = \begin{array}{c} \boxed{2} \\ \uparrow \\ \text{1つぶんの かず} \end{array}$$

やってみよう!

わりざん すてっぷ2(2)

はじめてのわり算

対象：幼児～小学3年生

ねらい：小学校でわり算を習う前でも、
お子さんが興味を持ったタイミングで
簡単なわり算に挑戦してみましょう。

なまえ

学習プリント無料ダウンロード

ちびむすドリル

© ちびむすドリル



■ どうなっつが 6こ あります。



● おさらは なんまい ありますか。

こたえ **2** まい

● どうなっつを おさらにおなじ かずずつ わけると、
おさら 1まいぶんの どうなっつは なんこ ですか。

こたえ **3** こ

● **6** この どうなっつを **2** まいの おさらにおなじ

かずつ わけると、 1まいぶんは **3** こです。

● うえの □ に あてはまる すうじを かきましょう。

● わりざんの しきを かきましょう。

$$\boxed{6} \div \boxed{2} = \boxed{3}$$

↑ ぜんぶの かず ↑ いくつぶん ↑ 1つぶんの かず

やってみよう!

わりざん すてっぷ2(3)

はじめてのわり算

対象：幼児～小学3年生

ねらい：小学校でわり算を習う前でも、
お子さんが興味を持ったタイミングで
簡単なわり算に挑戦してみましょう。

なまえ



学習プリント無料ダウンロード

ちびむすドリル

© ちびむすドリル



いちごが 8こ あります。



● けえきは いくつ ありますか。

こたえ 2 つ

● いちごを けえきの うえに おなじ かずずつ わけると、
けえき ^{ひと} 1つぶんの いちごは なんこ ですか。

こたえ 4 こ

● 8 この いちごを 2 つの けえきの うえに

おなじ かずずつ わけると、 1つぶんは 4 こ です。

● うえの □ に あてはまる すうじを かきましょう。

● わりざんの しきを かきましょう。

$$\begin{array}{c} \boxed{8} \\ \uparrow \\ \text{ぜんぶの かず} \end{array} \div \begin{array}{c} \boxed{2} \\ \uparrow \\ \text{いくつぶん} \end{array} = \begin{array}{c} \boxed{4} \\ \uparrow \\ \text{1つぶんの かず} \end{array}$$

やってみよう!

わりざん すてっぷ2(4)

はじめてのわり算

対象：幼児～小学3年生

ねらい：小学校でわり算を習う前でも、
お子さんが興味を持ったタイミングで
簡単なわり算に挑戦してみましょう。

なまえ


学習プリント無料ダウンロード

ちびむすドリル

© ちびむすドリル



■ どうなっつが 9こ あります。



● おさらは なんまい ありますか。

こたえ 3 まい

● どうなっつを おさらにおなじ かずずつ わけると、
おさら 1まいぶんの どうなっつは なんこ ですか。

こたえ 3 こ

● 9 この どうなっつを 3 まいの おさらにおなじ かずずつ わけると、

1まいぶんの 3 こ です。

● うえの □ に あてはまる すうじを かきましょう。

● わりざんの しきを かきましょう。

$$\begin{array}{c} \boxed{9} \\ \uparrow \\ \text{ぜんぶの かず} \end{array} \div \begin{array}{c} \boxed{3} \\ \uparrow \\ \text{いくつぶん} \end{array} = \begin{array}{c} \boxed{3} \\ \uparrow \\ \text{1つぶんの かず} \end{array}$$

やってみよう!

わりざん すてっぷ2(5)

はじめてのわり算

対象：幼児～小学3年生

ねらい：小学校でわり算を習う前でも、
お子さんが興味を持ったタイミングで
簡単なわり算に挑戦してみましょう。

なまえ

学習プリント無料ダウンロード

ちびむすドリル

© ちびむすドリル



■ ふうせんが 10 こ あります。



● こびとは なんにん いますか。

こたえ **5** にん

● ふうせんを こびとに おなじ かずずつ わけると、
こびと ひとりぶんの ふうせんは なんこ ですか。

こたえ **2** こ

● **10** この ふうせんを **5** にんの こびとに

おなじ かずずつ わけると、 ひとりぶんは **2** こ です。

● うえの □ に あてはまる すうじを かきましょう。

● わりざんの しきを かきましょう。

$$\begin{array}{c} \boxed{10} \\ \uparrow \\ \text{ぜんぶの かず} \end{array} \div \begin{array}{c} \boxed{5} \\ \uparrow \\ \text{いくつぶん} \end{array} = \begin{array}{c} \boxed{2} \\ \uparrow \\ \text{1つぶんの かず} \end{array}$$